

# الفهرس

رقم الصفحة	المحتوى
1	مقدمة عن المعادلات التفاضلية
11	الباب الاول
11	أولا : اتزان السلاسل والحبال الثقيلة المعلقة تحت تأثير الجاذبية الأرضية
11	(1) الكتينة العادية
11	إيجاد المعادلة الذاتية لمنحني الكتينة العادية
13	المعادلتان البارامتريتان للكتينة العادية
15	المعادلة الكرتيزية لمنحني الكتينة العادية
16	الشد عند اية نقطة
16	بعض العلاقات الأخرى للكتينة العادية
18	(2) اسلاك التليفون والتلغرف
19	(3) الكوبري المعلق
20	(4) الكتينة متغيرة الكثافة الطولية
22	(5) الكتينة منتظمة المتانة
24	أمثلة محلولة

40	ثانيا : إتزان الحبال والسلاسل علي اسطح خشنة
42	الحالات الخاصة
42	1- حبل خفيف علي اسطح ملساء
43	2- حبل ثقيل علي سطح املس
44	3- حبل خفيف علس سطح خشن
46	أمثلة محلولة
56	تمارين
59	الباب الثاني
59	مبادئ المرونة
59	أولا التشكيل في الاجسام تحت تأثير قوي خارجية حورية
59	1- التمدد ( الانكماش ) الاسطوانات ( في معامل ينج )
61	2- الإجهاد والانفعال تحت تأثير الوزن
63	3- الطاقة الداخلية المرنة
64	4- انكماش المقاطع نتيجة لإستطالة القضبان المرنة
65	امثلة محلولة
69	تمارين علي الباب الثاني

72	الباب الثالث
72	إتزان القضبان الرفيعة تحت تأثير قوي غير محورية
72	القوي القاصة وعزوم الانحناء
74	امثلة محلولة
95	معادلات الاتزان لقضيب رفيع منحنى
97	مثال توضيحي
99	تمارين
101	الباب الرابع
101	القضبان قليلة القابلية للانحناء
101	إنحناء القضبان
107	امثلة وتطبيقات
117	الحالات الغير محددة إستاتيكا
117	امثلة وتطبيقات
126	معادلة كلايرون للعزوم الثلاثة
126	اولا : معادلة كلايرون للعزوم الثلاثة للأحمال المركزة
128	ثانيا : معادلة العزوم اثلاثة لقضيب محمل بانتظام

129	المعادلة العامة للغزوم الثلاثة
129	أمثلة وتطبيقات
134	طاقة جهد قضيب نتيجة لإحنانه
136	أمثلة وتطبيقات
141	تمارين
143	الباب الخامس
143	إستاتيكا الموانع ( الهيدروستاتيكا )
143	مقدمة
143	القوي في الموانع
145	الضغط في مائع
145	شدة الضغط
146	المعادلات العامة لإتزان مائع
147	إتزان سائل متجانس
148	أمثلة وتطبيقات
152	إتزان غاز
155	أمثلة وتطبيقات

157	نظريات
158	إنتقال الضغط
160	الضغط علي السطوح المستوية
161	أمثلة وتطبيقات
165	مركز الضغط
167	أمثلة وتطبيقات
177	الضغط الكلي علي السطوح المنحنية المغمورة في سائل
178	أمثلة وتطبيقات
186	إتزان الاجسام في السوائل
186	أمثلة وتطبيقات
189	استقرار الاجسام الطافية
190	استقرار الاتزان للازاحات الانتقالية
191	إيجاد شرط الاتزان المستقر للازاحة الدورانية
196	أمثلة وتطبيقات
198	تمارين
201	الباب السادس

201	الجذب والجهد
201	المجال والجهد
201	الجذب بين سلك رفيع ونقطة مادية
207	الجذب المتبادل بين سلكين رفيعين علي استقامة واحدة
209	الجذب بين قوسس دائري ونقطة مادية علي محوره
210	الزاوية المجسمة
212	مجال صفيحة مستوية عند نقطة خارجها
213	أمثلة

بسم الله الرحمن الرحيممقدمة عن المعادلات التفاضليةالمعادلات التفاضليةتعريف :

هي معادلة تربط بين متغيرين احدهما متغير تابع والاخر متغير مستقل وبين المشتقات التفاضلية للمتغير التابع بالنسبة للمتغير المستقل ومن اي رتبة تسمى معادلة تفاضلية .  
او بمعنى اخر المعادلة التفاضلية هي معادلة تحتوى على مشتقات .

مثال

$$(1) \frac{dx}{dt} = t + 1$$

$$(2) \frac{d^2 x}{dt^2} + 3 \frac{dx}{dt} + x = 0$$

$$(3) \left( \frac{d^3 x}{dt^3} \right)^2 + \frac{d^2 x}{dt^2} + \frac{dx}{dt} = x$$

تعريف :

رتبة المعادلة هي رتبة اعلى مشتقة بها ، بينما درجة المعادلة التفاضلية هي درجة المشتقة الاعلى رتبة بالمعادلة .

مثال

المسألة (1) من المثال (1) هي معادلة من الرتبة الاولى والدرجة الاولى .  
المسألة (2) من المثال (1) هي معادلة من الرتبة الثانية والدرجة الاولى .  
المسألة (3) من المثال (1) هي معادلة من الرتبة الثالثة والدرجة الثانية .

لايجاد الحل للمعادلة التفاضلية سوف نجرى عملية التكامل عليها وعلى ذلك فان حل المعادلة التفاضلية لابد ان يحتوى على عدد من الثوابت يساوى رتبة المعادلة نفسها . فمثلا عند حل المعادلة التفاضلية التى من الرتبة الاولى فسنجرى التكامل مرة واحدة وعلى ذلك يحتوى الحل على ثابت واحد فقط وهكذا .  
وسوف ندرس فيما يلى حل لبعض المعادلات التفاضلية التى ستقابلنا اثناء دراستنا وسنعتبر المتغير  $x$  المسافة هى المتغير التابع اما المتغير المستقل نعتبره الزمن  $t$

## 1-المعادلات التفاضلية من الرتبة الاولى :

وتظهر هذه المعادلات فى صيغ كثيرة سنورد منها ما سوف يقابلنا اثناء دراستنا فمثلا .

$$f(x) \frac{dx}{dt} = g(t) \quad (1)$$

حيث  $g(t)$  دالة فى  $t$  و  $f(x)$  دالة فى المتغير  $x$  .

وهذه معادلة من الرتبة الاولى (اذ انها تحتوى على  $\frac{dx}{dt}$  فقط) ومن الدرجة الاولى حيث  $\frac{dx}{dt}$  مرفوع الى الاس واحد ويمكن حل مثل هذه المعادلات مباشرة بطريقة ما تعرف بطريقة فصل المتغيرات فيمكن الفصل بين متغيرين  $x, t$  بالصورة

$$f(x)dx = g(t) dt$$

وبجاء التكامل نحصل على

$$\int f(x)dx = \int g(t) dt + c$$

حيث  $c$  ثابت التكامل . ومن ذلك يمكن ايجاد  $x$  بدلالة المتغير المستقل  $t$  . ومن الممكن ايجاد المعادلة (1) على الصورة

$$f(x) = g(t) \frac{dx}{dt} \quad (2)$$

التى يمكن ايضا حلها بنفس طريقة فصل المتغيرات وذلك على الصورة

$$\int \frac{dx}{f(x)} = \int \frac{dt}{g(t)} + c$$

حيث  $c$  ثابت التكامل .



**مثال :**

حل المعادلات التفاضلية الآتية

(i)  $\sin x \frac{dx}{dt} = 3t$

(ii)  $t^2 \frac{dx}{dt} = x^3$

**الحل :**

باستخدام طريقة فصل المتغيرات السابقة .

(i)  $\int \sin x \, dx = \int 3t \, dt$   
 $-\cos x = \frac{3}{2}t^2 + c$

$\therefore x = \cos^{-1}\left(-\frac{3t^2}{2} - c\right)$

(ii)  $\int \frac{dx}{x^3} = \int \frac{dt}{t^2}$   
 $-\frac{x^{-2}}{2} = -\frac{1}{t} + c$

$\therefore x = \left(\frac{2}{t} - 2c\right)^{-1/2}$

**2- المعادلات التفاضلية من الرتبة الثانية**

وسنعتبر فقط ما يمكن تحويله الى معادلة تفاضلية من الرتبة الاولى فاذا كانت المعادلة على الصورة

$$\frac{d^2 x}{dt^2} + f(x) \left(\frac{dx}{dt}\right)^2 = g(x)$$

بوضع  $y = \left(\frac{dx}{dt}\right)^2$  يكون

$$\frac{dy}{dt} = 2 \left( \frac{dx}{dt} \right) \frac{d^2 x}{dt^2}$$

$$\frac{dy}{dx} \frac{dx}{dt} = 2 \left( \frac{dx}{dt} \right) \frac{d^2 x}{dt^2}$$

$$\therefore \frac{1}{2} \frac{dy}{dx} = \frac{d^2 x}{dt^2}$$

وعلى ذلك تؤول المعادلة (3) الى الصورة

$$\frac{dy}{dx} + 2f(x)y = 2g(x)$$

وهى معادلة تفاضلية من الرتبة الاولى منها المتغير المستقل هو  $x$  والمتغير التابع هو  $y$  والتي سنورد بعد ذلك حل مثل هذه المعادلات . كذلك المعادلات التفاضلية التي على الصورة

$$\frac{d^2 x}{dt^2} = f(x) \quad (4)$$

$$y = \frac{dx}{dt} \text{ ان نفرض ان}$$

$$\therefore \frac{dy}{dt} = \frac{d^2 x}{dt^2}$$

$$\frac{dy}{dx} \cdot \frac{dx}{dt} = \frac{d^2 x}{dt^2}$$

$$y = \frac{dy}{dx} = \frac{d^2 x}{dt^2}$$

وتصبح المعادلة (4) على الصورة

$$y dy = f(x) dx$$

وذلك بعد فصل المتغيرات في المعادلة التفاضلية من الرتبة الاولى فيها المتغير المستقل  $x$  والمتغير التابع  $y$  وبذلك يمكن حل المعادلة بسهولة كما سبق

3- المعادلات التفاضلية الخطية

المعادلات التفاضلية التي على الصورة

$$F_n(t) \frac{d^n x}{dt^n} + F_{n-1}(t) \frac{d^{n-1} x}{dt^{n-1}} + \dots + F_2(t) \frac{d^2 x}{dt^2} + F_1(t) \frac{dx}{dt} + F_0(t)x = \varphi(t) \quad (5)$$

حيث  $F_n(t), \dots, F_0(t), \varphi(t)$  دوال في المتغير المستقل  $t$  مثل هذه المعادلات تسمى معادلة تفاضلية خطية من رتبة  $n$  ذات المعاملات المتغيرة .

(أ) اذا كانت  $\varphi(t)$  تساوى الصفر فان هذه المعادلة تسمى معادلة تفاضلية متجانسة.

(ب) اذا كانت  $F_0, \dots, F_n$  ثوابت تسمى المعادلات التفاضلية معادلة تفاضلية خطية من رتبة  $n$  وذات معاملات ثابتة

نعتبر الان المعادلات التفاضلية الخطية من الرتبة الاولى والتي يمكن وضعها على الصورة

$$F_1(t) \frac{dx}{dt} + F_0(t)x = \varphi(t) \quad (6)$$

بالقسمة على  $F_1(t)$  نحصل على صيغة المعادلة (6) في الصورة

$$\frac{dx}{dt} + F(t)x = g(t) \quad (7)$$

وهي الصورة القياسية للمعادلة التفاضلية الخطية من الرتبة الاولى حيث  $F(t), g(t)$  دوال في المتغير  $t$ .  
ولحل المعادلة (7) نضرب طرفيها في دالة ما  $\mu(t)$  دالة في الزمن  $t$  المتغير المستقل ونحاول وضع الطرف الايسر للمعادلة (7) على صورة تفاضل تام لحاصل ضرب الدالتين احدهما هي  $\mu$  نفسها والثانية هي المتغير التابع  $x$  نفسه ولكي يتحقق ذلك يكون المقدار

$$\frac{d}{dt}(x\mu) = \mu \frac{dx}{dt} + x \frac{d\mu}{dt}$$

مساوى للطرف الايسر للمعادلة (7) اي انه يجب ان يكون

$$\mu \frac{dx}{dt} + x \frac{d\mu}{dt} = \mu \frac{dx}{dt} + \mu x F(t)$$

(وذلك بعد ضرب المعادلة (7) في  $\mu$ ) وعلى هذا يجب ان يكون .

$$\frac{d\mu}{dt} = \mu F(t)$$

$$\frac{d\mu}{\mu} = F(t)dt$$

وبالتكامل يمكن الحصول على على الدالة  $\mu$

$$\ln \mu = \int F(t) dt$$

$$\therefore \mu = e^{\int F(t) dt}$$

(ولا داعى لكتابة ثابت التكامل اذ ليس له اى قيمة هنا ) وبذلك اذا ضرب طرفى المعادلة (7) فى الدالة  $\mu = e^{\int F(t) dt}$  فانه سوف يكون الطرف الايسر عبارة عن تفاضل حاصل ضرب الدالتين  $\mu x$  اى ان المعادلة (7) سوف تاخذ الصورة .

$$\frac{d}{dt}(\mu x) = \mu g(t)$$

والذى يمكن تكاملها بسهولة اذ ان الطرف الايمن دالة فى المتغير  $t$

$$\mu x = \int \mu(t) g(t) dt + c$$

ويكون

$$x = e^{-\int F(t) dt} \int \mu(t) g(t) dt + c e^{-\int F(t) dt}$$

وهو حل المعادلة التفاضلية (7). الدالة  $\mu(t)$  تسمى بمعامل التكامل

## مثال :

حل المعادلة التفاضلية

$$(i) \frac{dx}{dt} + x \tan t = 5 \cos t$$

$$(ii) \frac{dx}{dt} + \frac{x}{3t} = 5t^2$$

## الحل

$$(i) \frac{dx}{dt} + x \tan t = 5 \cos t$$

$$\begin{aligned} \mu &= e^{\int \tan t dt} = e^{-\ln \cos t} = e^{\ln \frac{1}{\cos t}} \\ &= e^{\ln \sec t} = \sec t \end{aligned}$$

بضرب طرفى المعادلة (i) فى معامل التكامل

$$\sec t \frac{dx}{dt} + x \sec t \tan t = 5 \cos t \sec t$$

$$\frac{d}{dx}(x \sec t) = 5$$

$$\int d(x \sec t) = \int 5 dt$$

$$x \sec t = 5t + c$$

$$x = 5t \cos t + c \cos t$$

وهو حل لمعادلة التفاضلية (i).

$$(ii) \frac{dx}{dt} + \frac{x}{3t} = 5t^2$$

$$\therefore \mu = e^{\int \frac{dt}{3t}} = e^{\frac{1}{3} \ln t} = e^{\ln t^{1/3}} = t^{1/3}$$

بضرب طرفي المعادلة في  $t^{1/3}$

$$t^{1/3} \frac{dx}{dt} + \frac{x}{3t} t^{1/3} = 6t^2 t^{1/3}$$

$$t^{1/3} \frac{dx}{dt} + \frac{x}{3t^{2/3}} = 5t^{7/3}$$

$$\frac{d}{dt}(t^{1/3} x) = 5t^{7/3}$$

$$\int dt^{1/3} x = 5 \int t^{7/3} dt$$

$$\therefore t^{1/3} x = \frac{15}{10} t^{10/3} + c$$

$$\therefore x = \frac{3}{2} t^3 + c t^{-1/3}$$

وهو حل لمعادلة التفاضلية (ii)

الحل السابق يسمى بالحل العام للمعادلة التفاضلية الخطية ونلاحظ انه ينقسم الى كمييتين الاولى لا تحتوي على ثابت والآخرى تحتوي على عدد من الثوابت يساوى رتبة المعادلة .  
الجزء الاول يسمى بالحل الخاص للمعادلة التفاضلية تحقق المعادلة التفاضلية. والجزء الآخر هو حل المعادلة التفاضلية المتجانسة اى عندما يكون الطرف الايمن  $y(t) = 0$  يساوى صفرا وعلى ذلك يكون الحل العام للمعادلة هو

هو مجموع الحلين الحل الخاص وحل المعادلة المتجانسة. ويمكن تعميم هذه الخاصية في حل اى معادلة تفاضلية من رتبة اكبر من الاولى . فالحل العام بذلك يتكون من جزئين .  
 (أ) حل خاص وهو اى حل يحقق المعادلة وخالى من الثوابت .  
 (ب) حل للمعادلة المتجانسة ويحتوى على عدد من الثوابت الاختبارية تساوى رتبة المعادلة .

**ففى المثال الاول :** نجد ان الحل الخاص هو  $5t \cos t$  وهو يحقق المعادلة الاولى وحل اخر  $\cos t$  وضرب

$$\text{فى ثابت } c \text{ ويمكن التأكد من انه حل للمعادلة المتجانسة } \frac{dx}{dt} + x \tan t = 0 .$$

**فى المثال الثانى :** نجد ان  $3/2t^3$  هو حل خاص وان  $t^{-3/2}$  هو حل المعادلة المتجانسة .

#### (4) المعادلة التفاضلية الخطية من الرتبة الثانية :

سنعتبر فقط حل المعادلة التفاضلية الخطية ذات المعاملات الثابتة ويمكن وضعها على الصورة

$$\frac{d^2 x}{dt^2} + 2k \frac{dx}{dt} + w^2 x = \varphi(t) \quad (9)$$

كما سبق نعتبر اولاً المعادلة التفاضلية المتجانسة ونوجد حلها الذى يجب ان يحتوى على ثابتين وعلى ذلك سوف نحل المعادلة المتجانسة .

$$\frac{d^2 x}{dt^2} + 2k \frac{dx}{dt} + w^2 x = 0 \quad (10)$$

لحل هذه المعادلة نفرض حل لها على الصورة

$$x = c e^{\alpha t} \quad (11)$$

وبالتعويض نحصل على المعادلة (10) فى الصورة (اذ ان المعادلة (11) حل للمعادلة (10) فيجب ان يحققها )

$$x = c \alpha e^{\alpha t}, \quad \ddot{x} = c \alpha^2 e^{\alpha t}$$

بالتعويض فى المعادلة (10)

$$\therefore \alpha^2 c e^{\alpha t} + 2k c \alpha e^{\alpha t} + w^2 c e^{\alpha t}$$

وبالقسمة على  $c e^{\alpha t} \neq 0$  نحصل على

$$\alpha^2 + 2k\alpha + w^2 = 0 \quad (12)$$

وهى معادلة جبرية من الدرجة الثانية فى  $\alpha$  والتي يمكن حلها وايجاد جذريها

$$\alpha_1, \alpha_2 = -k \pm \sqrt{k^2 - w^2} \quad (13)$$

وعلى ذلك يكون هناك حلان للمعادلة وهى

$$c_1 e^{\alpha_1 t}, c_2 e^{\alpha_2 t}$$

ويكون الحل العام للمعادلة (10) هو عبارة عن مجموع الحلين اذ يجب ان يحتوي على ثابتين اختياريين لانها معادلة تفاضلية من الرتبة الثانية.

$$\therefore x = c_1 e^{\alpha_1 t} + c_2 e^{\alpha_2 t} \quad (14)$$

حيث  $\alpha_1, \alpha_2$  هما جذري المعادلة (12) والتي تسمى بالمعادلة المساعدة (اى التى تساعد فى الحصول على الحل) من السهولة الحصول عليها مباشرة من المعادلة التفاضلية الاصلية (10). من المعادلة (13) التى تعين الجذرين  $\alpha_1, \alpha_2$  يتضح ان هناك ثلاث احتمالات لهذين الجذرين.

### (أ) إذا كان الجذران حقيقيين ومختلفين

اى  $k^2 > w^2$  وفى هذه الحالة سيكون حل المعادلة (10) هو (14)

### (ب) إذا كان الجذران حقيقيين ومتساويين

اى اذا كانت  $k^2 = w^2$  فيكون  $\alpha_1, \alpha_2$  ليكن كلا منهما مساويا  $\alpha$  مثلا فيصبح الحل فى الصورة

$$x = c_1 e^{\alpha t} + c_2 e^{\alpha t}$$

$$x = (c_1 + c_2) e^{\alpha t} = c e^{\alpha t}$$

ولكن الحل العام لا بد ان يحتوى على ثابتين وعلى ذلك فان هذا الحل لن يكون هو الحل العام للمعادلة التفاضلية (10) وقد وجد فى هذه الحالة ان الحل سوف ياخذ الصورة .

$$x = (c_1 + c_2 t) e^{\alpha t} \quad (15)$$

**(ج) اذا كان الجذران تخيلين مختلفين**

اى اذا كان  $k^2 < w^2$  فيوضع  $\beta = \sqrt{w^2 - k^2}$  نحصل على

$$\alpha_1 = -k + i\beta, \alpha_2 = -k - i\beta$$

ويصبح الحل العام (14) فى الصورة

$$x = e^{-kt} (c_1 e^{i\beta t} + c_2 e^{-i\beta t}) \quad (16)$$

وباستخدام العلاقات الاتية

$$e^{i\beta t} = \cos \beta t + i \sin \beta t$$

$$e^{-i\beta t} = \cos \beta t - i \sin \beta t$$

فان المعادلة (16) سوف تؤول الى

$$x = e^{-kt} [(c_1 + c_2) \cos \beta t + i(c_1 - c_2) \sin \beta t]$$

او نضع الخ فى الصورة

$$x = e^{-kt} [A \cos \beta t + B \sin \beta t]$$

(17)

**مثال**

حل المعادلات التفاضلية الخطية الاتية

$$(i) \frac{d^2 x}{dt^2} = 4 \frac{dx}{dt} - 3x$$

$$(ii) \frac{d^2 x}{dt^2} = 4 \frac{dx}{dt} - 4x$$

$$(iii) \frac{d^2 x}{dt^2} = 4 \frac{dx}{dt} - 13x$$

$$(iv) \ddot{x} - 4\dot{x} + 3x = 0$$

**الحل**

المعادلة المساعدة تكون على الصورة

$$\alpha^2 - 4\alpha + 3 = 0$$



$$\alpha_1, \alpha_2 = \frac{4 \pm \sqrt{16 - 12}}{2} = \frac{4 \pm \sqrt{4}}{2}$$

$$\alpha_1, \alpha_2 = 2 \pm 1 = 3, 1$$

$$x = A e^{3t} + B e^t$$

اي ان الجذران مختلفان وحقيقيان ويكون الحل على الصورة

$$(iv) \ddot{x} - 4\dot{x} + 4x = 0$$

المعادلة المساعدة تكون على الصورة

$$\alpha^2 - 4\alpha + 4 = 0$$

$$\alpha_1, \alpha_2 = \frac{4 \pm \sqrt{16 - 13.4}}{2} = 2$$

اي ان الجذرين متساويان وعلى ذلك يكون الحل العام للمعادلة هو

$$x = (c_1 + c_2 t) e^{2t}$$

$$(iii) \ddot{x} - 4\dot{x} + 13x = 0$$

المعادلة المساعدة تكون على الصورة

$$\alpha^2 - 4\alpha + 13 = 0$$

$$\alpha_1, \alpha_2 = \frac{4 \pm \sqrt{16 - 13.4}}{2} = 2 \pm 3i$$

وعى ذلك يكون الحل العام للمعادلة التفاضلية هو

$$x = c_1 e^{2t+3it} + c_2 e^{2t-3it}$$

$$= e^{2t} [c_1 e^{3it} + c_2 e^{-3it}] = e^{2t} [A \cos 3t + B \sin 3t].$$

-----  
-----  
-----

## الباب الاول

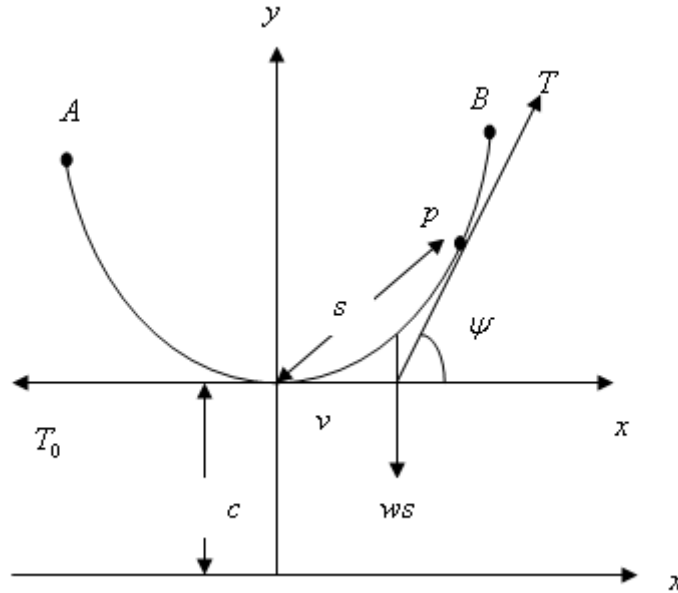
### اتزان السلاسل والحبال الثقيلة المعلقة تحت تاثير الجاذبية الارضية

#### (أ) الكتينة العادية

اذا علقت سلسلة ثقيلة منتظمة قابلة للثني بسهولة بين نقطتين فان المنحنى الذي تتخذه يسمى الكتينة العامة او الكتينة العادية

#### إيجاد المعادلة الذاتية لمنحنى الكتينة العادية:

نفرض سلسلة ثقيلة معلقة بين النقطتين  $A, B$  حيث  $AB$  افقى . نأخذ اسفل نقطة  $v$  فى السلسلة (تسمى براس الكتينة) كنقطة اصل للاحداثيات الذاتية . نأخذ الافقى كاتجاه لقياس زاوية ميل المماس وبأخذ اى نقطة اختيارية ولنكن النقط  $p$  من نقاط السلسلة ولنكن إحداثياتها  $(s, \psi)$  وبفرض ان وزن وحدة الاطوال من السلسلة وندرس إتزان الجزء  $v p$  طولها  $s$  والتي تؤثر عليه القوى الاتية



(1) وزن الجزء  $v\bar{p}$  ويساوى  $ws$  لاسفل.

(2) الشد  $T_0$  عند  $v$  وهو افقى لان النقطة  $v$  اسفل نقطة من الكتينة

(3) الشد  $T$  عند  $p$  فى اتجاه المماس للمنحنى عند  $p$ .

وحيث ان الجزء من الحبل  $vp$  متزن تحت تأثير ثلاثة قوى فانه يجب ان تتلاقى فى نقطة واحدة كما بالشكل. وبفرض ان المماس للمنحنى عند  $p$  يصنع زاوية  $\psi$  مع الافقى فانه بالتحليل فى الاتجاهين الافقى والراسى نجد ان

$$T \cos \psi = T_0 \quad (1.1.1)$$

$$T \sin \psi = ws \quad (1.1.2)$$

المعادلة (1.1.2) تبين إحدى الخواص المميزة للكتينة ، وهى ان المركبة الافقية للشد عند أى نقطة من نقاط السلسلة تكون ثابتة المقدار وتساوى الشد عند راس الكتينة .  
وبفرض ان الشد  $T_0$  يمثل وزن جزء من السلسلة طولة  $c$  أى ان

$$T_0 = wc \quad (1.1.3)$$

وبالتعويض من (1.1.3) فى (1.1.1) نحصل على

$$T \cos \psi = wc \quad (1.4)$$

بقسمة (1.1.2) على (1.1.4) نحصل على

$$\tan \psi = \frac{s}{c}$$

أى ان

$$s = c \tan \psi$$

$$(1.1.5)$$

وحيث ان المعادلة (1.1.5) تربط بين الاحداثيات الذاتية  $(s, \psi)$  فانها تسمى المعادلة الذاتية للكتينة . وحيث ان الثابت الوحيد فيها هو  $c$  ، فان  $c$  يسمى بارامتر الكتينة .

### المعادلتان البارامتريتان للكتينة

بفرض ان الاحداثيين الكرتيزيان للنقطة  $p$  هما  $(x, y)$  سنوجد الان المعادلتين الرامتريتين للكتينة ، أى سنوجد كلا من  $(x, y)$  كدالة فى بارامتر وسنرى انه يمكن ايجاد كلا من  $(x, y)$  كدالة فى الزاوية  $\psi$  .

$$\frac{dx}{d\psi} = \frac{dx}{ds} \frac{ds}{d\psi} \quad (1.1.6)$$

بتفاضل المعادلة (1.1.5) بالنسبة الى  $\psi$  نحصل على

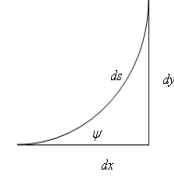
$$\frac{ds}{d\psi} = c \sec^2 \psi \quad (1.1.7)$$

ايضا واضح ان

$$\frac{dx}{ds} = \cos \psi \quad (1.1.8)$$

بالتعويض من (1.1.7) ، (1.1.8) في (1.1.6) نحصل على

$$\begin{aligned} \frac{dx}{d\psi} &= c \sec^2 \psi \cos \psi \\ &= c \sec \psi \end{aligned}$$



وبفصل المتغيرات والتكامل نحصل على

$$x = c \ln (\sec \psi + \tan \psi) + c_1$$

حيث  $c_1$  ثابت . وباختيار المحور الرأسى  $xy$  مارا باسفل نقطة من الكتينة فإنه عند  $\psi = 0$  ,  $x = 0$  وبالتعويض نجد ان قيمة الثابت  $c_1 = 0$  .

$$x = c \ln (\sec \psi + \tan \psi) \quad (1.1.9)$$

المعادلة (1.1.9) تعطينا  $x$  كدالة في البارامتر  $\psi$  .  
بالنسبة الى المعادلة البارامترية الاخرى الخاصة بالاحداثى  $y$  كدالة في  $\psi$  فإن

$$\frac{dy}{d\psi} = \frac{dy}{dx} \cdot \frac{ds}{d\psi} \quad (1.1.10)$$

وحيث ان

$$\frac{dy}{ds} = \sin \psi \quad (1.1.11)$$

بالتعويض من (1.1.7) ، (1.1.11) في (1.1.10) نحصل على

$$\frac{dy}{d\psi} = c \sin \psi \sec^2 \psi = c \sec \psi \tan \psi$$

بالتكامل نجد ان

$$y = c \sec \psi + c_2$$

حيث  $c_2$  ثابت التكامل . وباختيار المحور  $x$  منخفضا مسافة  $c$  عن اسفل نقطة من الكتيبة  $\psi$  فانه عند النقطة  $\psi$  يكون  $\psi = 0$  ,  $y = c$  بالتالى يكون  $c_2 = 0$  .

$$\therefore y = c \sec \psi \quad (1.1.12)$$

المعادلتان (1.1.12)،(1.1.9) هما المعادلتان البارامتريتان لمنحنى الكتيبة

### المعادلة الكارتيزية لمنحنى الكتيبة :

بحذف البارمتر  $\psi$  بين المعادلتين (1.12)،(1.9) نحصل على علاقة بين الاحداثيين  $x, y$  وتكون هي المعادلة الكارتيزية للكتيبة من المعادلة (9) فان

$$\begin{aligned} \sec \psi + \tan \psi &= e^{x/c} \\ \sec^2 \psi - \tan^2 \psi &= 1 \end{aligned} \quad (1.1.13)$$

وحيث ان

$$(\sec \psi - \tan \psi) = \frac{1}{\sec \psi + \tan \psi} = \frac{1}{e^{x/c}} = e^{-x/c}$$

$$\therefore \sec \psi - \tan \psi = e^{-x/c} \quad (1.1.14)$$

بجمع (1.1.14)، (1.1.13) نحصل على

$$2 \sec \psi = e^{x/c} + e^{-x/c}$$

باستخدام العلاقة (1.1.12) نحصل على  
(1.1.15)

$$y = c \cosh (x/c)$$

وهي علاقة بين  $(x, y)$  وهي المعادلة الكارتيزية لمنحنى الكتينة .

### الشّد عند ايه نقطة :

من المعادلة (1.1.4) فإن

$$T = wc \sec \psi$$

وباستخدام المعادلة (1.1.12) نجد ان  
(1.1.16)

$$T = wy$$

المعادلة (1.1.16) تعين الشّد عند اى نقطة من نقاط السلسلة .

### بعض العلاقات الاخرى للكتينة :

$$\therefore S = c \tan \psi ,$$

$$y = c \sec \psi$$

$$\therefore S^2 = c^2 \tan^2 \psi ,$$

$$y^2 = c^2 \sec^2 \psi$$

$$\therefore S^2 = c^2 (\sec^2 \psi - 1),$$

$$S^2 = c^2 \sec^2 \psi - c^2 = y^2 - c^2$$

$$\therefore y^2 = S^2 + c^2$$

(1.1.17)

العلاقة (1.1.17) تربط بين  $S$  والاحداثى الراسى عند اى نقطة من الكتينة .  
بالتعويض من العلاقة (1.1.15) عن قيمة  $y$  بدلالة  $x$  فان المعادلة (1.1.17) تصبح

$$\begin{aligned} S^2 &= c^2 (\cosh^2(x/c) - 1) \\ &= c^2 \sinh^2(x/c) \end{aligned}$$

اي ان

$$S = c \sinh\left(\frac{x}{c}\right) \quad (1.1.18)$$

العلاقة (1.1.18) تربط بين  $S$  والاحداثى الافقى  $x$  عند اى نقطة على منحنى الكتينة.

$$\begin{aligned} \therefore S &= c \tan \psi & , y &= c \sec \psi \\ \therefore \tan \psi &= \frac{S}{c} & , \sec \psi &= y/c \\ \therefore x &= c \ln(\sec \psi + \tan \psi) \end{aligned}$$

$$\therefore x = c \ln\left(\frac{y + S}{c}\right) \quad (1.1.19)$$

العلاقة (1.1.19) تربط بين  $S$  والاحداثى  $(x, y)$  عند اى نقطة على المنحنى الكتينة

### ملحوظة

المحور  $x$  يسمى دليل الكتينة واذا كانت نقطتى التعليق تقعان على نفس الخط الافقى فان البعد بينهما يسمى بفتحة او بحر الكتينة. فى هذه الحالة فان عمق الرأس  $v$  عن  $AB$  يسمى بسهم الكتينة  $\sigma$ . كما ان المنحنى فى هذه الحالة يكون متماثلا حول المحور  $y$  فإذا كان طول السلسلة  $2l$  فإن  $\sigma$  يمكن إيجادها بمعلومية  $(l, c)$  كالاتى.  
بتطبيق العلاقة (1.1.17) عند إحدى نقطتى التعليق يكون

$$\begin{aligned} (c + \sigma)^2 &= l^2 + c^2 \\ \therefore c + \sigma &= \sqrt{l^2 + c^2} \end{aligned}$$

$$\therefore \sigma = -c + \sqrt{l^2 + c^2} \quad (1.1.20)$$

(2) اسلاك التليفون والتلغراف

من المعروف انه عند تركيب اسلاك التليفون او التلغراف بين الاعمدة فانه يتم شد السلك عند نقاط التعليق بحيث يصل الشد عندها الى اقصى قيمة يمكن للسلك ان يتحملها ، والهدف من ذلك هو ان تصل اسفل نقطة من نقاط السلك الى اقصى ارتفاع ممكن لها على الارض اى ان الزيادة فى الشد عند نقاط التعليق يؤدى الى زيادة البارمتر  $c$  وبالتالي يتناقص المقدار  $\frac{x}{c}$ .

فاذا فرضنا ان الشد قد تزايد حتى وصل الى قيمة عندها يمكن اهمال القوى الرابعة والاعلى للمقدار  $\frac{x}{c}$  فان المفكوك

$$y = c \cosh \frac{x}{c} = \frac{c}{2} [e^{x/c} + e^{-x/c}]$$

$$= \frac{c}{2} \left[ \left\{ 1 + \frac{x}{c} + \frac{1}{2} \left( \frac{x}{c} \right)^2 + \frac{1}{6} \left( \frac{x}{c} \right)^3 + \frac{1}{24} \left( \frac{x}{c} \right)^4 + \dots \right\} \right]$$

$$+ \left\{ 1 - \frac{x}{c} + \frac{1}{2} \left( \frac{x}{c} \right)^2 - \frac{1}{6} \left( \frac{x}{c} \right)^3 + \frac{1}{24} \left( \frac{x}{c} \right)^4 \dots \right\}$$

$$\therefore y = \frac{c}{2} \left[ 2 + \left( \frac{x}{c} \right)^2 + \frac{1}{12} \left( \frac{x}{c} \right)^4 + \dots \right]$$

ويمكن كتابتها فى الصورة

$$y = \frac{c}{2} \left[ 2 + \left( \frac{x}{c} \right)^2 + \dots \right]$$

$$y = c + \frac{x^2}{2c}$$

$$\therefore x^2 = 2c(y - c)$$

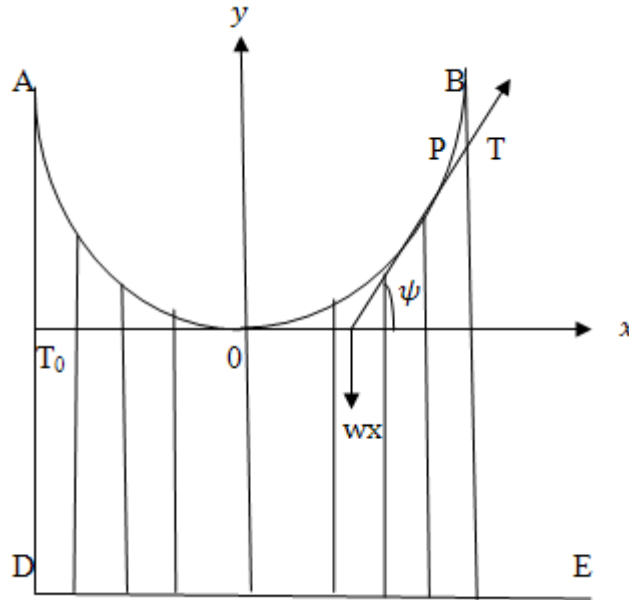
(1.1.21)



وهي معادلة قطع مكافئ راسه عند النقطة  $(0, c)$  وطول وتره البؤري العمودي يساوي  $2c$ .

### (3) الكوبرى المعلق :

هو عبارة عن كبل مهمل الوزن بين نقطتين  $A, B$  يحمل قوائم راسية مهملة الوزن ايضا وتحمل بدورها الطريق  $DE$  وهو الحمل الاساسي على الكوبرى . ويتم تصميم الكوبرى المعلق بحيث يكون وزن الطريق وما يمر عليه موزعا توزيعا افقيا منتظما اي وزن وحدة الاطوال  $\omega$  من الطريق يكون ثابت .



لايجاد المنحنى الذى ياخذ الكبل  $AB$  فى هذه الحالة نأخذ نقطة الاصل  $0$  للمحاور الكرتيزية والذاتية عند اسفل نقطة من الكبل (المماس عندها يكون افقيا) والمحور  $ox$  افقيا والمحور  $oy$  راسيا الى اعلى وياخذ اى نقطة اختيارية  $p$  من نقاط الكبل ولتكن احداثياتها  $(x, y)$  ودراسة اتران الجزء  $op$  من الكبل تحت تاثير ثلاثة قوى هما  $T, T_0$  والوزن  $\omega x$ .

$$T \cos \psi = T_0 \quad (1.1.22)$$

$$T \sin \psi = wx \quad (1.1.23)$$

ومن ثم فان

$$\tan \psi = \frac{\omega x}{T_0}$$

وبذلك يمكن كتابتها على الصورة

$$\frac{dy}{dx} = \frac{\omega x}{T_0}$$

وبالتكامل نحصل على

$$y = \frac{\omega x^2}{2T_0} + c_1$$

وفيها يتلاشى التكامل  $(x, y)$  عند النقطة 0.

$$\therefore y = \frac{\omega x^2}{2T_0} \quad (1.1.24)$$

المعادلة (1.1.24) تمثل معادلة قطع مكافئ محوره راسى وراسة الى اسفل وطول وتره البورى العمودى يساوى  $\frac{2T_0}{\omega}$ .

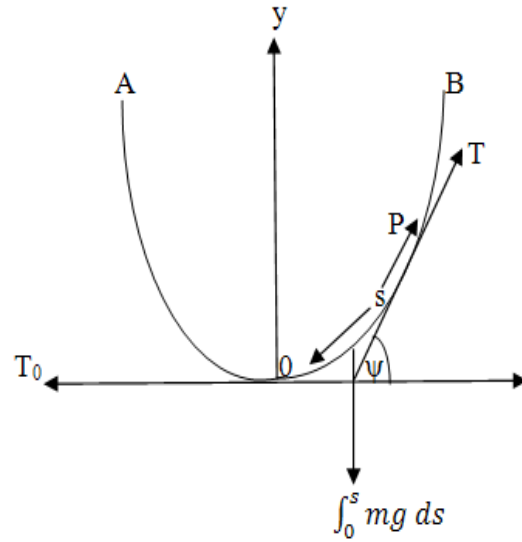
اما الشد فى الكبل عند النقطة الاختيارية  $p$  فيمكن الحصول عليه مباشرة من معادلات الاتزان كالآتى

$$T^2 = T_0^2 + \omega^2 x^2$$

$$T = T_0 \sqrt{1 + \frac{\omega^2 x^2}{T_0^2}} \quad (1.1.25)$$

#### (4) الكتينة متغيرة الكثافة الطولية:

وهى عبارة عن سلسلة ثقيلة غير منتظمة معلقة بين نقطتين  $A, B$  فى هذه الحالة فان كتلة وحدة الاطوال  $m$  من السلسلة لا تساوى مقدارا ثابتا. فاذا فرضنا ان  $m = \lambda q$  حيث  $\lambda$  هى الكثافة الحجمية للمادة المصنوع منها السلسلة  $q$  هى مساحة المقطع فان  $m$  ستكون متغيرة إما بتغير  $\lambda$  او بتغير  $q$  أو بتغير كلاهما. بأخذ نقطة إختيارية  $p$  من نقاط السلسلة وبأخذ اسفل نقطة فى السلسلة 0 نقطة اصل الاحداثيات الذاتية ودراسة إتزان الجزء  $op$  من السلسلة نجد ان



$$T \cos \psi = T_0 \quad (1.1.26)$$

$$T \sin \psi = \int_0^s mg ds \quad (1.1.27)$$

بقسمة المعادلة (1.1.27) على المعادلة (1.1.26) نجد ان

$$\tan \psi = \frac{g}{T_0} \int_0^s m ds \quad (1.1.28)$$

وبتفاضل طرفي هذه المعادلة بالنسبة الى  $s$

$$\therefore \sec^2 \psi \frac{d\psi}{ds} = \frac{g}{T_0} m$$

اي ان

$$m \cos^2 \psi \frac{ds}{d\psi} = \frac{T_0}{g} = \cos t \quad (1.1.29)$$

فاذا اعطينا قيمة  $m$  وتكامل هذه العلاقة يمكننا الحصول على المعادلة الذاتية للمنحنى الذى تاخذة السلسلة . أما اذا كان المنحنى الذى تاخذة السلسلة معلوما فان هذه العلاقة تعطى كتلة وحدة الاطوال من السلسلة .

#### (4) الكتينة منتظمة المتانة:

وهى عبارة عن سلسلة ثقيلة مصنوعة من مادة منتظمة ( $\lambda = \text{Const.}$ ) ومعلقة تعليقا حرا تحت تأثير الجاذبية الارضية بين نقطتين  $A, B$  بحيث تتناسب مساحة المقطع  $q$  عند اى نقطة  $p$  مع الشد  $T$  عند نفس النقطة اى ان

$$T = \alpha q \quad (1.1.30)$$

حيث  $\alpha$  ثابت التناسب .  
وبفرض ان  $\omega$  هى وزن وحدة الاطوال من السلسلة عند  $p$  يكون

$$\omega = m g = \lambda q g \quad (1.1.31)$$

وبالتالى يكون

$$T = \beta \omega , \beta = \frac{\alpha}{g \lambda} \quad (1.1.32)$$

وباخذ المحاور كما فى الكتينة متغيرة الكثافة الطولية . ودراسة إتران الجزء  $op$  نجد ان

$$T \cos \psi = T_0 \quad (1.1.33)$$

$$T \sin \psi = \int_0^s \omega ds \quad (1.1.34)$$

من المعادلتين السابقتين وباستخدام العلاقة

$$T = T_0 \sec \psi$$

نجد ان

$$\begin{aligned}\tan \psi &= \frac{1}{T_0} \int_0^s \omega ds = \frac{1}{T_0 \beta} \int_0^s ds \\ &= \frac{1}{\beta} \int \sec \alpha d\psi\end{aligned}$$

وبالتفاضل نحصل على

$$\sec^2 \psi \frac{d\psi}{ds} = \frac{1}{\beta} \sec \psi$$

اي ان

$$\frac{d\psi}{ds} = \frac{1}{\beta} \cos \psi = \frac{1}{\beta} \frac{dx}{ds}$$

ومنها يكون

$$\beta d\psi = dx$$

وبالتكامل نحصل على

$$x = \beta \psi + c_1$$

حيث يتلشى الثابت  $c_1$  وذلك التلاشى  $x, \psi$  عند النقطة  $o$  وبالتالي يكون

$$x = \beta \psi$$

(1.1.35)

وبالتالى فان

$$\frac{dy}{dx} = \tan \psi = \tan \left( \frac{x}{\beta} \right)$$

وبالتكامل نحصل على

$$y = \beta \ln \sec \left( \frac{x}{\beta} \right) + c_2$$

حيث يتلشى الثابت  $c_2$  وذلك التلاشى  $x, y$  عند النقطة  $o$  وبذلك تصبح المعادلة السابقة فى الصورة

$$y = \beta \ln \sec \left( \frac{x}{\beta} \right) \quad (1.1.36)$$

هذه المعادلة الكرتيزية للمنحنى الذى تاخذة السلسلة ومنها يتضح ان المنحنى متمائل بالنسبة للمحور  $y$ .  
ومنها يتضح ان عندما

$$x \rightarrow \pm \frac{\pi}{2} \beta \quad \text{عندما } y \rightarrow \infty$$

اي ان هناك خطى تقارب راسين عند

$$x = -\frac{\pi}{2} \beta, x = \pi/2 \beta$$

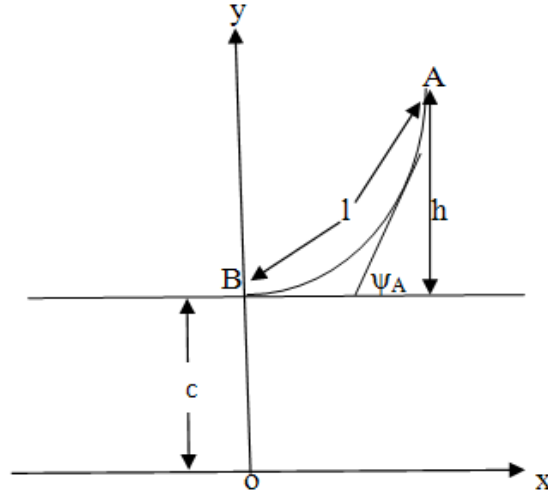
وبالتالى فان اكبر بعد افقى بين نقطتى التعليق  $\pi \beta$ .

### امثلة محلولة

#### مثال 1:

تطير طائرة من ورق على ارتفاع  $h$  من سطح الارض بواسطة خيط طولة  $l$  بحيث كانت راس الكتينة على الارض . أثبت ان زاوية ميل الخيط عند الطائرة على الافقى تساوى  $2 \tan^{-1} \left( \frac{h}{l} \right)$  . إثبت ايضا ان الشد فى الخيط عند الطائرة وعلى الارض يساوى على الترتيب  $\frac{w}{2h} (l^2 + h^2)$  ،  $\frac{w}{2h} (l^2 - h^2)$  حيث  $w$  وزن وحدة الاطوال من الخيط

#### الحل



حيث ان

$$y^2 = S^2 + c^2 \quad (1)$$

عند الطائرة A فإن

$$s_A = l, \quad y_A = h + c$$

بتطبيق العلاقة (1) عند النقطة A نجد ان

$$(h + c)^2 = l^2 + c^2$$

ومنها تعين بارمتر الكتينة c ويساوى

$$c = \frac{l^2 - h^2}{2h} \quad (2)$$

حيث ان

$$S = c \tan \psi$$

∴ عند الطائرة A فإن

$$S_A = c \tan \psi_A = l \quad (3)$$

$$\therefore \tan \psi_A = \frac{l}{c}$$

وبالتعويض عن قيمة c من (2) في (3) نجد ان

$$\tan \psi_A = \frac{2hl}{l^2 - h^2}$$

$$\tan \psi_A = \frac{2(h/l)}{1 - (h/l)^2} \quad (4)$$

ونعلم ان

$$\tan \psi_A = \frac{2 \tan \left( \frac{\psi_A}{2} \right)}{1 - \tan^2 \left( \frac{\psi_A}{2} \right)}$$

بمقارنة (4) و(5) نحصل على

$$\tan \left( \frac{\psi_A}{2} \right) = \frac{h}{l}$$

اي ان

$$\psi_A = 2 \tan^{-1} \left( \frac{h}{l} \right)$$

اي ان المماس للخييط عند الطائرة A يميل على الافقى بزاوية تساوي  $2 \tan^{-1} \left( \frac{h}{l} \right)$  ولايجاد الشد عند الطائرة A وعند الارض B نستخدم العلاقة

$$T_A = w y_A = w(h + c) \quad (7)$$

وبالتعويض عن قيمة c من (2) نجد ان الشد عند الطائرة يتعين من

$$T_A = w \left[ h + \frac{l^2 - h^2}{2h} \right] = \frac{w}{2h} (l^2 + h^2) \quad (8)$$

الشد عند الارض يتعين من

$$T_B = w y_B = w c = \frac{w}{2h} (l^2 - h^2) \quad (9)$$

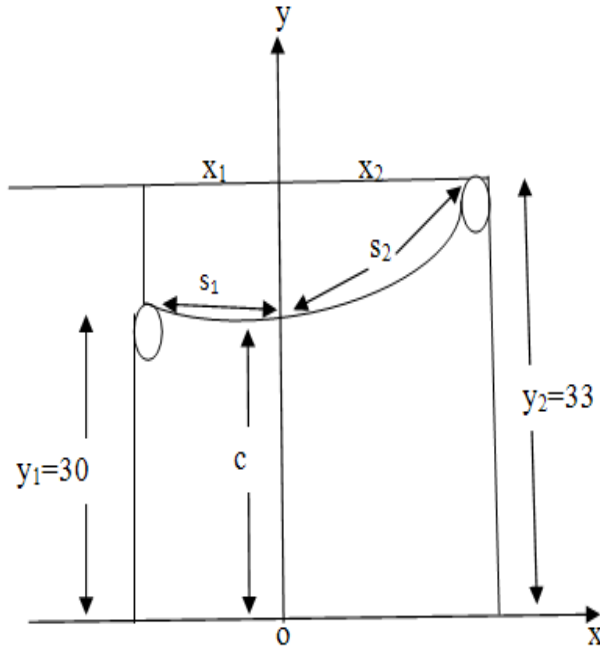
## مثال 2:

حبل ثقيل منتظم طولة 90 بوصة مغلق فوق بكرتين صغيرتين ملساويتين على ارتفاعين مختلفين فاذا كان طول الجزئين المتدليين هما 30,33 بوصة . فاثبت ان راس الكتينة يقسم الحبل كلة بنسبة 4:5 ثم اوجد المسافة الافقية بين البكرتين .

## الحل

حيث ان البكرتين ملساويتين فان الشد في الحبل لايتغير بمروره على اي منهما . ولكن من العلاقة  $T = w y$  يتضح ان الشد في الجزء المنحنى من الحبل عند التقائه بالبكرتين يساوى  $T_1 = w y_1$  ,  $T_2 = w y_2$  حيث  $y_1, y_2$  هما ارتفاعي البكرتين اما الشد في الاجزاء الرأسية للحبل عند إلتقائها بالبكرتين فكل منهما يساوى وزن الجزء المناظر له اي يساوى  $w$  مضروبا في طول هذا الجزء ومن هذا يتضح ان





$$wy_1 = 30 \omega \quad , \quad wy_2 = 33 \omega$$

$$y_1 = 30 \quad , \quad y_2 = 33$$

(1)

اى ان طرفا الحبل يجب ان يقعا على محور  $x$ .

بتطبيق العلاقة

$$y^2 = S^2 + c^2$$

عند كل من البكرتين نحصل على

$$(30)^2 = S^2 + c^2 \quad (2)$$

$$(33)^2 = S_2^2 + c^2 \quad (3)$$

ب طرح المعادلة (2) من (3) نحصل على

$$(33)^2 - (30)^2 = S_2^2 - S_1^2 \quad (4)$$

$$(S_2 - S_1)(S_2 + S_1) = 189$$

$$S_1 + S_2 = 65 - 30 - 33 = 27 \quad (5)$$

بالتعويض من (5) في (4) نجد ان

$$S_2 - S_1 = 7 \quad (6)$$

والان من (5) و(6) نجد ان

$$S_1 = 10, S_2 = 17 \quad (7)$$

وبالتالى فان الراس تقسم الخيط كله بنسبة

$$\frac{S_1 + 30}{S_2 + 33} = \frac{40}{50} = \frac{4}{5}$$

والان بالتعويض من (7) في (2) او (3) نحصل على بارامتر الكتينة

$$c = 20\sqrt{2} \quad (8)$$

بتطبيق العلاقة

$$x = c \ln \left( \frac{y + S}{c} \right)$$

عند كل من البكرتين نحصل على

$$x_1 = c \ln \left( \frac{y_1 + S_1}{c} \right)$$

واستخدام (1) و(7) و(8) نحصل على

$$= 20\sqrt{2} \ln \left( \frac{2}{\sqrt{3}} \right)$$

$$x_2 = c \ln \left( \frac{y_2 + S_2}{c} \right)$$

$$x_2 = 20\sqrt{2} \ln \left( \frac{2}{2\sqrt{2}} \right)$$

وبالتالى فإن المسافة الافقية بين البكرتين تساوى

$$x = x_1 + x_2$$

$$x = 20\sqrt{2} \left[ \ln \frac{2}{\sqrt{2}} + \ln \frac{5}{2\sqrt{2}} \right]$$

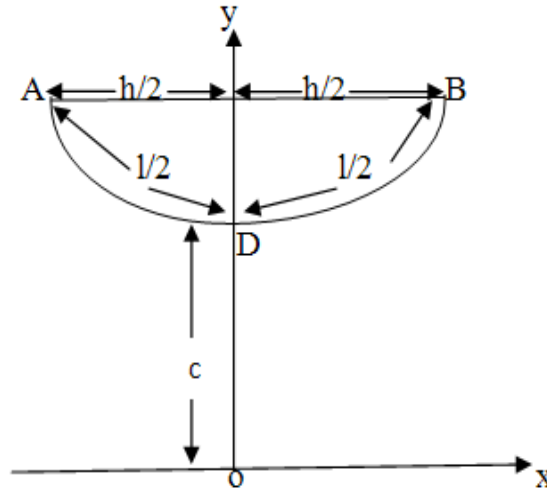
$$x = 20 \sqrt{2} \ln(5/2) = 25.92$$

### مثال 3:

علق سلك تلغراف طولة  $l$  بين عموديين على بعد يساوى  $h$  من بعضهما بحيث كان الشد في نهايته اقل

ما يمكن. إثبت ان  $\mu = \frac{h}{l} \sinh \mu$  حيث  $\mu$  تحقق المعادلة  $\mu \tanh \mu = 1$

### الحل



الشد  $T$  عند النهاية  $A$  او  $B$  يتعين من

$$T_B = \omega y_B = wc \cosh \left( \frac{x_B}{c} \right) \quad (1)$$

وذلك باستخدام المعادلة الكريتيكية لمنحنى الكتينة  $y = c \cosh \frac{x}{c}$  عند النقطة  $B$  وحيث ان  $x_B = h/2$  فإن

$$T = T_B = wc \cosh \left( \frac{h}{2c} \right) \quad (2)$$

الشدة  $T$  في (2) يعتمد على بارمترات الكثينة  $c$  ويكون الشدة اقل ما يمكن عندما  $\frac{dT}{dc} = 0$  حيث

$$\frac{dT}{dc} = w \left[ \cosh \left( \frac{h}{2c} \right) - \frac{h}{2c} \sinh \left( \frac{h}{2c} \right) \right] = 0$$

ومنها

$$\tanh \left( \frac{h}{2c} \right) = \frac{2c}{h} \quad (3)$$

نضع

$$\mu = \frac{h}{2c} \quad (4)$$

$$\therefore \tanh \mu = \frac{1}{\mu}$$

اي ان  $\mu$  تحقق العلاقة  
(5)

$$\mu \tanh \mu = 1$$

وحيث ان

$$S_B = c \sinh \frac{x_B}{c}$$

$$\frac{l}{2} = c \sinh \left( \frac{h}{2c} \right)$$

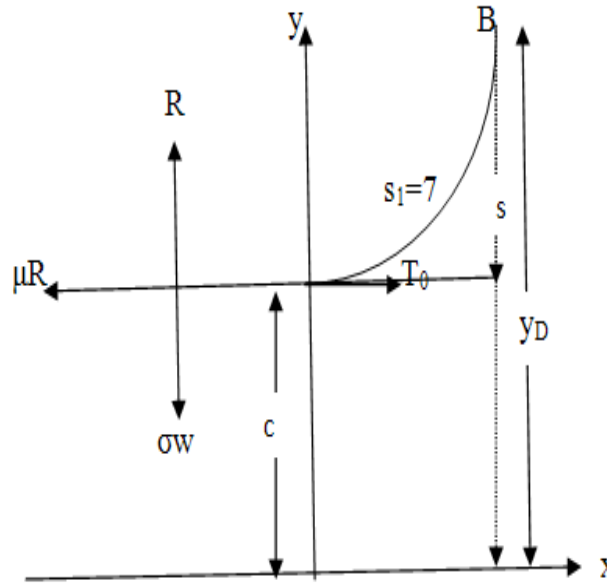
$$\frac{l}{2} = c \sinh \mu$$

$$l = \frac{c}{2} \sinh \mu = \frac{h}{\mu} \sinh \mu \quad (6)$$

وذلك باستخدام العلاقة (4).

**مثال 4:**

سلسلة ثقيلة منتظمة طولها  $13 \text{ ft}$  ثبت احد طرفيها في نقطة على ارتفاع  $5 \text{ ft}$  من منضدة افقية خشنة وترك باقى السلسلة وطولة  $6 \text{ ft}$  على المنضدة الخشنة . اثبت ان معامل الاحتكاك بينهما يساوى  $\frac{2}{5}$ .

**الحل**

من إتزان الجزء الموضوع على المنضدة نجد ان

$$R = 6w \quad (1)$$

$$\mu R = T_0 \quad (2)$$

حيث  $w$  وزن وحدة الاطوال من السلسلة .  
من (1) و(2) نجد ان

$$T_0 = \mu 6w \quad (3)$$

وحيث لن الشد عند اسفل نقطة من السلسلة يعطى من

$$T_0 = wc \quad (4)$$

$$wc = \sigma \mu w$$

$$c = \sigma \mu \quad (5)$$

بتطبيق العلاقة  $y^2 = S^2 + c^2$  عند النقطة  $D$  من السلسلة نجد ان

$$y_D^2 = S_1^2 + c^2$$

$$(5 + c)^2 = (7)^2 + c^2$$

ومنها يتج ان

$$10c = 24$$

$$c = 2.4$$

(7)

بالتعويض في (5) ينتج ان

$$\mu = \frac{2}{5}$$

### مثال 5:

وصل قضيب منتظم  $AB$  طولها  $2l$  بواسطة مفصل عند طرفه  $A$  الى نقطة ثابتة وربط طرفه الآخر  $B$  بطرف سلسلة منتظمة ثم ثبت طرفها الاخر في نقطة  $D$  بحيث كان كل من  $AD$  المماس عند  $B$  افقيا فاذا كان وزن وحدة الاطوال من القضيب والسلسلة متساويين . اثبت ان طول السلسلة يساوي

$$2l\sqrt{\sin^2 \alpha + \cos \alpha} \quad \text{حيث } \alpha = \hat{BAD}$$

### الحل

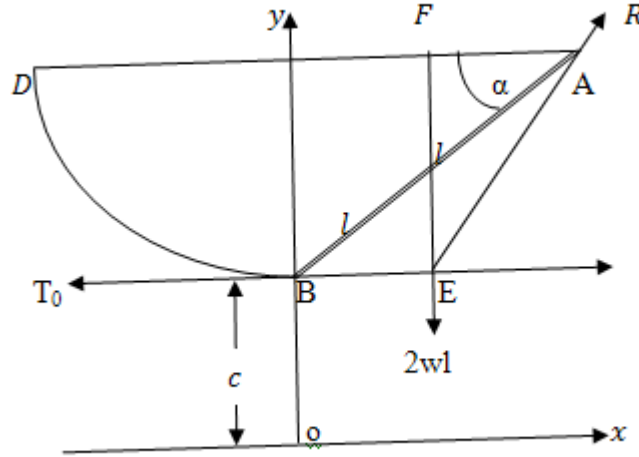
القضيب  $AB$  متزن تحت تأثير ثلاث قوى هي

(1) وزنه  $2wl$  راسيا الى اسفل ويؤثر في منتصف القضيب حيث  $w$  وزن وحدة الطول لكل من القضيب والسلسلة .

(2) الشد  $T_0$  عند  $B$  ويكون افقيا .

(3) رد فعل  $R$  عند المفصل .

∴ يجب ان تتلاقى هذه القوى الثلاث في نقطة واحدة كما في الشكل .



واضح ان المثلث  $AFE$  مثلث القوى ونجد ان

$$\frac{2wl}{FE} = \frac{T_0}{FA} \quad (1)$$

حيث ان

$$FE = 2l \sin \alpha$$

$$FA = l \cos \alpha$$

$$T_0 = wc$$

بالتعويض في المعادلة (1) نجد ان

$$\frac{2wl}{2l \sin \alpha} = \frac{wc}{l \cos \alpha}$$

$$\therefore c = l \cot \alpha \quad (2)$$

وباستخدام العلاقة

$$y^2 = S^2 + c^2$$

$$\therefore y_D^2 = S_D^2 + c^2 \quad (3)$$

حيث  $S_D$  هي طول السلسلة المطلوب

$$y_D = FE + Bo$$

$$= 2l \sin \alpha + c$$

بالتعويض في المعادلة (3) ينتج ان

$$(2l \sin \alpha + c) = S_D^2 + c^2$$

$$S_D^2 = 4l^2 \sin^2 \alpha + 4lc \sin \alpha$$

وبالتعويض عن قيمة بارمتر الكتيبة  $c$  من (2) نجد ان

$$S_D^2 = 4l^2 \sin^2 \alpha + 4l^2 \cos \alpha$$

$$S_D = 2l \sqrt{\sin^2 \alpha + \cos \alpha}$$

وهو طول السلسلة المطلوب .

## مثال 6:

سلسلة ثقيلة غير منتظمة معلقة تعليقا حرا تحت تأثير الجاذبية الارضية بين نقطتين . فاذا كانت المعادلة الذاتية للمنحنى الذى تاخذه السلسلة هي  $S = 4a \sin \psi$  حيث اسفل نقطة في السلسلة هي نقطة الاصل للاحداثيات الذاتية . اوجد العلاقة بين كتلة وحدة الاطوال من السلسلة والزاوية  $\psi$  .

## الحل

بدراسة إتزان الجزء  $op$  نجد ان

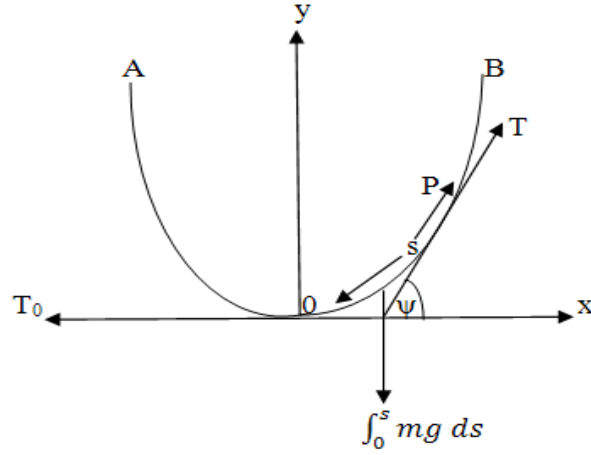
$$T \cos \psi = T_o \quad (1)$$

$$T \sin \psi = \int_o^s mg \, ds \quad (2)$$

بقسمة معادلة (2) على معادلة (1) ينتج ان

$$\tan \psi = \frac{g}{T_o} \int_o^s m \, ds \quad (3)$$





بتفاضل المعادلة (3) بالنسبة الى  $s$  نحصل على

$$\sec^2 \psi \frac{d\psi}{ds} = \frac{g}{T_0} m \quad (4)$$

ولكن من معادلة المنحنى يكون

$$\begin{aligned} \frac{ds}{d\psi} &= 4a \cos \psi \\ \frac{d\psi}{ds} &= \frac{1}{4a} \sec \psi \end{aligned} \quad (5)$$

بالتعويض من (5) في (4) نحصل على

$$m = \frac{T_0}{4ag} \sec^3 \psi \quad (6)$$

المعادلة (6) تعطى العلاقة بين  $m$ ,  $\psi$  ويمكن كتابتها بالصورة

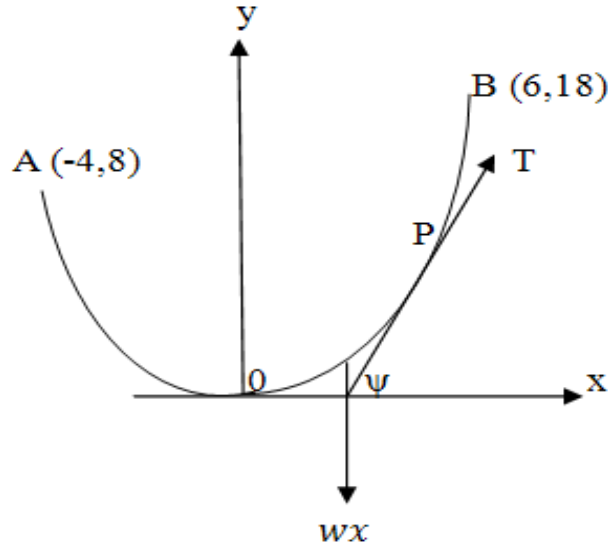
$$m = \alpha \sec^3 \psi$$

حيث

$$\alpha = \frac{T_0}{4ag} = \text{const}$$

**مثال 7:**

إذا كانت  $O$  هي أسفل نقطة من نقاط سلسلة ثقيلة معلقة تعليقا حرا بين نقطتين  $A, B$  إحداثياتهما  $(6,18)$ ،  $(-4,8)$  حيث  $O$  هي نقطة الاصل والمحور  $x$  افقى والمحور  $y$  رأسي لاعلى وكان وزن كل جزء من السلسلة يتناسب مع مسقطه الافقى. فاثبت ان السلسلة تأخذ شكل منحنى القطع المكافئ. إذا كان الوزن الكلى للسلسلة هو 100 باوند فأوجد اقل قيمة للشد، واجد كذلك الشد عند كل من نقطتي التعليق.

**الحل**

باعتبار اتزان الجزء  $op$  نجد ان

$$T \cos \psi = T_o \quad (1)$$

$$T \sin \psi = \omega x \quad (2)$$

بقسمة المعادلة (2) على المعادلة (1) نحصل على

$$\tan \psi = \frac{\omega x}{T_o}$$

اي ان

$$\frac{dy}{dx} = \frac{\omega x}{T_o}$$

وبالتكامل وباستخدام الشروط الابتدائية عند النقطة  $o$  نجد ان

$$y = \frac{\omega}{2T_o} x^2 \quad (3)$$

وهي معادلة قطع مكافئ .  
وحيث ان هذا القطع يمر بالنقاط  $A, B$  لذا فانها تحقق معادلاته

$$\frac{\omega}{2T_o} = \frac{y}{x^2} = \frac{8}{16} = \frac{1}{2} \quad (4)$$

ومنها ينتج ان

$$T_o = \omega = \frac{100}{4 + 6} = 10 \quad (5)$$

وهي اقل قيمة للشد .  
من (1)، (2)، (5) نجد ان

$$T = \sqrt{T_o^2 + \omega^2 x^2} = \omega \sqrt{1 + x^2} = 10 \sqrt{1 + x^2}$$

الشد عند النقطة  $A$  .

$$T_A = 10 \sqrt{1 + 16} = 10 \sqrt{17} \quad (6)$$

الشد عند النقطة  $B$  .

$$T_B = 10 \sqrt{1 + 36} = 10 \sqrt{37} \quad (7)$$

**مثال 8:**

سلسلة ثقيلة مصنوعة من مادة منتظمة معلقة تعليقا حرا تحت تأثير الجاذبية الارضية فإذا كانت مساحة مقطع السلسلة عند أي نقطة تتناسب تناسباً عكسياً مع الشد عند نفس النقطة ، فأثبت ان السلسلة تأخذ شكل قطع مكافئ محوره رأسى ورأسه الى اسفل .

**الحل**

بدراسة إتزان الجزء  $op$  (أنظر الشكل في المثال رقم (6)) نجد ان

$$T \cos \psi = T_o \quad (1)$$

$$T \sin \psi = g \int_o^s m ds \quad (2)$$

بقسمة المعادلة (2) على المعادلة (1) نحصل على

$$\tan \psi = \frac{g}{T_o} \int_o^s m ds \quad (3)$$

بفرض ان الكثافة الحجمية للمادة المصنوع منها السلسلة هي  $\lambda = \text{const}$  وان مساحة المقطع عند  $p$  هي  $q$  يكون

$$m = \lambda q \quad (4)$$

وحيث ان

$$q \propto \frac{1}{T}$$

(حيث  $\alpha$  مقدار ثابت

$$\therefore q = \frac{\alpha}{T} \quad (5)$$

$$\therefore m = \frac{\lambda \alpha}{T}$$

وباستخدام العلاقة (1)

$$m = \frac{\lambda \alpha}{T_o \sec \psi} = \frac{\lambda \alpha}{T_o} \cos \psi$$

$$mdS = \frac{\lambda\alpha}{T_o} \cos \psi \quad dS = \frac{\lambda\alpha}{T_o} dx \quad (4)$$

بالتعويض في المعادلة (3) مع ملاحظة ان عندما

$$x = 0 \text{ for } S = 0, x = x \text{ for } S = S$$

$$\therefore \tan \psi = \frac{\lambda g \alpha}{T_o^2} \int_0^x dx = dx$$

$$\delta = \frac{\lambda g \alpha}{T_o^2} = \cos t \text{ حيث}$$

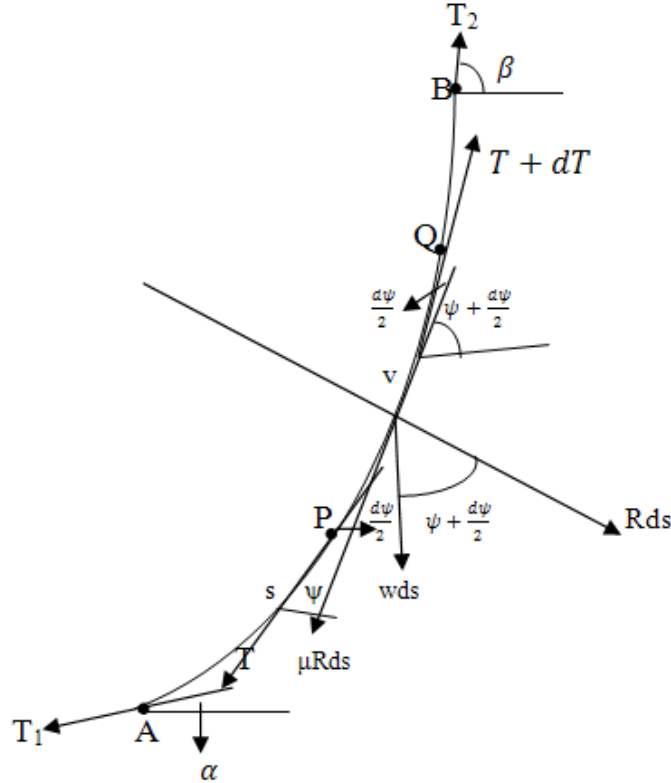
$$\frac{dy}{dx} = \delta x$$

وبفصل المتغيرات والتكامل نحصل على

$$y = \frac{\delta}{2} x^2 + c_1$$

ويتلشى ثابت التكامل  $x, y$  عند 0 وهذه هي معادلة قطع المكافئ.

## ثانيا : إتزان الحبال والسلاسل على اسطح خشنة:



نعتبر ساساة قابلة للثني بسهولة ومنتظمة  $AB$ . وان وزن وحدة الطول في السلسلة  $w$ . الشد في السلسلة يكون دائما في إتجاه المماس لها طالما انها لا تبدى اية مقاومة للشد. وبفرض ان هذه السلسلة موضوعة في تماس مع سطح خشن معامل الاحتكاك له  $\mu$ .

نفرض ان الشد عند  $A$  هو  $T_1$  ويصنع زاوية  $\alpha$  مع الافقى وكذلك نفرض ان الشد عند  $B$  هو  $T_2$  ويصنع زاوية  $\beta$  مع الافقى. كما نفرض ان السلسلة على وشك الانزلاق في الاتجاه  $AB$ . نعتبر إتزان جزء من السلسلة  $PQ$  طوله  $ds$  حيث  $S$  طول القوس  $AP$ . يتزن الجزء  $PQ$  تحت تأثير:

(1) الشد عند  $P$  هو  $T$  ويصنع زاوية  $\psi$  مع الافقى.

(2) الشد عند  $Q$  هو  $T + dT$  ويصنع زاوية  $\psi + d\psi$  مع الافقى.

(3) وزن العنصر  $ds$  ويكون مساويا  $wds$  لاسفل .

(4) رد الفعل العمودى  $Rds$  حيث  $R$  رد الفعل لوحدة الاطوال من السلسلة .

(5) قوة الاحتكاك  $\mu Rds$  وتصنع زاوية  $\psi + \frac{d\psi}{2}$  مع الافقى .

بالتحليل فى إتجاه المماس عند  $V$  نحصل على

$$(T + dT) \cos \left( \frac{d\psi}{2} \right) = \mu Rds + wds \sin \left( \psi + \frac{d\psi}{2} \right) + T \cos \left( \frac{d\psi}{2} \right)$$

وباهمال مربعات الكميات المتناهية الصغر نجد ان :

$$dT = \mu Rds + wds \sin \psi$$

$$\frac{dT}{ds} = \mu R + w \sin \psi \quad (1.2.1)$$

بالتحليل فى الإتجاه العمودى على المماس عند  $V$  نحصل على

$$(T + dT) \sin \left( \frac{d\psi}{2} \right) + T \sin \left( \frac{d\psi}{2} \right) = Rds + wds \cos \left( \psi + \frac{d\psi}{2} \right)$$

وباهمال الكميات المتناهية الصغر نجد ان :

$$Td\psi = Rds + wds \cos \psi \quad (1.2.2)$$

$$T \frac{d\psi}{ds} = R + w \cos \psi \quad (1.2.3)$$

وبحذف  $R$  بين (1.2.1) و(1.2.2) نحصل على :

$$\frac{dT}{ds} - \mu T \left( \frac{d\psi}{ds} \right) = w(\sin \psi - \mu \cos \psi)$$

وبما ان

$$\frac{d\psi}{ds} = \frac{1}{\rho}$$

حيث  $\rho$  نصف قطر التقوس فإن .

$$\frac{dT}{d\psi} - \mu T = \rho w (\sin \psi - \mu \cos \psi) \quad (1.2.4)$$

هذه المعادلة التفاضلية التي تربط بين الشد  $T$  عند اى نقطة وزاوية ميل المماس عند هذه النقطة .  
ويجرى تكامل هذه المعادلة التفاضلية بواسطة ضرب طرفيها فى العامل المكامل  $e^{-\mu\psi}$  فنجد ان

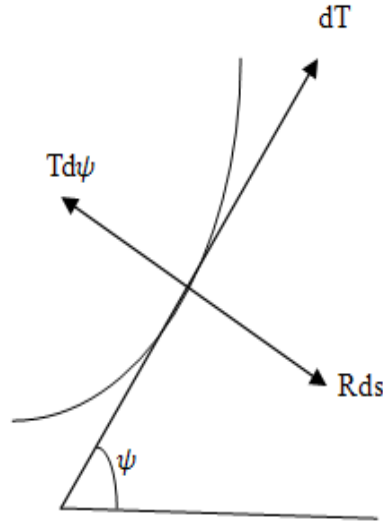
$$\frac{d}{d\psi} (Te^{-\mu\psi}) = \rho w e^{-\mu\psi} (\sin \psi - \mu \cos \psi)$$

باجراء تكامل الطرفين نحصل على

$$Te^{-\mu\psi} = \int \rho w e^{-\mu\psi} (\sin \psi - \mu \cos \psi) d\psi + c \quad (1.2.5)$$

## حالات خاصة :

### 1- حبل خفيف على سطح امس:



فى هذه الحالة  $\mu = 0$  ,  $w = 0$  بالتعويض فى المعادلة (1) ينتج ان :



$$dT = 0$$

$$T = \text{const}$$

وهذا يعنى ان الشد في الحبل الخفيف الملامس لسطح املس يكون ثابت القيمة عند جميع نقط الحبل .  
كذلك يكون بالتعويض في المعادلة (2) عن  $\mu = 0$  ,  $w = 0$  نحصل على

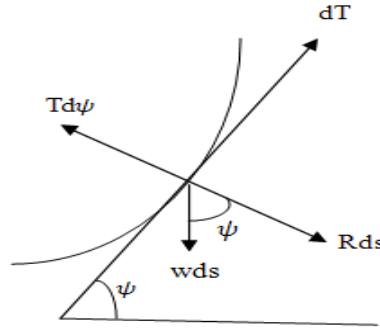
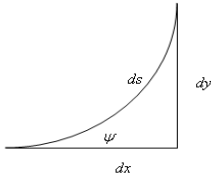
$$T d\psi = R ds$$

$$\therefore \frac{T}{\rho} = R \quad \therefore R = \frac{\text{const}}{\rho}$$

هذا يعنى ان رد الفعل العمودى على السطح يتناسب تناسبا عكسيا مع نصف قطر التقوس  $\left( R \propto \frac{1}{\rho} \right)$

## 2- حبل ثقيل على سطح املس:

في هذه الحالة  $\mu = 0$  فينتج ان



$$dT = wds \sin \psi = wdy$$

$$T = wy + c$$

بفرض ان  $T = T_0$  عند  $y = y_0$  فنجد ان

$$c = T_0 - wy_0$$

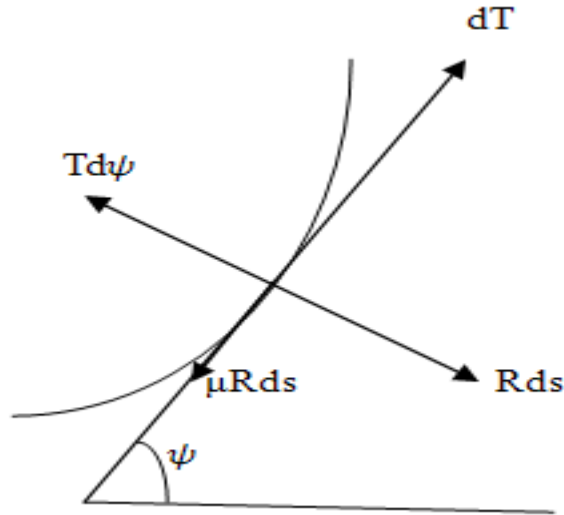
$$\therefore T - T_0 = w(y - y_0) \quad (1.2.6)$$

هذا يعنى انه إذا لامس خيط ثقيل سطحاً أملساً كان الفرق بين الشدين عند نقطتين منه مساوياً لوزن جزء من الحبل طوله يساوى المسافة الرأسية بين النقطتين .

أما رد الفعل العمودى على الحبل فيتعبن من

$$R = \frac{T}{\rho} - w \cos \psi \quad (1.2.7)$$

### 3- حبل خفيف على سطح خشن:



فى هذه الحالة  $w = 0$  فينتج ان:

$$\frac{dT}{d\psi} = \mu T$$

$$\frac{dT}{T} = \mu d\psi$$

$$\ln T = \mu \psi + \ln c$$

التي يمكن كتابتها على الصورة

$$T = c e^{\mu \psi} \quad (1.2.8)$$

حيث  $c$  ثابت. فاذا كان الشد عند  $A$  هو  $T_1$  و الشد عند  $B$  هو  $T_2$  وكانت  $\psi = \alpha$  عند  $A$  ،  $\psi = \beta$  عند  $B$  فان

$$\begin{aligned} T_1 &= c e^{\mu \alpha}, \quad T_2 = c e^{\mu \beta} \\ \therefore T_2 &= T_1 e^{\mu(\beta - \alpha)} \end{aligned} \quad (1.2.9)$$

حيث  $\beta - \alpha$  هي الزاوية بين المماسين عند النقطتين  $A, B$  وهذه العلاقة لا تتوقف على شكل السطح. ورد الفعل يتعين من

$$R = \frac{T}{\rho}$$

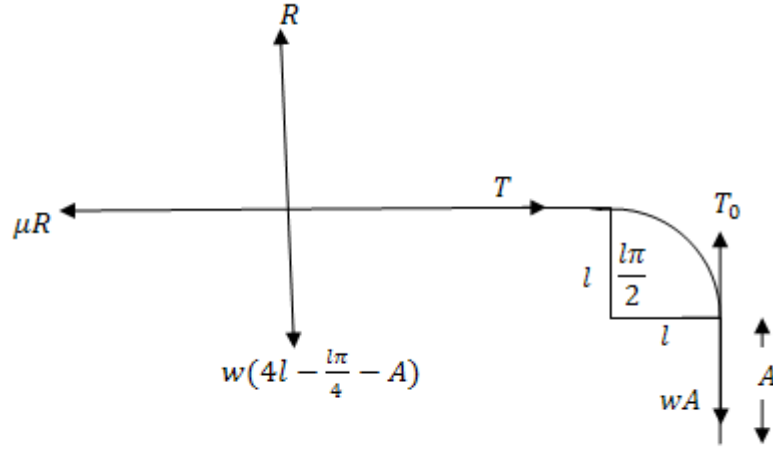
$$(1.2.10)$$

أمثلة محلولة:-مثال 1:

خيوط ثقيل طولها  $4l$  وضع جزء منه على منضدة افقية خشنة معامل الاحتكاك بينهما يساوي  $\frac{1}{2}$  ويمر الخيط على حافة المنضدة الملساء التي تأخذ شكل ربع دائرة نصف قطرها  $l$  ويتدلى باقي الخيط رأسياً للأسفل . أثبت ان أكبر طول للجزء المتدلى لحفظ الاتزان يساوي  $\frac{l}{6}(4 - \pi)$ .

الحل

نفرض ان  $A$  هو طول الجزء المعلق وأن  $w$  وزن وحدة الأطوال من السلسلة



$$T - T_0 = wl \quad (1)$$

ومن اتزان الجزء المعلق

$$T_0 = wA \quad (2)$$

ومن اتران الجزء الموضوع على المنضدة الخشنة :

$$R = w \left( 4l - \frac{l\pi}{4} - A \right) \quad (3)$$

$$T = \mu R \quad (4)$$

$$\therefore T = \frac{1}{2} R = \frac{1}{2} w \left( 4l - \frac{l\pi}{4} - A \right)$$

ومن (1) و(2) ينتج ان

$$T = w(l + A)$$

$$\therefore w(l + A) = \frac{1}{2} w \left( 4l - \frac{l\pi}{4} - A \right)$$

ومنها ينتج ان

$$A = \frac{l}{6} (4 - \pi) .$$

## مثال 2:

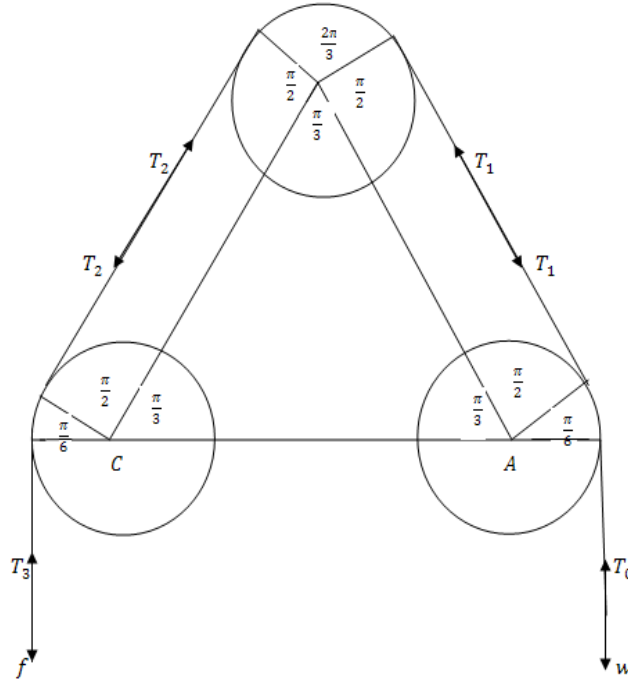
ثلاث بكرات خشنة متساوية معامل الاحتكاك لها  $\mu_1, \mu_2, \mu_3$  على الترتيب بحيث تكون مثلث متساوي الاضلاع رأسه  $B$  فوق ضلعه الافقى  $AC$ . فاذا مر حبل خفيف حول البكرات وعلق ثقل  $w$  في طرف الحبل عند البكرة  $A$  فاثبت القوة الرأسية التي تؤثر في الطرف الآخر للحبل عند  $c$  التي تجعل الحبل على وشك الحركة تساوى  $w e^{\frac{\pi}{6}[\mu_1 + 4\mu_2 + \mu_3]}$ .

## الحل

نفرض ان القوة الرأسية عند  $c$  هي  $f$

$$T_o = W$$

$$T_1 = T_o e^{\mu_1 \pi/6},$$



$$T_2 = T_1 e^{\mu_2 \frac{4\pi}{6}},$$

$$\therefore T_2 = T_o e^{\mu_1 \frac{\pi}{6}} e^{\mu_2 \frac{4\pi}{6}},$$

$$T_3 = T_2 e^{\mu_3 \pi/6}$$

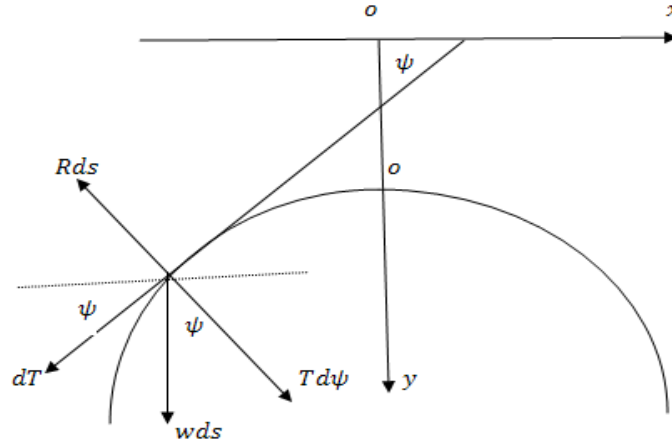
$$\therefore T_3 = T_o e^{\frac{\mu_3 \pi}{6}} e^{\frac{\mu_1 \pi}{6}} e^{\frac{4\mu_2 \pi}{6}}$$

$$= T_o e^{\pi/6(\mu_3 + 4\mu_2 + \mu_1)}$$

$$T_3 = w e^{\frac{\pi}{6}(\mu_3 + 4\mu_2 + \mu_1)} = f$$

**مثال 3:**

تستقر سلسلة منتظمة ثقيلة في وضع تماثل على سلك املس على هيئة كتينة محورها رأسي وراسها الى اعلى. اوجد الشد عند اي نقطة واثبت ان الضغط على السلك عند اي نقطة يتناسب عكسيا مع مربع بعدها الراسي عن دليل الكتينة .

**الحل**

$$\therefore (T + dT) \cos \left( \frac{d\psi}{2} \right) + wds \sin \psi = T \cos \left( \frac{d\psi}{2} \right).$$

$$Rds = wds \cos \psi + (T + dT) \sin \left( \frac{d\psi}{2} \right)$$

اي ان

$$\frac{dT}{ds} = -w \sin \psi \quad (1)$$

$$R = w \cos \psi + \frac{T}{\rho} \quad (2)$$

بتكامل المعادلة (1) نحصل على

$$T = -w \int \sin \psi \, ds$$

∴ المعادلة الذاتية لمنحنى الكتينة هي

$$S = c \tan \psi$$

$$\rho = \frac{dS}{d\psi} = c \sec^2 \psi \quad (3)$$

$$\therefore dS = c \sec^2 \psi \, d\psi$$

$$\therefore T = -cw \int \sin \psi \sec^2 \psi \, d\psi$$

$$= -cw \int \sec \psi \tan \psi \, d\psi$$

$$\therefore T = -cw \sec \psi + c_1$$

عند النقطة  $o$  يتلاشى الشد  $T$  وتتلاشى زاوية ميل المماس  $\psi$

$$\therefore c_1 = wc$$

$$\therefore T = wc [1 - \sec \psi] \quad (4)$$

بالتعويض من (3) ، (4) في (2) نجد ان

$$R = \frac{wc^2}{c^2 \sec^2 \psi} \quad (5)$$

ولكن من المعادلات البارمتريية للكتينة

$$y = c \sec \psi$$

$$\therefore R = \frac{wc^2}{y^2} = \frac{const.}{y^2}$$

$$R \propto \frac{1}{y^2}$$

حيث  $c^2 \omega$  مقدار ثابت.



**مثال 4:**

سلسلة ثقيلة منتظمة موضوعة داخل انبوبة ملساء على هيئة قطع مكافئ محورة رأسى وراسية الى اسفل وكانت السلسلة تكاد تلمس الانبوبة عند الراس . اوجد رد الفعل عند اى نقطة بدلالة زاوية ميل المماس عندها على الافقى .

**الحل**

من معادلات الاتزان

$$dT = \omega ds \sin \psi$$

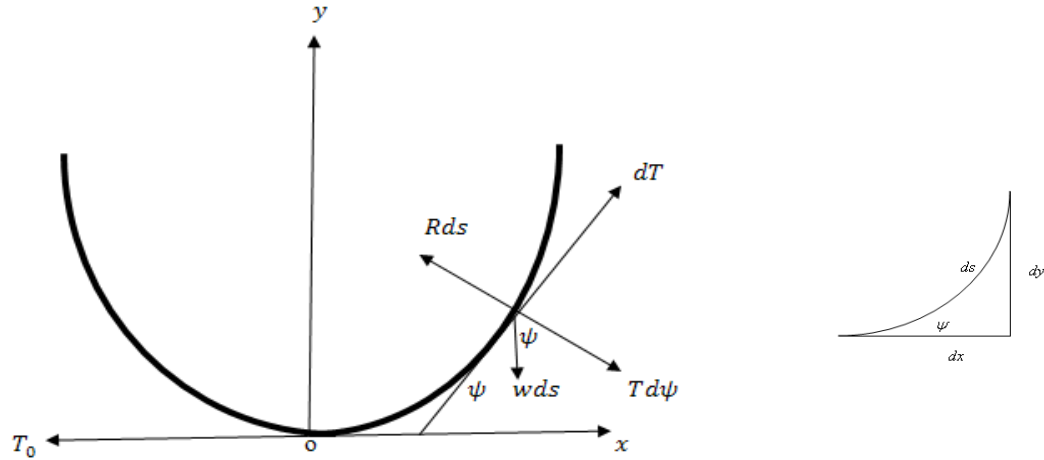
(1)

$$R = \frac{T}{\rho} + \omega \cos \psi$$

(2)

$$\therefore dy = \sin \psi ds$$

(3)



$$\therefore dT = \omega dy$$

بالتكامل نحصل على

$$T = \omega y + c_1$$

(\*)

ولكن عند  $\psi = 0$  وكانت  $R = 0$  وبالتعويض فى المعادلة (2)

$$0 = \frac{T_o}{\rho_o} + \omega$$

$$\therefore T_o = -\omega \rho_o$$

(4)

حيث  $T_o$  الشد عند رأس الكتينة .

ومن معادلة القطع المكافئ فى حالة اذا كان رأس القطع عند نقطة الاصل.

$$x^2 = 4ay$$

(5)

$$y' = \frac{dy}{dx} = \tan \psi = \frac{x}{2a}. \quad (6)$$

بالتفاضل مرة اخرى بالنسبة الى  $x$

$$y'' = \frac{1}{2a}$$

من المعادلة (6) نحصل على

$$x = 2a \tan \psi$$

بالتعويض في معادلة القطع المكافئ نحصل على

$$y = a \tan^2 \psi$$

(7)

$$y = a(\sec^2 \psi - 1)$$

$$y' = \frac{dy}{dx} = \tan \psi$$

$$y'' = \frac{dy'}{dx} = \sec^2 \psi \frac{d\psi}{dx} = \sec^2 \psi \frac{d\psi}{ds} \frac{ds}{dx}$$

$$y'' = \sec^3 \psi \frac{1}{\rho}$$

$$\therefore \rho = \frac{\sec^3 \psi}{y''} = \frac{(1 + \tan^2 \psi)^{3/2}}{y''}$$

$$\rho = \frac{(1 + y'^2)^{3/2}}{y''} = \frac{(1 + \tan^2 \psi)^{3/2}}{\frac{1}{2a}} = 2a \sec^3 \psi$$

وعند  $\psi = 0$  كانت  $\rho = \rho_o$

(9)

$$\therefore \rho_o = 2a$$

بالتعويض من (7) في (\*) نحصل على

$$T = +\omega a \tan^2 \psi + c_1$$

عندما  $T = T_o$  كانت  $\psi = 0$

$$\therefore c_1 = T_o$$

بالتعويض عن قيمة  $c_1$  نجد ان

$$T = T_o + \omega a \tan^2 \psi \quad (10)$$

بالتعويض عن قيمة  $T_o$  من (4)، (9) نحصل على

$$T_o = -2a \omega$$

بالتعويض في (10) نحصل على

$$T = -\omega a (\tan^2 \psi + 2) \quad (11)$$

بالتعويض من (11) في (3) في معادلة (2) نحصل على

$$R = \frac{\omega}{2} \sin^2 \psi \cos \psi.$$

### مثال 5:

احسب القدرة المنقولة بواسطة سير خفيف ملفوف على عجلة دائرية خشنة نصف قطرها  $a$  بحيث يحصر الجزء المطوى من السير على العجلة زاوية  $\alpha$  عند المركز. اوجد كذلك السرعة التي تعطى اكبر قدرة.

### الحل

نفرض ان السير يدور على بكرة نصف قطرها  $a$  على طول  $a\alpha$  من المحيط وان القوى المؤثرة على عنصر طولة

$ds$  من السير هما الشدين  $T, T + dT$  والقوة الطاردة المركزية  $\frac{\omega v^2}{g} d\theta$  في اتجاه نصف القطر الى الخارج

والتي تعمل على حركة السير على العجلة حيث  $g$  عجلة الجاذبية الارضية،  $\omega$  وزن وحدة الاطوال  $v$  على سرعة السير عند النقطة  $B$  وتكون في اتجاه المماس (سرعة منتظمة) ورد الفعل العمودي  $Rds$  وقوة الاحتكاك  $\mu Rds$  حيث  $ds$  طول عنصر من السير حركة العنصر  $ds$  في اتجاه المماس هي:

$$(T + dT) \cos d\theta - T - \mu R ds = 0 \quad (1)$$

لا توجد حركة في الاتجاه العمودي نجد ان

$$(T + dT) \sin d\theta - R ds - \frac{\omega v^2}{g} d\theta = 0 \quad (2)$$

وحيث ان  $d\theta$  زاوية صغيرة تقترب من الصفر فيكون

$$\sin d\theta \approx d\theta, \quad \cos d\theta \approx 1$$

وتصبح المعادلتين (1) و(2) في الصورة

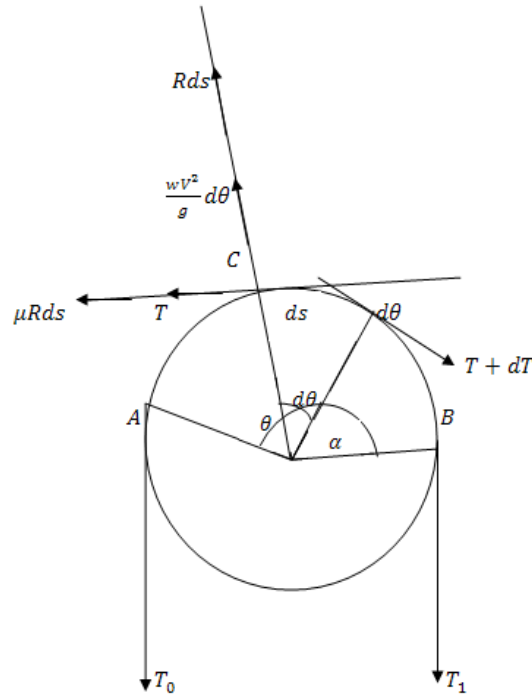
$$dT = \mu R ds \quad (3)$$

$$T = Ra + \frac{\omega v^2}{g} \quad (4)$$

وذلك باهمال الكمية الصغيرة من الثانية  $dT d\theta$  بحذف رد الفعل  $R$  بين المعادلتين (4) و(3) فان

$$\frac{dT}{d\theta} - \mu T = -\frac{\mu \omega v^2}{g} \quad (5)$$

المعادلة (5) هي معادلة تفاضلية خطية من الرتبة الاولى يمكن حلها بضرب طرفي المعادلة في العامل المكامل  $e^{-\mu\theta}$  فنحصل على



$$\frac{d}{d\theta}(Te^{-\mu\theta}) = -\frac{\mu \omega v^2}{g} e^{-\mu\theta}$$

بالتكامل نجد ان

$$Te^{-\mu\theta} = \frac{\omega}{g} v^2 e^{-\mu\theta} + c$$

حيث  $c$  ثابت التكامل يمكن تعيينه من الشروط الابتدائية في المسألة الشد عند  $A$  يساوى  $T_o$  عندما  $\theta = 0$  أى ان

$$c = T_o - \frac{\omega}{g} v^2$$

$$\therefore T = \left( T_o - \frac{\omega v^2}{g} \right) e^{-\mu \theta} + \frac{\omega}{g} v^2 \quad (6)$$

المعادلة (6) تعيين الشد عند أى نقطة من السير.

عند النقطة  $B$  فإن  $T = T_1$   $\theta = \alpha$  ونجد ان

$$T_1 = \left( T_o - \frac{\omega v^2}{g} \right) e^{\mu \alpha} + \frac{\omega v^2}{g}$$

$$\begin{aligned} T_1 - T_o &= \left( T_o - \frac{\omega v^2}{g} \right) e^{\mu \alpha} + \frac{\omega v^2}{g} - T_o \\ &= \left( T_o - \frac{\omega v^2}{g} \right) (e^{\mu \alpha} - 1) \end{aligned}$$

وتكون القدرة مساوية

$$P = (T_1 - T_o)v$$

$$P = (e^{\mu \alpha} - 1) \left( T_o v - \frac{\omega v^3}{g} \right) \quad (7)$$

وهذه هي القدرة المطلوبة .

واضح ان القدرة  $P$  دالة فى السرعة  $v$  وللحصول على اكبر قدرة نوجد

$$\frac{dP}{dv} = (e^{\mu \alpha} - 1) \left( T_o - \frac{3\omega v^2}{g} \right) \quad (8)$$

نضع  $\frac{dP}{dv} = 0$  فنجد ان السرعة التى تعطى اكبر قدرة تحقق المعادلة.

$$T_o - \frac{3\omega v^2}{g} = 0$$

ومنها

$$v = \sqrt{\frac{gT_o}{3\omega}} \quad (9)$$

## تمارين

(1) إذا كان عمق راس الكتينة عند نقطة التعليق هو  $d$  وإذا كان طول الكتينة  $2L$ . فأثبت ان بارمتر الكتينة  $c$  يتعين من العلاقة

$$c = \frac{L^2 - d^2}{2d}$$

(2) سلسلة طولها  $2L$  مثبت طرفها في نقطتين في نفس المستوى الافقى على بعد  $2a$  إذا كان  $a$  اكبر من

$$L \text{ فأثبت ان الشد في الخيط هو } \sqrt{\frac{a^3}{6(L-a)}} \omega \text{ وان انخفاض اسفل نقطة من طرفها هو } \frac{1}{2} \sqrt{6a(L-a)}$$

(3) إذا كانت المسافة الأفقية بين عمودين تلغراف متتاليين هي  $2L$  باستخدام التقريب الثانى من المعادلة الكرتيزية للكتينة . اوجد طول السلك اللازم توصيلة بين العمودين بدلالة  $L, d$  حيث  $d$  تمثل عمق راس الكتينة عن المستوى المار بنقطتى التعليق.

(4) تمر سلسلة ثقيلة منتظمة على بكرتين ملساوتين واقعتين على خط أفقى واحد المسافة بينهما  $2h$ . اثبت ان اقل طول للسلسلة في حالة الاتزان يساوى  $2he$ .

(5) سلك طوله  $L$  ينتهى طرفاه بحلقتين خفيفتين تنزلقان على قضيب أفقى خشن معامل الاحتكاك بينهم  $\mu$ . فأثبت ان اكبر مسافة بين الحلقتين في وضع الاتزان تساوى

$$\mu L \ln \left[ \frac{1 + \sqrt{1 + \mu^2}}{\mu} \right]$$

(6) إذا كان الوزن الكلى لكوبرى معلق يساوى 200 ثقل باوند موزعة توزيعا أفقيا منتظما على بعده الافقى الذى يساوى 150 قدم. وكان ارتفاع الكوبرى 20 قدم . اثبت ان الشدين في اسفل نقطة ونقطتى التعليق

$$\text{تساوى } 187 \frac{1}{2}, 214 \frac{1}{6} \text{ ثقل باوند على الترتيب.}$$

(7) طائرة من الورق اقصى ارتفاع لها يساوى واحد ميل وطول خيطها يساوى ميلين . برهن ان الشد عند اسفل نقطة يساوى وزن جزء من الخيط طولة  $3/2$  ميل وان جذب الطائرة يساوى  $2 \frac{1}{2}$  ميل من الخيط

وانه فى اتجاه يصنع زاوية  $\tan^{-1}(3/4)$  مع الراسى .

(8) طائرة من الورق طول الخيط منها الى اليد يساوى 600 قدم . قيس الشد عند اليد بواسطة زنبرك فوجد انه يساوى وزن 100 قدم من الخيط كما وجد انه فى اتجاه يصنع زاوية  $30^\circ$  مع الافقى . اوجد البعد الراسى للطائرة عند اليد.

(9) تستقر سلسلة فى حالة الاتزان النهائى عند طرفيها الموزعين على منضدتين افقيتين خشنتين معامل الاحتكاك  $\mu$  وكانت المسافتين الافقية والراسية بين طرفى المنضدتين القريبتين هما  $h, 2a$  على

الترتيب. اثبت ان الجزء المعلق من السلسلة هو  $D$  وان الطول الكلى للسلسلة هو  $D \left[ 1 + \frac{1}{\mu} \coth \frac{a}{2} \right]$

حيث  $D^2 = h^2 + 4c^2 \sinh^2 \frac{a}{c}$  . حيث  $c$  بارمتر الكتينة. المستوى الذى تقع فيه السلسلة عمودى على حرفى المنضدتين.

(10) كتينة ذات كثافة متغيرة علفت من طرفيها فاذا كان  $T_1, T_2, T_3$  تمثل الشد عند ثلاث نقاط  $A, B, C$  هى على التوالي  $\alpha - \beta, \alpha, \alpha + \beta$  وكان  $\omega_1, \omega_2$  يمثلان الاوزان للاطوال  $AB, BC$  اثبت ان

$$\frac{1}{T_1} + \frac{1}{T_3} = \frac{2 \cos \beta}{T_2},$$

$$\frac{T_1}{\omega_1} = \frac{T_3}{\omega_2}$$

(11) سلسلة  $AE$  مثبتة عند طرفيها  $A, E$  تحمل الاثقال 200, 300, 400 ثقل باوند عند النقط  $B, C, D$  فاذا كانت الاحداثيات السينية لهذه النقط على التوالي 10, 20, 30 ft وكان طول  $AE = 40$  ft وكان البعد الراسى للنقطة  $C$  عن  $AE$  هو 6 ft اوجد مركبات الفعل عند  $A$  وكذلك البعد الراسى لكل من  $B, D$  عن  $AE$  ثم اوجد اكبر شد للسلسلة.

(12) سلسلتان  $AB, BC$  من نفس النوع ربطت ببرج ارسال عند النقطة  $B$  بحيث ان المركبة الافقية لرد الفعل على السلاسل عند البرج منعدمة وبفرض ان السلاسل على هيئة قطع مكافئ وكانت المسافات الافقية  $AB = 300$  ft,  $Bc = 200$  ft وكان سهم السلسلة  $BC$  هو 10 ft اوجد سهم السلسلة  $AB$  .

(13) سلسلة منتظمة طولها  $2a(1 + \lambda)$  علق من طرفيها بحيث كانت في نفس المنسوب الافقى والمسافة بينهما  $2a$  فإذا كانت  $\lambda$  صغيرة جدا بحيث يمكن اهمال قواها الاعلى من القوى الثانية اثبت ان سهم السلسلة

$$\text{يساوى } \frac{1}{2} a \sqrt{6\lambda} \left( 1 + \frac{7}{20} \lambda \right)$$

(14) اربعة بكرات متساوية الخشونة (معامل الاحتكاك  $\mu$ ) موضوعة عند رؤوس مربع مستواه رأسيا واضلاعة افقية وراسية . وعلى كل بكرة يمر خيط خفيف ويحمل في طرفه ثقل  $\omega$  بينما عقدت الاطراف الاربعة الاخرى . اثبت ان اكبر ثقل يمكن ان يعلق في هذه العقدة بحيث تظل العقدة عند مركز المربع في حالة

$$\text{اتزان هو } 2\sqrt{2}\omega e^{\frac{\mu\pi}{4}} \sinh\left(\frac{\mu\pi}{2}\right)$$

(15) يستقر خيط منتظم ثقيل في حالة اتزان النهائى على دائرة راسية خشنة معامل الاحتكاك  $\mu$  ونصف قطرها  $a$  ويتدلى جزء منها راسيا . اثبت انة اذا كانت احد طرفيها اعلى نقطة فان طول الجزء المتدلى يكون مساويا  $[2\mu a + (\mu^2 - 1)a e^{\mu\pi/2}] / (\mu^2 + 1)$  .

(16) يستقر خيط منتظم ثقيل طولة  $l$  في حالة الاتزان النهائى على اسطوانة دائرية خشنة معامل الاحتكاك  $\mu$  ونصف قطرها  $a$  ومحورها افقى . اثبت ان طول الجانب الاكبر من الجانبين الراسيين هو

$$\frac{l - \pi a}{1 + e^{-\mu\pi}} + \frac{2\mu a}{1 + \mu^2}$$

(17) يمر خيط خفيف على وتدين خشنين  $B, A$  واقعين في نفس المستقيم الافقى المسافة بينهما  $2a$  . ربط الطرفين في ثقل عند  $C$  . وفي حالة الاتزان النهائى كان  $AB$  يحصر زاوية قائمة عند  $C$  . اثبت ان المسافة

الافقية بين  $C$  ومنتصف  $AB$  في هذا الموضع هي  $a \tanh\left(\frac{3\mu\pi}{2}\right)$  حيث  $\mu$  معامل الاحتكاك بين الخيط والوند.



## الباب الثاني

### مبادئ المرونة

كما نعلم أن **الجسم الصلب** يعرف بأنه ذلك الجسم الذي لا تتغير المسافات بين جزيئاته نتيجة للمؤثرات الخارجية (القوة الخارجية) . أي أنه ذلك الجسم الذي لا يتغير شكله نتيجة للمؤثرات الخارجية . إلا أنه من الواضح لا يوجد في الطبيعة علي الإطلاق جسم واحد يتمتع بهذه الخاصية المثالية . إذا كان الهدف من الدراسة هي دراسة حركة الأجسام الصلبة وكانت القوي الخارجية المؤثرة على الجسم الصلب صغيره بشرط أن تكون التغير في شكل الأجسام صغيره جدا بالمقارنة بأبعادها الأصلية فأنه يمكن إهمال التغير في الشكل . وعلي ذلك يكون التعريف السابق ذكره للأجسام الصلبة تعريفا مناسباً لأجراء هذه الدراسة . أما إذا كان الهدف من الدراسة مثلا دراسة تحمل الإنشاءات المختلفة للأحمال الواقعة عليها . فأنه بالرغم من أن التغير في أشكال الأجسام المكونة لهذه الإنشاءات تكون عادة صغيرة جدا – إلا أنه لا يمكننا إهماله علي الإطلاق بل من الضروري أخذة في الحساب عند القيام بهذه الدراسة . ومثال علي ذلك تحديد أقصى حمولة للكباري والإنشاءات المختلفة . وتختلف الأجسام عن بعضها البعض من حيث كيفية استجابتها للتغير في أشكالها تحت تأثير المؤثرات الخارجية . فهناك أجسام ( مثل الحديد الصلب والبلاستيك و الألومينيوم وغيرها ) تعود إلي شكلها الأصلي إذا أزيلت القوي الخارجية . مثل هذه الأجسام تسمى بالأجسام المرنة (Elastic Bodies) وتسمى خاصية الرجوع إلي الحالة الأولى (قبل التشكيل) بالخاصية المرنة (Elasticity) . كما أنه هناك أجسام أخرى (مثل الحديد الزهر ولأسمنت وغيرها ) لا تعود إلي شكلها الأصلي بعد إزالة القوي الخارجية وهذه تسمى بالأجسام الغير مرنة . وسوف ندرس فقط الأجسام المرنة .

### أولا : التشكيل في الأجسام تحت تأثير قوي خارجية محورية

في الحياة العملية نتعامل عادة مع الأجسام منتظمة الشكل أبسط صور الانتظام في الشكل – هو التماثل حول محورها ( اسطوانة – قضيب منتظم – مخروط قائم -.....) هي أشكال متماثلة حول محورها وهذا يعني – هندسيا – أن المحل الهندسي لمركز مقاطعها متوازيه وهو خط مستقيم – يعرف بمحور الجسيم . فإذا كانت القوي الخارجية المؤثرة علي الجسم في اتجاه هذا المحور فإن هذه القوي تسمى بالقوي المحورية .

### 1- التمدد ( الانكماش ) في الأسطوانات: معامل ينج :

يتعين التمدد (الانكماش) في أسطوانة منتظمة نتيجة لقوي شد  $T$  (أو ضغط  $p$ ) محوريه .  
من قانون هوك (Hook's Law)

$$T = \lambda \left( \frac{l - l_0}{l_0} \right) \quad (2.1)$$

أو

$$p = \lambda \left( \frac{l_0 - l}{l_0} \right) \quad (2.2)$$

حيث  $\lambda$  هي معامل المرونة لمادة الأسطوانة .  
 $l_0$  هو ارتفاع الأسطوانة قبل تأثير القوة المحورية .  
 $l$  هو ارتفاع الأسطوانة بعد تأثير القوة المحورية .  
 إلا أنه في العادة تجري في العلاقات السابقة بعض التعويضات التالية .

$$\varepsilon = \frac{l - l_0}{l_0} \quad (2.3)$$

في حالة وجود شد

$$\sigma = \frac{T}{A} \quad (2.4)$$

أما في حالة وجود ضغط فإننا نأخذ

$$\varepsilon = \frac{l_0 - l}{l_0} \quad (2.5)$$

$$\sigma = \frac{T}{A} \quad (2.6)$$

وتكون

$$\lambda = EA \quad (2.7)$$

حيث  $E$  مقدار ثابت يعرف بمعامل ينج للمرونة (Young's Modulus) لمادة الأسطوانة .

$A$  مساحة مقطع الاسطوانة العمودي على محورها

$\sigma$  هو الإجهاد لوحدة المساحات (الإجهاد)

$\varepsilon$  هو الانفعال لوحدة الأطوال (الانفعال)

وبذلك نأخذ العلاقة (2.1), (2.2), الصورة الآتية:

$$\sigma = E \varepsilon \quad (2.8)$$

ويلاحظ أن صحة العلاقة (2.8) ترتبط بتوافر الشروط الآتية

أ- القوى الخارجية المؤثرة ( $P$  or  $T$ ) هي قوى محورية

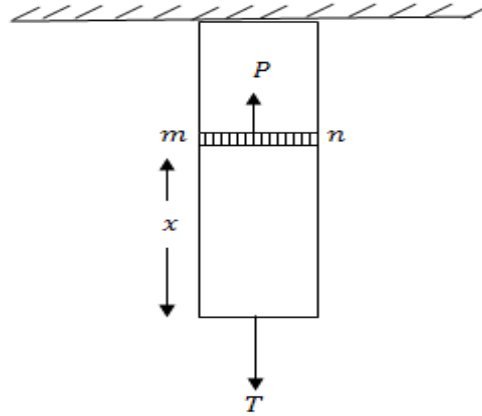
ب- الاسطوانة مصنوعة من مادة مرنة - أي أنه إذا أزيلت القوى الخارجية فإن الاسطوانة تعود إلى شكلها الأصلي

(قبل تأثير هذه القوى)

ج- التغير في مساحة مقطع الاسطوانة  $A$  ضئيل بحيث يمكن إهماله .

**2- الإجهاد والانفعال تحت تأثير الوزن :**

نأخذ قضيباً مساحة مقطعة  $A$  ووزن وحدة الحجم  $\gamma$  ومثبت في وضع رأسي من نهايته العليا وتؤثر عليه قوة شد  $T$  عند نهايته السفلي .



من الواضح أن الإجهاد عند أي مقطع يساوي الإجهاد الناشئ عن  $T$  مضافاً إليه الإجهاد الناشئ عن وزن الجزء الواقع أسفل هذا المقطع . وبالتالي فإن أقصى إجهاد يكون عند النهاية العليا ويساوي

$$\sigma_{\max} = \frac{T + \gamma Al}{A}$$

$$\sigma_{\max} = \frac{T}{A} + \gamma l \quad (2.9)$$

حيث الحد الثاني في الطرف الأيمن يمثل الإجهاد الناشئ عن الوزن لإيجاد الإجهاد  $\sigma(x)$  عند مقطع علي بعد  $x$  من الطرف السفلي كما بالشكل .

نلاحظ أن الجزء السفلي متزن تحت تأثير وزنه والقوة  $T$  وقوة شد الجسم العلوي له ولتكن  $p$  . أي أن

$$p = T + \gamma Ax \quad (2.10)$$

ولكن

$$p = A \sigma(x)$$

لذا فإن

$$\sigma(x) = \frac{p}{A} = \frac{T}{A} + \gamma x \quad (2.11)$$

ولكن

$$\sigma_{\max} = \sigma(l)$$

لذا فإن

$$A = \frac{T}{\sigma(l) - \gamma l} \quad (2.12)$$

من هذه العلاقة نجد أنه عندما تؤول  $\gamma l$  إلى القيمة  $\sigma(l)$  فإن  $A$  ستؤول إلى  $\infty$ .

وهذا يعني أنه لا يمكن تصميم قضيب أو وصلة منتظمة المقطع طولها  $l$  يصل إلى  $\frac{\sigma(l)}{\gamma}$  - وهذا يفسر استخدام وصلات متغيره المقطع في بعض الأحيان .

### حساب الانفعال في القضيب تحت تأثير وزنة .

نأخذ عند المقطع  $mn$  عنصرا سمكة  $dx$  . وحيث أن طول العنصر صغير ، فأنه يمكننا اعتبار أن الإجهاد فيه ثابت ويتحدد من العلاقة (2.11) وباستخدام العلاقة (2.8) فإن الزيادة في طول العنصر يساوي

$$\Delta x = \frac{\sigma(x)}{E} dx$$

$$= \left( \frac{T}{EA} + \frac{\gamma x}{E} \right) dx$$

الزيادة الكلية في القضيب هي  $\Delta l$  حيث

$$\Delta l = \int_0^l \left( \frac{T}{EA} + \frac{\gamma x}{E} \right) dx$$

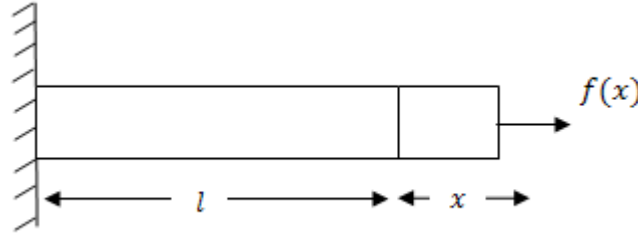
$$\Delta l = \frac{Tl}{EA} + \frac{\gamma l^2}{2E} \quad (2.13)$$

من الواضح أن الحد الثاني من الطرف الأيمن يعبر عن الزيادة في الطول الناشئة من وزن القضيب .  
بفرض أن القضيب مهمل الوزن ومشدود من طرفه السفلي بقوة تساوي نصف وزن القضيب . في هذه الحالة فإن من (2.3),(2.8) تكون الزيادة في طول القضيب هي

$$\epsilon l = \frac{\sigma}{E} l$$

$$= \frac{1}{2} \frac{\gamma A l}{AE} l = \frac{1}{E} \frac{1}{2} \gamma l^2 \quad (2.14)$$

وبالمقارنة مع (2.13) نجد أن الزيادة في طول القضيب الناشئة من وزن القضيب تساوي الزيادة في طول القضيب إذا أهملنا وزن القضيب وعلقنا فيه ثقلا مساويا لنصف وزنة .

**3- الطاقة الداخلية المرنة Elastic Energy**

نأخذ قضيباً مهمل الوزن طوله  $l$  ومساحة مقطعة  $A$  إذا ثبتنا أحد الطرفين وأثرنا على الطرف الآخر بقوي تبدأ من الصفر وتزداد تدريجياً حتى تصل إلى القيمة  $F$ .

ولنفرض إنه عندما استطال القضيب بمقدار  $x$  فإن القوة كانت  $f(x)$  الشغل المبذول بواسطة هذه القوة في إزاحة  $dx$  يساوي

$$d\omega = f(x)dx \quad (2.15)$$

ولكن من (2.3), (2.8) نعلم أن

$$\frac{f(x)}{A} = E \frac{x}{l} \quad (2.16)$$

$$\therefore d\omega = \frac{EAx}{l} dx$$

بفرض أن عندما نصل  $f(x)$  إلى القيمة  $F$  فإن الزيادة الكلية في القضيب هي  $\Delta l$  نجد أن الشكل الكلي المبذول أثناء هذه الزيادة يساوي

$$w = \int_0^{\Delta l} d\omega = \frac{EA}{l} \int_0^{\Delta l} x dx$$

$$w = \frac{EA}{2l} (\Delta l)^2 \quad (2.17)$$

ولكن من (2.3), (2.8) نعلم أن

$$F = EA \frac{\Delta l}{l}$$

لذا فإن

$$w = \frac{1}{2} F \cdot \Delta l \quad (2.18)$$

هذا الشكل يتحول إلى طاقة داخلية تعرف بالطاقة الداخلية المرنة العلاقة (2.18) يمكن كتابتها في الصورة .

$$w = \frac{1}{2} \sigma A \cdot \epsilon l$$

$$w = \frac{1}{2} \epsilon \sigma v \quad (2.19)$$

حيث  $v = Al$  هو الحجم الابتدائي للقضيب . من هنا نجد أن الطاقة الداخلية المرنة لوحده الحجم تساوي

$$\frac{w}{v} = \frac{1}{2} \sigma \epsilon \quad (2.20)$$

#### 4-انكماش المقاطع نتيجة لاستطالة القضبان المرنة:

درسنا فيما سبق الاستطالة الناشئة في القضيب نتيجة لتأثير قوي الشد عالية ، وذلك بفرض إن مساحة مقطع القضيب تظل ثابتة إثناء ذلك . ولكن ثبت من التجربة إن الاستطالة في إيه قضيب يصحبها انكماش في مقاطعة العرضية وإن النسبة بين الانكماش في الأبعاد العرضية والزيادة النسبية في الطول ثابتة للمادة الواحدة . ويسمى هذا الثابت بمعامل بواسون ويرمز له بالرمز  $M$  .

وبالدراسة النظرية للتكوين الكريستالي للمادة تمكن بواسون من حساب هذا العامل ووجد أنه يساوي  $\frac{1}{4}$  . وقد ثبت من التجربة أنه باستثناء بعض المواد مثل الفلين ( $M = 0$ ) والكاوتشوك والبرافين ( $M = 0.5$ ) فإنه للغالبية العظمى من المواد تكون  $M$  قريبة من قيمة بواسون (مثلا للصلب  $M = 0.3$ ) . إذا علم معامل بواسون للمادة المصنوع منها القضيب فإنه يمكن حساب التغير النسبي في حجمه نتيجة لتأثير قوي الشد عالية . لذا نفرض إن الإنفعال الطولي للقضيب هو  $\epsilon$  أي النسبة بين طوله بعد تأثير الشد وطوله الأصلي

$$1 + \epsilon : 1$$

وأن إبعاده العرضية تنكمش بنسبة

$$1 - M \epsilon : 1$$

أي النسبة بين مساحة المقطع بعد تأثير الشد ومساحة الأصلية هي

$$(1 - M \epsilon)^2 : 1$$

من هنا نجد أن النسبة بين الحجم بعد تأثير الشد والحجم الأصلي هي

$$(1 - M \epsilon)^2 (1 + \epsilon) : 1$$

ويفرض إن  $\epsilon$  صغيرة حيث يمكن إهمال مربعاتها فإن النسبة بين حجم القضيب بعد التشكيل وحجمه قبل التشكيل هي

$$1 + \epsilon - 2M \epsilon : 1$$

أي أن التغير النسبي في حجم القضيب هو  $\epsilon(1 - 2M)$  . ولقد ثبت من التجارب العملية أن حجوم القضبان تزداد نتيجة لتأثير قوي الشد عليها ومن هنا ينتج أن  $M < 0.5$  .

أمثلة محلولةمثال 1:

أحسب قوي الشد المؤثرة علي اسطوانة من الصلب قطرها  $1\text{cm}$  إذا كانت الزيادة النسبية في طولها  $0.7 \times 10^{-3}$  ومعامل ينج للصلب يساوي  $E = 2 - 1 \times 10^6 \text{ kg / cm}^2$

الحل

من قانون هوك ، نجد أن الإجهاد يساوي

$$\begin{aligned}\sigma &= E \varepsilon \\ &= 2.1 \times 10^6 \times 0.7 \times 10^{-3} \\ &= 1.47 \times 10^3 \quad \text{kg. / cm}^2\end{aligned}$$

وبالتالي ، فإن قوي الشد تساوي

$$\begin{aligned}T &= 1.47 \times 10^3 \times 3.14 \times 0.5 \times 0.5 \\ &= 1153.95 \quad \text{kg.}\end{aligned}$$

مثال 2:

أحسب مساحة مقطع قضيب من الصلب معلق رأسيا من احدي قاعدتيه وتؤثر علي قاعدته الأخرى قوة شد محورية  $p = 30 \text{ ton}$  ، إذا كان طول القضيب  $200 \text{ cm}$  والإجهاد المسموح به هو  $700 \text{ kg / cm}^2$  ووزن السنتمتر المكعب من الصلب يساوي  $7.8 \text{ gr}$  ومعامل ينج للصلب يساوي  $2.1 \times 10^6 \text{ kg / cm}^2$  . أحسب الزيادة الكلية في طول القضيب .

الحل

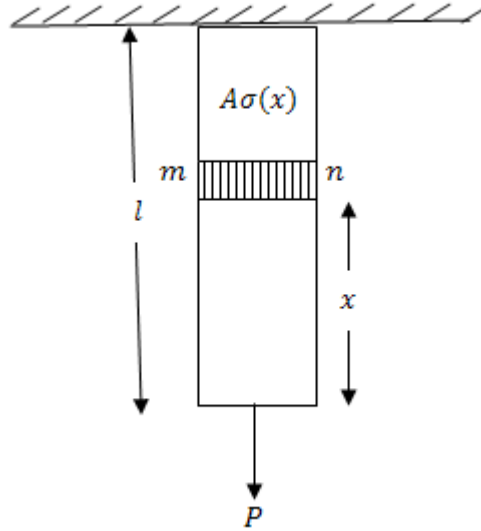
نفرض أن  $l$  طول القضيب ،  $A$  مساحة مقطعة ،  $\gamma$  وزن وحدة الحجم منة .

بأخذ مقطع عمودي  $mn$  علي بعد  $x$  من القاعدة السفلية

وبفرض إن الإجهاد عند هذا المقطع هو  $\sigma(x)$  فإنه من اتزان جزء القضيب الواقع أسفل المقطع  $mn$  نجد أن

$$A \sigma(x) = p + \gamma Ax, \sigma(x) = \frac{p}{A} + \gamma x \quad (1)$$

من (1) يتضح أن الإجهاد يتزايد  $x$  ، ويأخذ قيمته القصوى  $\sigma_{\text{max}}$  عند القاعدة العليا  $x = l$  وبالتالي يكون



$$A = \frac{p}{\sigma_{\max} - \gamma l} = \frac{30 \times 10^3}{700 - 7.8 \times 10^{-3} \times 200} = 42.29 \text{ cm}^2. \quad (2)$$

لحساب الزيادة في طول القضيب، نأخذ عنصرا صغيرا  $dx$  أعلي المقطع  $mn$ . إذا كانت الزيادة النسبية في طول العنصر (الصغير) هي  $\varepsilon(x)$ ، فإن الزيادة في طول العنصر تساوي  $\varepsilon(x)dx$ ، وبالتالي تكون الزيادة الكلية  $\Delta l$  في طول القضيب هي

$$\Delta l = \int_0^l \varepsilon(x) dx = \int_0^l \frac{\sigma(x)}{E} dx \quad (3)$$

بالتعويض عن معادلة (1) في معادلة (3) نجد أن

$$\Delta l = \frac{1}{E} \int_0^l \left( \frac{p}{A} + \gamma x \right) dx = \frac{l}{E} \left( \frac{p}{A} + \frac{\gamma l}{2} \right) \quad (4)$$

$$\Delta l = \frac{l}{E} \left( \sigma_{\max} - \frac{1}{2} \gamma l \right)$$



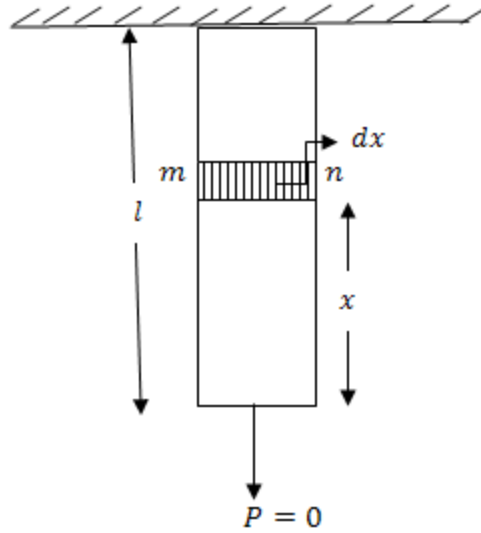
$$= \frac{200}{2.1 \times 10^6} \left( 700 - \frac{1}{2} \times 7.8 \times 10^{-3} \times 200 \right)$$

$$\therefore \Delta l = 6.659 \times 10^{-2} \text{ cm.}$$

### مثال 3:

احسب الزيادة في حجم قضيب معدني ، الناشئة من قوة شد محورية  $p$  ، وذلك بإهمال وزنه . إذا علق نفس القضيب رأسيا ، وكانت  $p = 0$  فاحسب الزيادة في حجمه ، الناشئة من وزنه . قارن بين النتيجتين .

### الحل



نعلم أن الزيادة في الحجم تساوي

$$\Delta v = \varepsilon (1 - 2M) v \quad (1)$$

نوجد  $\varepsilon$  في الحالة الأولى ( إهمال الوزن ) يكون الانفعال الطولي  $\varepsilon_1$  للقضيب مساويا

$$\varepsilon_1 = \frac{P}{EA} \quad (2)$$

لذا فإن

$$\Delta_1 v = \frac{PV}{EA} (1 - 2M) \quad (3)$$

أما في الحالة الثانية (إهمال قوي الشد  $P$ ) ولإيجاد الانفعال الطولي  $\varepsilon_2$  نأخذ عنصرا صغيرا  $dx$  علي بعد  $x$  من الطرف السفلي .

من دراسة اتزان الجزء أسفل العنصر نجد أن

$$A \sigma(x) = \gamma AX$$

$$\therefore \sigma(x) = \gamma x = E \varepsilon(x) \quad (4)$$

لذا فإن استطالة العنصر  $dx$  هي

$$\varepsilon(x)dx = \left(\frac{\gamma}{E}\right)x dx$$

والاستطالة الكلية  $\Delta l$  تساوي

$$\Delta l = \int_0^l \left(\frac{\gamma}{E}\right)x dx$$

$$= \frac{\gamma l^2}{2E} \quad (5)$$

وبالتالي يكون

$$\varepsilon_2 = \frac{\Delta l}{l}$$

$$= \frac{\gamma l}{2E} = \frac{\gamma V}{2EA} \quad (6)$$

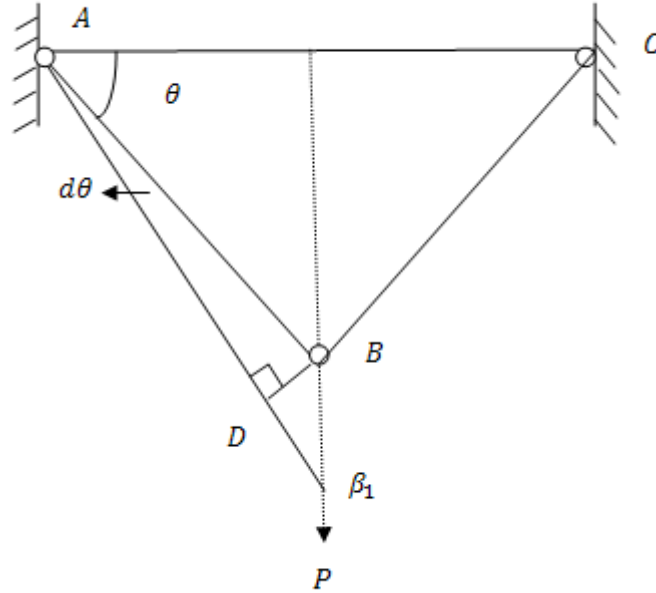
وبالتعويض من (6) في (1) نحصل علي

$$\Delta_2 v = \frac{\gamma v^2}{2EA} (1 - 2M) \quad (7)$$

من (3),(7) نجد أن

$$\frac{\Delta_1 v}{\Delta_2 v} = \frac{2P}{\gamma v} \quad (8)$$

يلاحظ إننا – للسهولة – اعتبرنا إن الانفعال الطولي والانفعال العرضي يحدثان كل مستقل عن الآخر ، مما أدى إلي إنه عند حساب الانفعال الطولي أهملنا التغير في مساحة المقطع .

تمارين على الباب الثاني

(1) الهيكل المبين بالشكل يتكون من قضيبين من الصلب مهملي الوزن  $AB, CB$  لها نفس مساحة المقطع وطول كل منها  $l$ . فإذا علق ثقل  $p$  في المفصلة عند  $B$ ، فاحسب مساحة المقطع اللازمة لحفظ التوازن عند النقطة  $B$  إذا كانت .

$$\sigma_{\max} = 500 \text{ kg / cm}^2$$

$$P = 2 \text{ ton}$$

$$E = 2 \times 10^6 \text{ kg / cm}^2$$

$$\theta = 30^\circ, l = 4.5 \text{ m.}$$

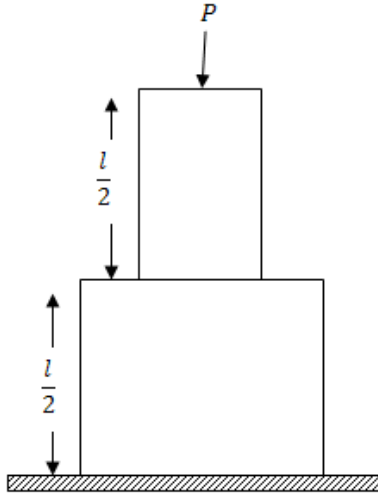
(2) العمود الموضح بالشكل يتكون من جزئين لهما نفس الارتفاع ومصنوعين من نفس المادة . فإذا أثرتنا علي القاعدة العليا للعمود بقوة ضغط  $P$  ، وكان وزن وحدة الحجم لمادة العمود هو  $\gamma$  وأكبر إجهاد ضغط يتحملة هو  $\sigma_{\max}$  فأحسب حجم العمود كله حيث

$$\sigma_{\max} = 10 \text{ kg} / \text{cm}^2 ,$$

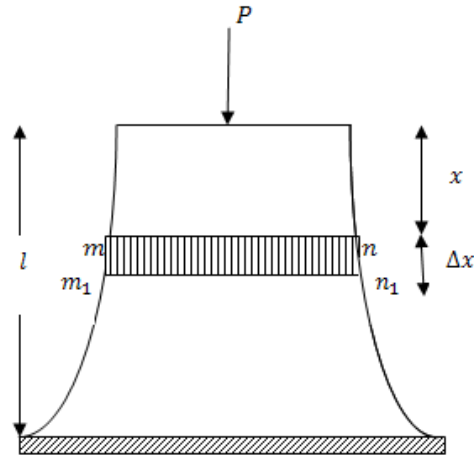
$$p = 240 \text{ ton} ,$$

$$l = 28 \text{ cm} , \gamma = 2 \text{ ton} / \text{m}^3 .$$

قارن بين حجم هذا البناء وحجم عمود واحد يحقق نفس الشروط .



(4) أوجد شكل العمود بحيث يكون الإجهاد فيه ثابتا ويساوي  $\sigma_{\max}$  وباستخدام القيم المعطاة في التمرين السابق أوجد حجم العمود ثم قارن بين حجمه وحجم البناء وحجم العمود السابق اللتي تم الحصول عليهم في التمرين السابق .



- (4) أثرت قوة شد  $p$  علي قضيب من الصلب (معامل ينج للصلب يساوي  $2.1 \times 10^6$ ) بحيث تغير قطر مقطعة الدائري من  $1\text{cm}$  إلي  $9.998\text{ cm}$  .  
 احسب  $P$  إذا كان معامل بواسون للصلب هو  $M = 0.3$  .
- (5) مخروط دائري قائم مصمت مثبت من قاعدته بحيث كان محوره رأسيا ورأسه إلي أسفل . احسب الاستطالة في ارتفاع المخروط تحت تأثير وزنة .

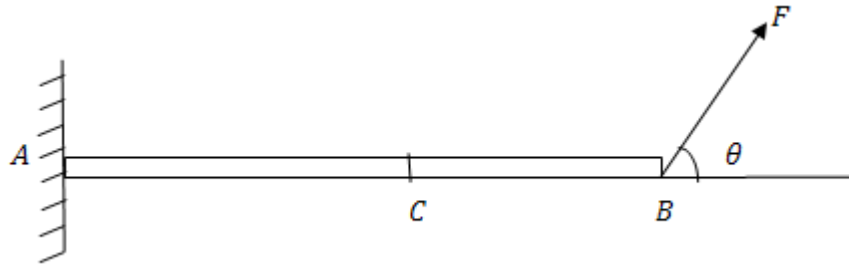
-----  
 -----  
 -----

## الباب الثالث

### اتزان القضبان الرفيعة تحت تأثير قوي غير محورية

#### أولاً: القوي القاصة وعزم الانحناء

درسنا فيما سبق اتزان القضبان الرفيعة تحت تأثير قوي محورية ، أي أن القوي تؤثر في اتجاه محور القضيب وعرافنا إنه يكون في القضبان قوي أو إجهادات داخلية . وسوف ندرس في هذا الباب دراسة اتزان القضبان الرفيعة عندما تؤثر عليها قوي غير محورية . في هذه الحالة تنشأ إجهادات داخلية في القضبان وتظهر عند المقاطع قوي قاصة عمودية علي محاور القضبان وعزوم انحناء . في بعض المجالات مثل المباني والإنشاءات الهندسية يكون من المهم حساب هذه القوي القاصة وعزوم الانحناء . ويجب الإشارة هنا إلي أن هذا الموضوع من الموضوعات التي تهتم المهندسين ويدرسه طلاب كلية الهندسة وذلك لأهمية دراسة التأثيرات الناتجة من قوي التحميل المختلفة وعلاقتها بالإجهادات الداخلية من شد أو ضغط وقوي قاصة وكذلك عزوم الانحناء وذلك في الإنشاءات الهندسية المختلفة . ولكي نلمس وجود هذه القوي الداخلية من شد أو ضغط وقوي قاصة وعزوم انحناء نعتبر اتزان قضيب أفقي خفيف  $AB$  مثبت أحد طرفية  $A$  في حائط رأسي ويؤثر في الطرف الحر  $B$  للقضيب قوة مقدارها  $F$  في اتجاه يصنع زاوية  $\theta$  مع الأفقي (كما بالشكل )



نعتبر مقطع للقضيب عند  $C$  . لكي يتزن الجزء  $CB$  من القضيب فإنه يجب أن تظهر عند المقطع  $C$  قوتان إحداهما  $T$  في اتجاه محور القضيب وتساوي مركبة القوه  $F$  في اتجاه محور القضيب



أي أن

$$T = F \cos \theta \quad (3.1.1)$$

والثانية  $N$  في اتجاه العمودي علي القضيب وتساوي مركبة القوة  $F$  في اتجاه العمودي علي محور القضيب أي أن

$$N = F \sin \theta \quad (3.1.2)$$

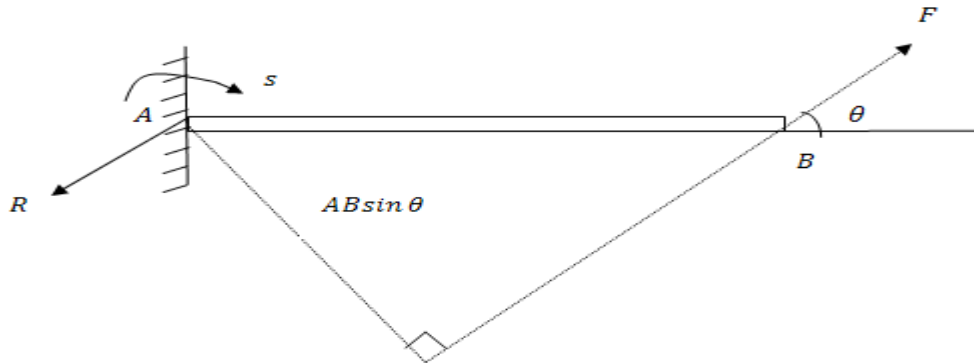
وكذلك يظهر عند المقطع  $C$  الازدواج  $M$  كما هو مبين بالشكل أي في اتجاه دوران عقارب الساعة ويساوي الازدواج المكون من القوتين المتساويتين  $N, F \sin \theta$  في المقدار وعكسه في الاتجاه أي أن

$$M = CB . F \sin \theta \quad (3.1.3)$$

ويجب ملاحظة أن الجزء الأيسر من القضيب  $AC$  يؤثر علي الجزء الأيمن  $CB$  بالقوتين  $T$  في اتجاه محور القضيب والقوي القاصة  $N$  وعزم الانحناء  $M$  وكذلك فإن الجزء الأيمن  $CB$  يؤثر علي الجزء الأيسر  $AC$  بنفس القوتين السابقتين وعزم الانحناء ولكن في الاتجاهات المضادة نلاحظ انه باعتبار اتزان القضيب كله  $AB$  فإنه عند موضع التثبيت  $A$  يؤثر رد الفعل  $R$  يوازي ويساوي في المقدار القوة  $F$  عند الطرف  $B$  ولكن في اتجاه مخالف .  
أي أن  $R = F$  كذلك يؤثر عند الطرف المثبت  $A$  ازدواج  $S$  يساوي في المقدار الازدواج المكون من القوتين  $R, F$  وعكسه في الاتجاه أي أن

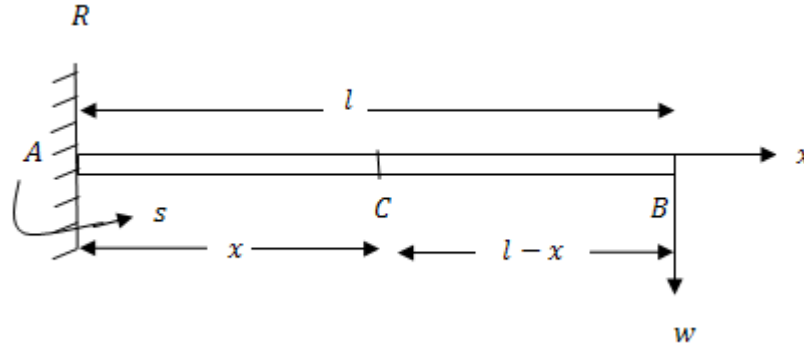
$$S = AB . F \sin \theta$$

وفيما يلي نعطي بعض الأمثلة لتوضيح كيفية تعيين القوي القاصة وعزوم الانحناء عند مقاطع القضيب المختلفة وسوف نقوم برسم المنحنيات التي تمثل القوي القاصة ، عزوم الانحناء

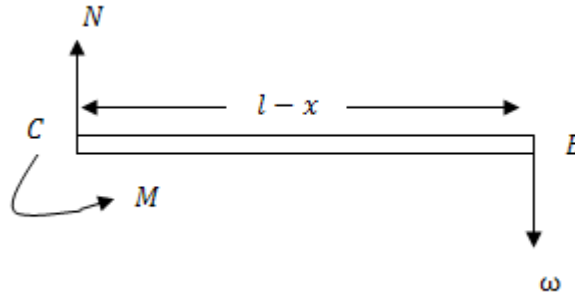


أمثلة محلولةمثال 1:

أوجد القوي القاصة وعزوم الانحناء عند أي مقطع لقضيب خفيف أفقي طوله  $l$  مثبت من أحد الطرفين في حائط رأسي إذا وضع ثقل  $w$  عند الطرف الحر للقضيب.

الحل

نفرض أن القضيب هو  $AB$  وأنه مثبت عند الطرف  $A$  ونأخذ مقطع للقضيب عند  $C$  حيث  $AC = x$ . لإيجاد القوه القاصة  $N$  وعزوم الانحناء  $M$  عند المقطع  $C$ . ندرس اتزان أحد الجزئين  $AC$  أو  $CB$ .



نلاحظ أن دراسة اتزان الجزء الأيمن من القضيب  $CB$  أسهل من دراسة اتزان الجزء الأيسر  $AC$  وذلك لوجود رد فعل  $R$  وازدواج  $S$ .


باعتبار اتزان الجزء الأيمن من القضيب  $CB$  نلاحظ إنه لكي يتزن هذا الجزء يجب أن يكون عند  $C$  قوة قاصة  $N$  رأسيا لأعلي وازدواج موجب ( أي في اتجاه مضاد لدوران عقارب الساعة ) وليكن  $M$  كما بالشكل حيث



$$N = \omega \quad (1)$$

$$M = \omega(l - x) \quad (2)$$

المعادلة (1) توضح لنا أن القوة القاصة ثابتة عند جميع مقاطع القضيب وباعتبار محور القضيب  $AB$  هو المحور الأفقي  $x$  فإن منحنى القوة القاصة  $N$  يكون خطا مستقيما أفقيا يبعد عن المحور  $x$  مسافة تساوى  $\omega$  كما بالشكل .



أما المعادلة (2) تعطينا عزوم الانحناء  $M$  عند المقطع  $C$  وواضح أن عزوم الانحناء يعتمد علي  $x$  . أي يتغير من مقطع لآخر .

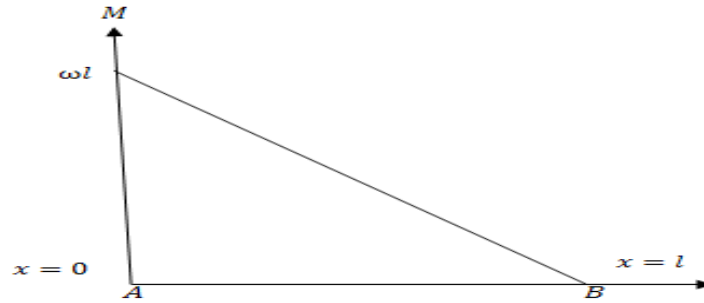
ويرسم المنحني الذي يمثل عزوم الانحناء عند المقاطع المختلفة للقضيب نجد أنه يمثل خطا مستقيما يمر بالنقطتين  $(l, 0)$ ,  $(0, \omega l)$

نلاحظ أن عزوم الانحناء أكبر ما يمكن عندما  $x = 0$  (أي عند الطرف المثبت  $A$ ) ويساوي  $\omega l$  بينما ينعدم عزوم الانحناء عند  $x = l$  (أي عند الطرف الحر  $B$ ) .

**ملحوظة:** نلاحظ انه بدراسة اتزان القضيب كله  $AB$  فإننا نعين رد الفعل  $R$  والازدواج  $S$  .

من الاتزان نجد أن

$$R = \omega, S = \omega l$$



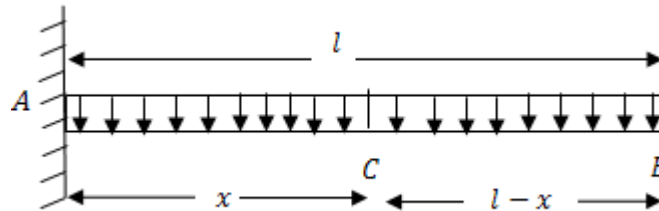
واتجاهها كما بالشكل الموضح

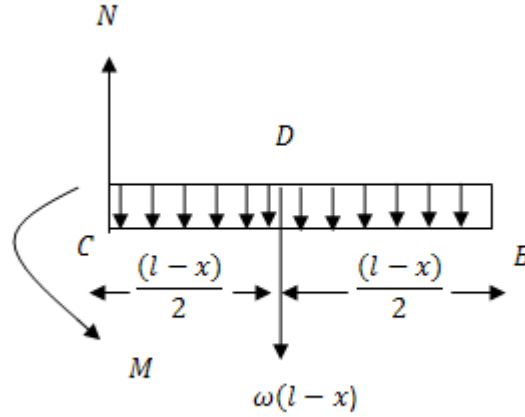
### مثال 2:

أوجد القوي القاصة وعزوم الانحناء لقضيب أفقي  $AB$  طوله  $l$  مثبت من طرفه  $A$  ومحمل تحميلا منتظما قدرة  $\omega$  لوحده الأطوال .

### الحل

نفرض مقطع عند  $C$  يبعد مسافة  $x$  عن الطرف المثبت  $A$  .





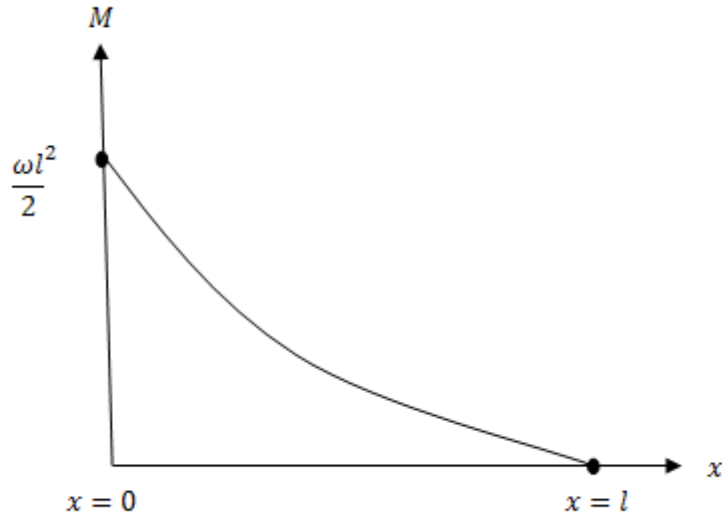
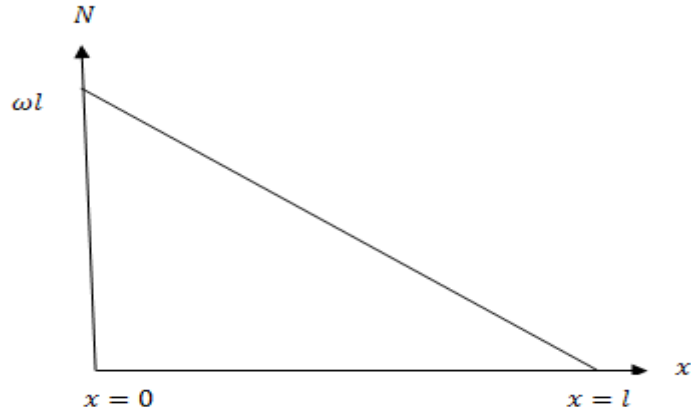
لإيجاد القوي القاصة وعزوم الانحناء عند المقطع  $c$  فإننا ندرس اتزان  $Bc$ .  
 نلاحظ أن التحميل الواقع علي الجزء  $CB$  يساوي  $\omega(l-x)$  ويؤثر عند منتصفه عند نقطة  $D$  ( $CB = DB$ )  
 وبالتالي فإنه من اتزان هذا الجزء نجد أن

$$N = \omega(l-x) \quad (1)$$

$$M = \omega(l-x) \frac{1}{2}(l-x)$$

$$M = \frac{\omega}{2}(l-x)^2 \quad (2)$$

المعادلة (1) تعين القوي القاصة عند أي مقطع للقضيب ونلاحظ أنها تتغير من مقطع لآخر ويمثلها خط مستقيم مار بالنقطتين  $(l, 0)$ ,  $(0, \omega l)$  كما بالشكل.  
 نلاحظ أيضا أن أكبر قوة قاصة تكون عند الطرف المثبت للقضيب ( $x=0$ ) وتساوي  $\omega l$  وأن القوة القاصة تتلاشي عند الطرف الحر للقضيب  $x=l$ .



المعادلة (2) تعين عزوم الانحناء عند مقاطع القضيب المختلفة ونجد إنها تتغير من مقطع لآخر . ويتمثيل منحنى عزوم الانحناء نجد أنه قطع مكافئ رأسه النقطة  $(l, 0)$  مفتوح لأعلي وطول وتره البؤري العمودي يساوي  $\frac{2}{\omega}$  . وأكبر عزوم انحناء يكون عند الطرف المثبت للقضيب ويساوي  $\frac{\omega l^2}{2}$  ويكون مساويا للصفر عند الطرف الحر للقضيب  $(x = l)$  .

**مثال 3:**

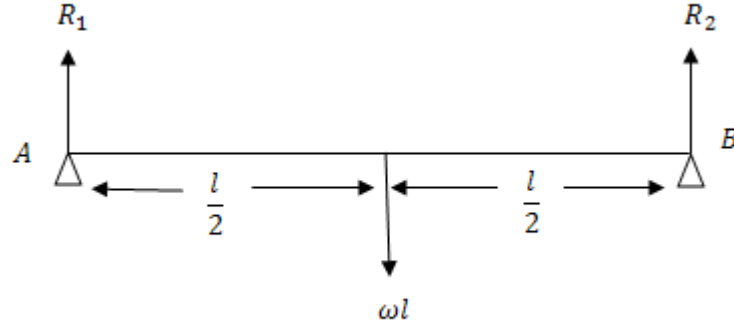
أوجد القوي القاصة وعزوم الانحناء لقضيب ثقيل منتظم  $AB$  طوله  $l$  ووزن وحده الأطوال منة  $\omega$  ويرتكز بطرفيه على وتدتين في مستوي أفقي.

**الحل**

باعتبار اتزان القضيب كله  $AB$

$$R_1 + R_2 = \omega l$$

ومن التماثل في الشكل



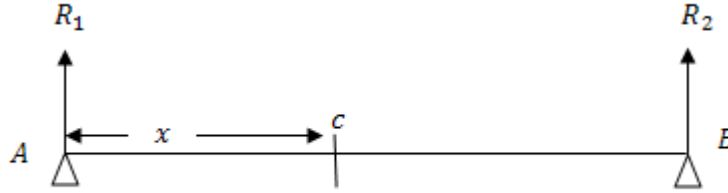
نجد أن

$$R_1 + R_2 = \frac{1}{2} \omega l$$

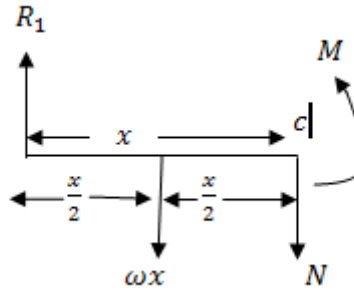
نعتبر مقطع للقضيب عند  $c$  حيث  $c = x$  وباعتبار اتزان الجزء  $Ac$  فإنه في الاتجاه الرأسي يكون

$$R_1 = \omega x + N$$

$$\frac{1}{2} \omega l = \omega x + N$$



$$N = \omega\left(\frac{l}{2} - x\right) \quad (1)$$

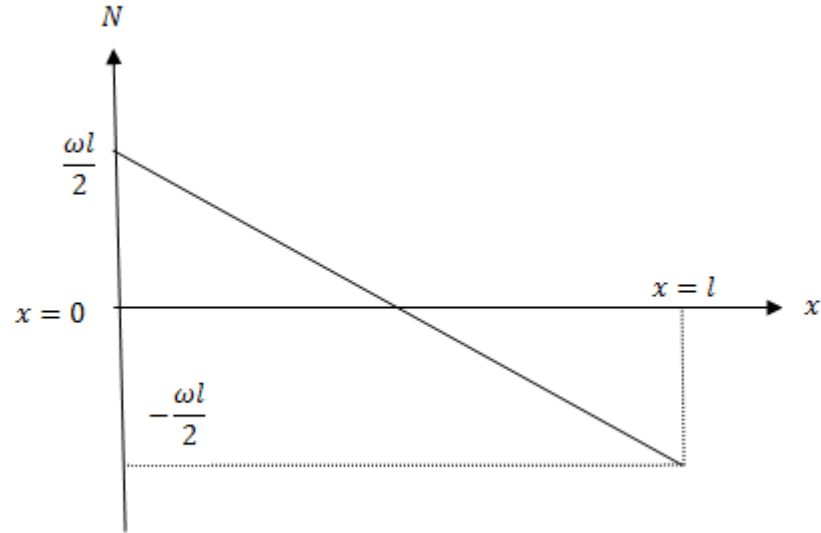


يأخذ العزوم حول  $c$  نحصل علي

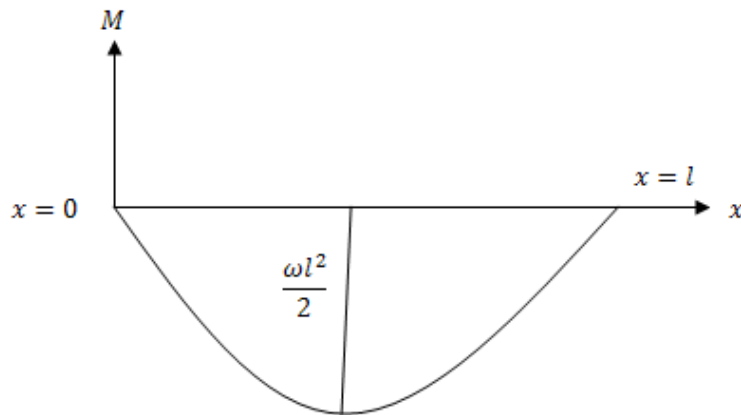
$$M + \omega x\left(\frac{x}{2}\right) = R_1 x$$

$$M = \frac{1}{2} \omega l x - \frac{\omega x^2}{2} = -\frac{\omega}{2} (x^2 - lx) \quad (2)$$

المعادلة (1) هي خط مستقيم كما بالشكل



وواضح إن أكبر قوة قاصة عند طرف القضيب  $A$  ( $x = 0$ ) وتساوي  $\frac{1}{2}\omega l$  وبتزايد  $x$  تتناقص القوة القاصة إلي أن تنعدم عند منتصف القضيب عندما  $x = l/2$  ثم تعكس اتجاهها في النصف الأيمن من القضيب  $AB$ . المعادلة (2) تمثل معادلة قطع مكافئ وواضح أن عزم الانحناء ينعدم عند طرفي القضيب أي عندما  $x = l, x = 0$  ويأخذ أكبر قيمة عندما  $x = l/2$  عند منتصف القضيب



**تمرين**

(1) قضيب خفيف أفقي طوله  $l$  يرتكز عند طرفية  $A, D$  علي حاملين وضع ثقلين متساويين كل منهما  $w$  عند النقطتين  $C, B$  حيث  $AB = CD = a (a < l/2)$ . أوجد القوة القاصة وعزوم الانحناء عند أي مقطع للقضيب.

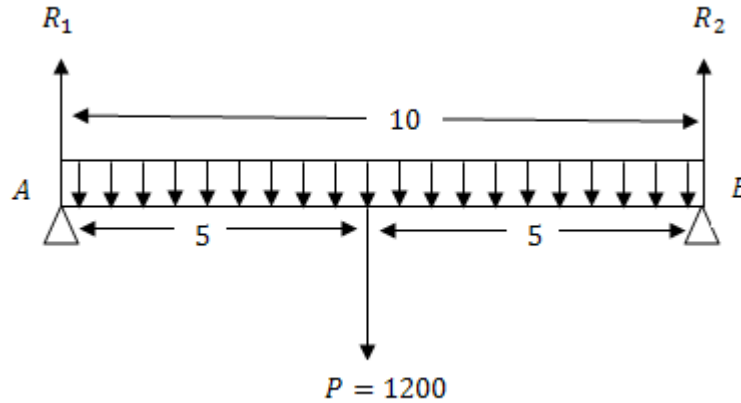
**مثال 4:**

قضيب خفيف  $AB$  مرتكز عند طرفية  $A, B$  طوله  $10 \text{ ft}$ . محمل بتحميل منتظم حيث وزن وحده الأطوال تساوي  $120 \text{ Ib}$ . عين القوة القاصة وكذلك عزوم الانحناء والتمثيل الهندسي لها علي بعد  $x$  من الطرف  $A$ .

**الحل**

الحمل الكلي الذي يؤثر علي القضيب يكون مساويا

$$P = 120 \times 10 = 1200 \text{ Ib}$$



ومن التماثل في الشكل نجد أن

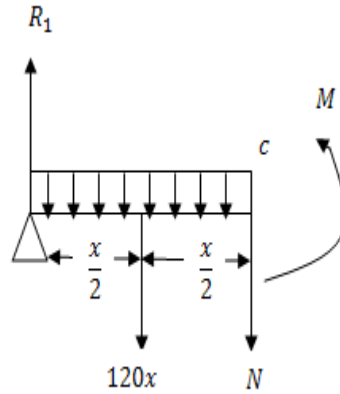
$$R_1 = R_2 = 600 \text{ Ib}$$

تعتبر المحور  $x$  في اتجاه محور القضيب ويأخذ نقطة  $A$  نقطة أصل وباعتبار مقطع من القضيب علي بعد  $x$  من النقطة  $A$  ودراسة اتزان نجد أن القوة القاصة عند  $C$  يكون مساويا

$$N = R_1 - 120 x$$



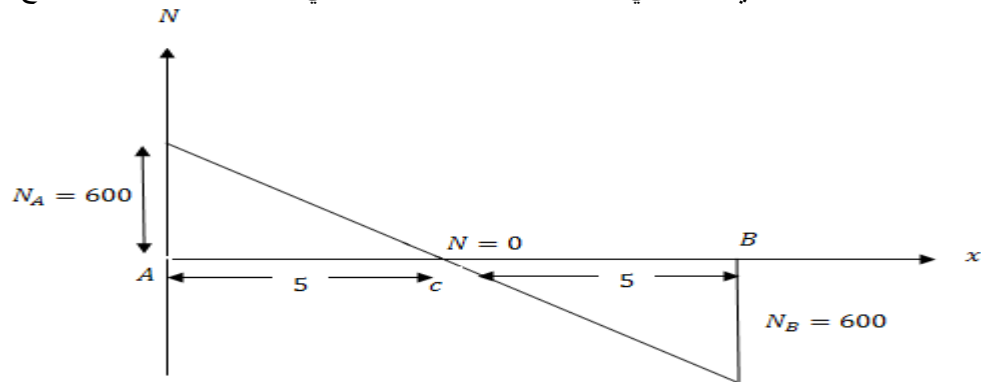
(1)  $N = 600 - 120x$   
 وحيث إنه لا توجد تحميل آخر علي القضيب غير الحمل الموزع توزيع منتظم فإن  $N$  تمثل هنا القوة القاصة عند أي نقطة علي القضيب



وعزم الانحناء عند  $c$  يكون مساويا

$$\begin{aligned} M &= R_1 x - 120x \cdot \frac{x}{2} \\ &= 600x - 60x^2 \end{aligned} \quad (2)$$

نلاحظ أن  $N$  هي دالة خطية في  $x$  وتنعدم عند منتصف القضيب وبأخذ القضيب هو المحور السيني والعمودي علياً يمثل القوة القاصة عند أي نقطة علي القضيب نجد أن التمثيل الهندسي للقوة القاصة كما هو موضح بالرسم .



عزوم الانحناء عند  $A$  يكون مساويا

$$M_A = 0$$

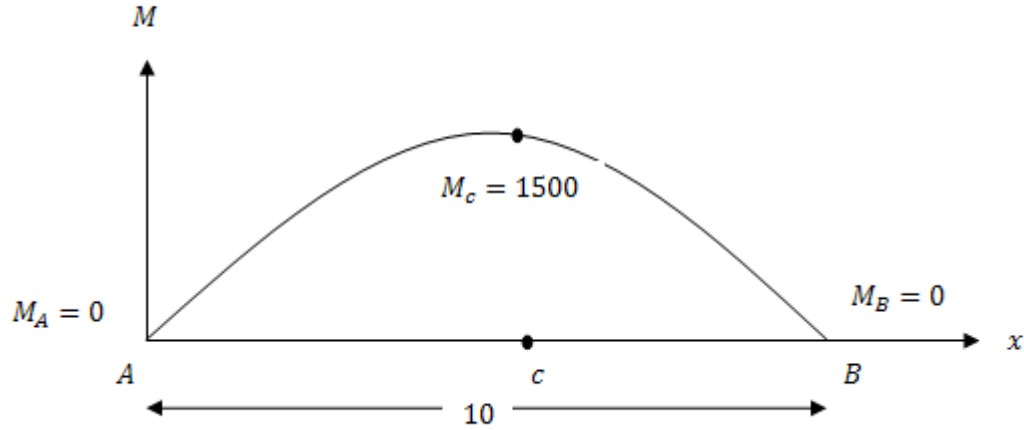
عزوم الانحناء عند  $B$  يكون مساويا

$$M_B = 0$$

عزوم الانحناء عند  $c$  يكون مساويا

$$\begin{aligned} M_c &= 600 \times 5 - 60 \times 25 \\ &= 3000 - 1500 = 1500 \text{ lb.ft.} \end{aligned}$$

ونلاحظ أن المعادلة (2) تمثل معادلة قطع مكافئ



### مثال 5:

قضيب خفيف  $AB$  مرتكز عند طرفية  $A, B$  طوله  $11 \text{ ft}$  تؤثر عليه ثلاثة أحمال خارجية هي علي التوالي  $2000 \text{ lb}$ ,  $1500$ ,  $2500$  عند النقط التي تبعد  $2, 4, 7 \text{ ft}$  من الطرف  $A$  أوجد القوي القاصة وعزوم الانحناء وكذلك التمثيل الهندسي لكل منها .

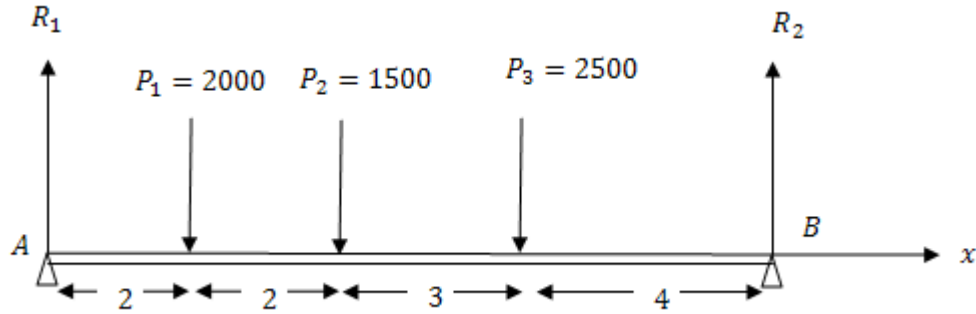
### الحل

$$R_1 + R_2 = 6000$$

بدراسة اتزان القضيب  $AB$  نجد أن

(1)

وبأخذ العزوم حول  $B$  نحصل علي



$$11 R_1 = 2000 \times 9 + 1500 \times 7 + 2500 \times 4$$

$$= 18000 + 10500 + 10000$$

$$11 R_1 = 38500$$

$$R_1 = 3500 \text{ lb.}$$

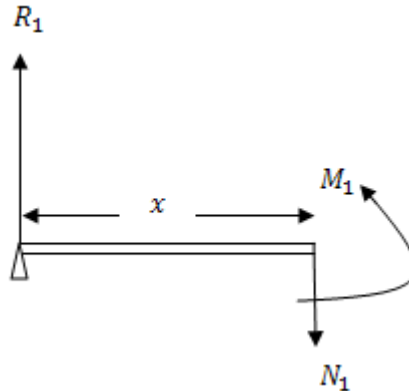
(2)

بالتعويض من (2) في (1) نجد أن

$$R_2 = 2500 \text{ lb}$$

نعتبر المحور السيني في اتجاه القضيبي .  
لتعين القوة القاصة وعزوم الانحناء عند أي نقطة تعتبر اتزان المقاطع التي تبدأ من الطرف الأيسر

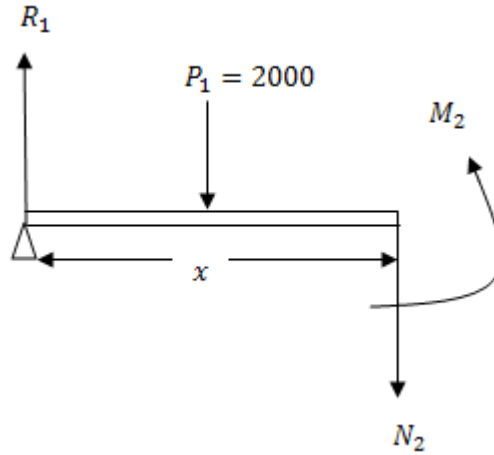
أولاً: عندما تكون  $0 < x < 2$



$$N_1 = R_1 = 3500 \text{ lb}$$

$$M_1 = R_1 x = 3500x \text{ lb.ft}$$

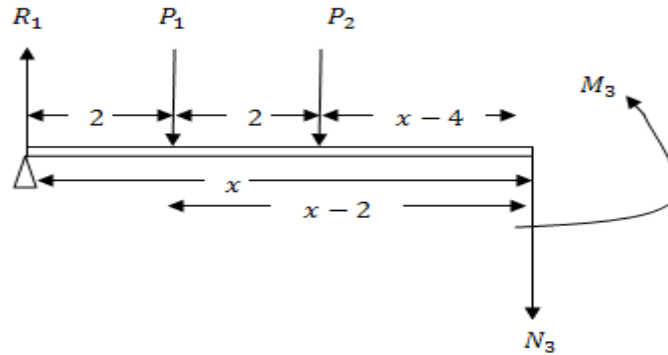
ثانياً: عندما تكون  $2 < x < 4$



$$N_2 = R_1 - p_1 = 3500 - 2000 = 1500$$

$$M_2 = 3500x - 2000(x - 2)$$

ثالثاً: عندما تكون  $4 < x < 7$

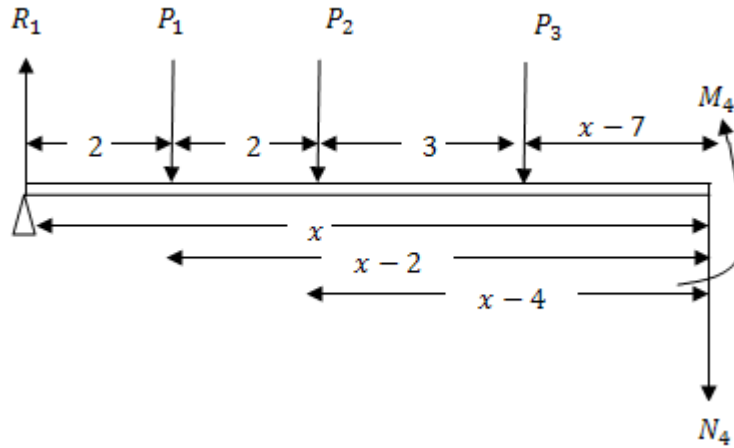


$$\begin{aligned} N_3 &= R_1 - p_1 - p_2 \\ &= 3500 - 2000 - 1500 \end{aligned}$$

$$N_3 = 0$$

$$\begin{aligned} M_3 &= R_1x - 2000(x - 2) \\ &\quad - 1500(x - 4) \end{aligned}$$

رابعاً: عندما تكون  $7 < x < 11$



$$N_4 = R_1 - P_1 - P_2 - P_3$$

$$N_4 = 3500 - 2000 - 1500 - 2500$$

$$N_4 = -2500$$

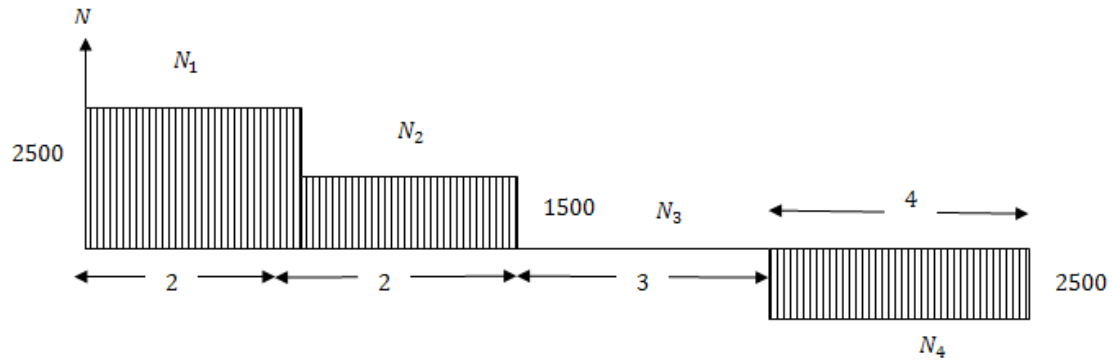
$$m_4 = 3500x - 2000(x-2) - 1500(x-4) - 2500(x-7)$$

$$M_3 = 3500x - 2000(x-2)$$

$$- 1500(x-4)$$

### التمثيل الهندسي للقوة القاصة .

نأخذ اتجاه القضيب لمحور سيني نقطه  $A$  هي نقطه الأصل أعلي القضيب يمثل القيم الموجبة للقوة القاصة وأسفل القضيب يمثل القيم السالبة للقوة القاصة .  
وبالتالي بالنسبة إلي  $N_1 = 3500$  عبارة عن مستقيم يوازي المحور  $ox$  وكل نقطة علي بعد 3500 لأعلي .  
وبالمثل  $N_2$  ونلاحظ أن  $N_3 = 0$  أي المحور  $ox$  نفسه هو الممثل للقوة القاصة  $N_3$  أما بالنسبة إلي  $N_4$  فهي سالبة وبذلك نرسم مستقيم يوازي  $ox$  وينخفض مسافة مقدارها 2500 وبذلك تكون قد رسمنا التمثيل الهندسي للقوة القاصة كما هو مبين بالرسم التالي



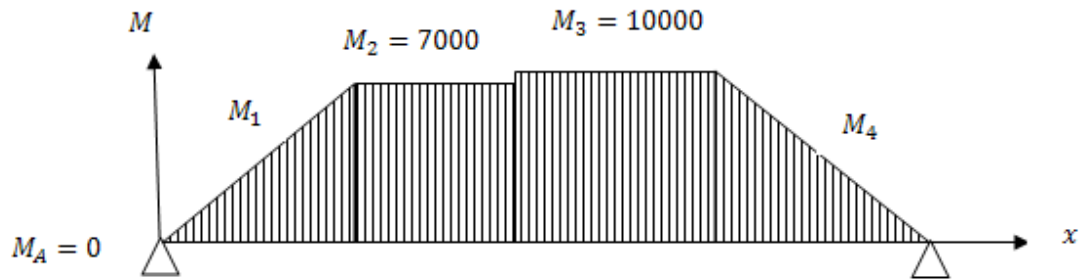
### التمثيل الهندسي لعزوم الانحناء :

لكي يمكن تمثيل كل من  $M_1, M_2, M_3, M_4$  هندسيا يجب معرفة عزوم الانحناء عند نقط تأثير  $p_1, p_2, p_3$  عزوم الانحناء عند  $p_1$  يعطي

$$(M_1)_{x=2} = 3500 \times 2 = 7000 \text{ Ib.ft}$$

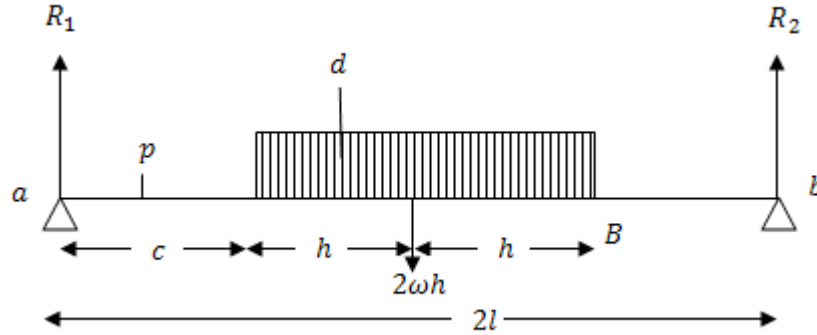
$$(M_2)_{x=4} = 10000 \text{ Ib.ft}, (M_3)_{x=7} = 10000 \text{ Ib.ft}$$

حيث أن القضيب مرتكز عن  $A, B$  فإن عزوم الانحناء عند نقط الارتكاز واضح من المعادلات التي تعطي عزوم الانحناء أنها فقط دالة خطية في  $x$  أي يمكن تمثلها بخط مستقيم .

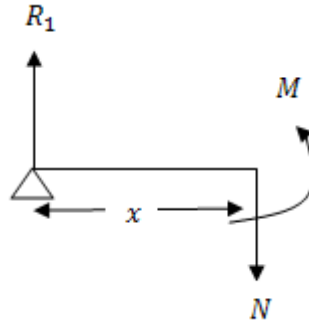


**مثال 6:**

قضيب خفيف أفقي  $ab$  طوله  $2l$  مرتكز عند نهايتيه ويحمل ثقل متحرك  $AB$  طوله  $(h < l)2h$  ووزن وحدة الطول منه  $\omega$ . أوجد أكبر عزم انحناء عند نقطة ما علي القضيب وأثبت أنه في هذه الحالة تقسم هذه النقطة المستقيم  $AB$  بنفس النسبة التي تقسم بها المستقيم  $ab$

**الحل**

بأخذ وضعاً للقضيب  $ab$  (كما بالشكل) بحيث يكون  $aA = c$  نوجد قيمة  $c$  بحيث يكون عزم الانحناء عند  $d$  أكبر ما يمكن لذلك باعتبار اتزان القضيب  $ab$  كله نجد أن



$$R_1 + R_2 = 2\omega h$$

وبأخذ العزوم حول النقطة  $b$  نجد أن

$$R_1 \times 2l = 2\omega l(2l - c - h)$$

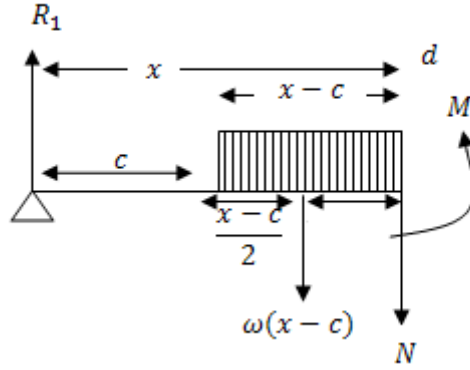
$$\therefore R_1 = \frac{\omega h}{l}(2l - c - h) \quad (2)$$

وبأخذ مقطع للقضيب عند  $p$  حيث  $ap = x$  وبشرط أن  $x < c$  في حالة  $x < c$

$$N = R_1 = \frac{\omega h}{l}(2l - c - h) \quad (3)$$

$$M = R_1 x = \frac{\omega h}{l}(2l - c - h)x \quad (4)$$

وأخذ مقطع عند النقطة  $d$  علي بعد  $x$  من النقطة  $a$  بحيث تكون  $ad = x$  أي أن  $x > c$ . القوة القاصة وعزوم الانحناء في هذه الحالة تكون



$$N = R_1 - \omega(x - c)$$

$$N = \frac{\omega h}{l}(2l - c - h) - \omega(x - c) \quad (5)$$

$$M = \frac{\omega h}{l}(2l - c - h)x - \frac{1}{2}\omega(x - c)^2 \quad (6)$$

واضح أن عزوم الانحناء  $M$  يتغير بتغير  $c$ .

$M$  نهاية عظمي عندما تحقق  $c$  الشرط الآتي

$$\frac{dM}{dc} = 0 \quad (7)$$

$$-\frac{x\omega h}{l} + \omega(x - c) = 0$$



ومنها

$$c = (1 - \frac{h}{l})x \quad (8)$$

وبالتعويض بهذه القيمة  $c$  فإننا نحصل علي أكبر عزوم انحناء بالصورة

$$\begin{aligned} M_{\max} &= (M)_{c=x(1-h/l)} \\ &= \frac{\omega h}{l} [2l - h - x(1 - h/l)]x \\ &\quad - \frac{1}{2} \omega [x - x(1 - h/l)]^2 x \end{aligned} \quad (9)$$

وفي هذه الحالة فإن النسبة  $\frac{Ad}{dB}$  نأخذ الصورة

$$\frac{Ad}{dB} = \frac{x - c}{2h - (x - c)} \quad (10)$$

بالتعويض عن قيمة  $c$  من المعادلة (8) ينتج أن

$$\begin{aligned} \frac{Ad}{dB} &= \frac{\frac{h}{l}}{2h - \frac{h}{l}x} = \frac{h/l(x)}{\frac{h}{l}(2l - x)} \\ &= \frac{x}{2l - x} = \frac{ad}{db} \end{aligned}$$

أي أن النقطة  $d$  التي عندها عزوم الانحناء أكبر ما يمكن تقسم الثقل المتحرك  $AB$  بنفس النسبة التي تقسم بها القضيب  $ab$ .

### مثال 7:

قضيب أفقي  $AB$  طوله  $l$  مثبت طرفه  $B$  في حائط رأسي ومحمل بتقل  $W$  موزع خطيا علي طول القضيب بازدياد منتظم يبدأ من الصفر عند الطرف الحر  $A$ . أوجد القوة القاصة وعزوم الانحناء عند أي مقطع للقضيب.

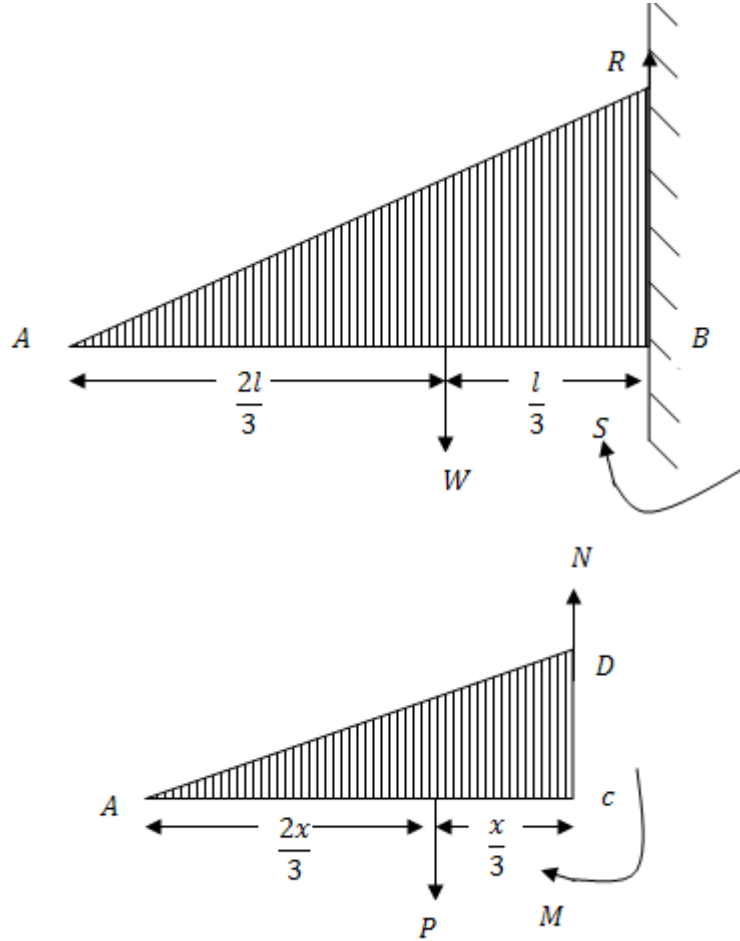
### الحل

حيث أن كثافة التحميل  $\omega(x)$  عند المقطع  $c$  علي بعد  $x$  من الطرف الحر  $A$  موزعا توزيعا خطيا علي طول القضيب فإن هذا الخط المستقيم يجب أن يمر بنقطة الأصل لذا فإن العلاقة بين  $x$ ،  $\omega(x)$  هي

$$\omega(x) = \lambda x \quad (1)$$

حيث  $\lambda$  هي ميل الخط المستقيم.

كثافة تحميل  $\omega(x)$  عند المقطع  $c$  تعبر عن الارتفاع  $DC$  ويكون الثقل الواقع علي عنصر صغير طوله  $dx$  من القضيب يساوي  $\omega(x)dx$  وعلي ذلك يكون التحميل الكلي الواقع علي القضيب  $AB$  يتعين من



$$W = \int_0^l \omega(x) dx$$

$$W = \int_0^l \lambda x dx$$

$$W = \frac{\lambda l^2}{2}$$

(2)

ومنها نعين قيمة  $\lambda$  وتساوي

$$\lambda = \frac{2W}{l^2} \quad (3)$$

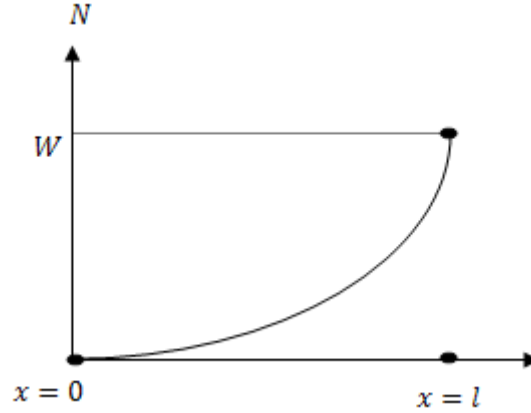
أي أن كثافة التحميل  $\omega(x)$  تكون في الصورة

$$\omega(x) = \frac{2W}{l^2} x \quad (4)$$

باعتبار اتران الجزء  $Ac$  من القضيب نجد أن القوة القاصة  $N$  تساوي الثقل  $p$  الواقع علي الجزء  $Ac$ , أي أن

$$N = p = \int_0^x \omega(x) dx = \int_0^x \frac{2W}{l^2} x dx$$

$$N = \frac{Wx^2}{l^2} \quad (5)$$

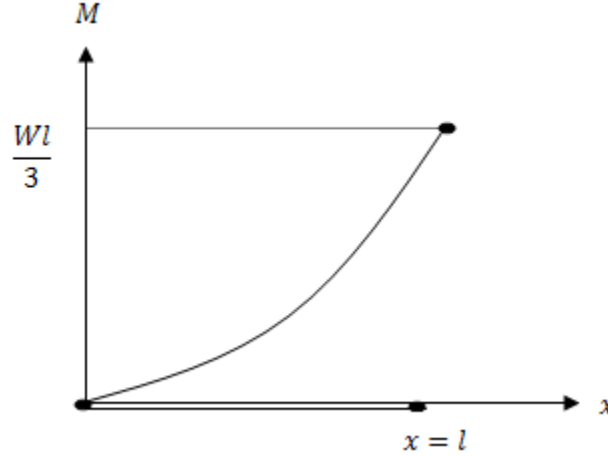


حيث يقسم الثقل  $p$  المسافة  $Ac$  بنسبة 2:1, أي أن

$$AE = 2Ec = \frac{2x}{2}$$

واضح أن العلاقة (5) تعين القوة القاصة عند أي مقطع للقضيب وواضح أيضا أنها تمثل قطع مكافئ رأسه عند نقطة الأصل (كما بالشكل) وأن القوة القاصة تساوي صفر عندما  $x = 0$  (أي عند الطرف الحر  $A$ ) وأن أكبر قيمة للقوة القاصة عندما  $x = l$  أي عند الطرف المثبت في الحائط  $B$  وتساوي  $W$  وبأخذ العزوم حول المقطع  $c$  نجد أن

$$M = p \frac{x}{3} = \frac{Wx^2}{l^2} \frac{x}{3} = \frac{Wx^3}{3l^2} \quad (6)$$



المعادلة (6) تعطي عزوم الانحناء عند أي مقطع وهي علاقه من الدرجة الثالثة في  $x$  ونلاحظ أن  $M = 0$  عندما  $x = 0$  (أي عند الطرف الحر  $A$  يتلاشي عزوم الانحناء).

أيضا عزوم الانحناء يكون أكبر ما يمكن عندما  $x = l$  (أي عند الطرف المثبت  $B$ ) ويساوي  $\frac{1}{2}Wl$  وفي الاتجاه الموجب أي في اتجاه عكس دوران عقارب الساعة.

### ملحوظة:

يمكن إيجاد رد الفعل  $R$  والازدواج  $S$  عند الطرف المثبت  $B$  وذلك باعتبار الاتزان القضيبي كله  $AB$  فنجد

أن

$$R = W$$

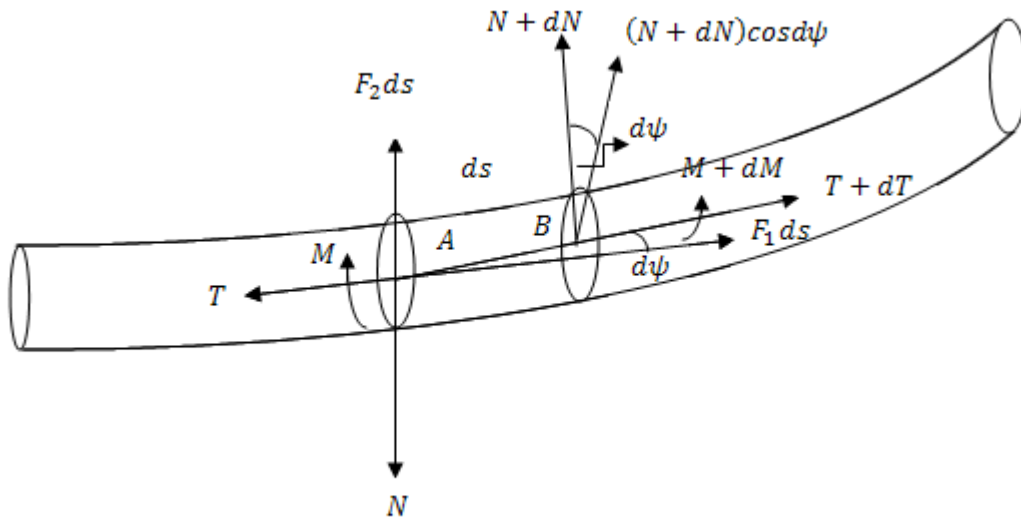
$$S = \frac{1}{3}Wl$$

وذلك لأن الثقل  $W$  يؤثر في نقطة تقسم القضيب  $AB$  بنسبة 2:1 أي أن

$$AF = 2FB = \frac{2}{3}l$$

**ثانياً:- معادلات الاتزان لقضيب رفيع منحنى :**

بفرض اتزان عنصر طوله  $dS$  من قضيب رفيع منحنى ونفرض أن  $T$  القوة في اتجاه محور القضيب (المماس عند  $A$ )،  $N$  القوة القاصة العمودية علي محور القضيب،  $M$  عزوم الانحناء علي المقطع الأيسر . ونفرض أن  $T + dT$  القوة في اتجاه محور القضيب (المماس عند  $B$ ) و  $N + dN$  هي القوة القاصة العمودية علي محور القضيب عند  $B$ ،  $M + dM$  هي عزوم الانحناء علي المقطع الأيمن . ونفرض أن مركبتي القوة الخارجية المؤثرة علي العنصر في اتجاهي محور القضيب (المماس عند  $A$ ) والعمودي عليه هما  $F_1 dS$ ،  $F_2 dS$  كما بالشكل .



بكتابة معادلات الاتزان في اتجاهي محور القضيب (المماس عند  $A$ ) والعمودي عليه وأخذ العزوم حول  $A$  فإن

$$(T + dT) \cos d\psi + F_1 dS - T - (N + dN) \sin d\psi = 0 \quad (3.2.1)$$

$$(T + dT) \sin d\psi + (N + dN) \cos d\psi + F_2 dS - N = 0 \quad (3.2.2)$$

$$(M + dM) - M + (N + dN) dS = 0 \quad (3.2.3)$$

وحيث أن  $d\psi$  زاوية صغيره جدا فإن

$$\sin d\psi = d\psi, \cos d\psi = 1$$

وبإهمال الكميات الصغيرة من الدرجة الثانية فإن المعادلات السابقة تأخذ الصورة

$$dT + F_1 dS - Nd\psi = 0 \quad (3.2.4)$$

$$dN + Td\psi + F_2 dS = 0 \quad (3.2.5)$$

$$dM + NdS = 0 \quad (3.2.6)$$

وبالقسمة على  $dS$  تصبح المعادلات (3.2.4-3.2.6) في الصورة

$$\frac{dT}{dS} - N \frac{d\psi}{dS} + F_1 = 0 \quad (3.2.7)$$

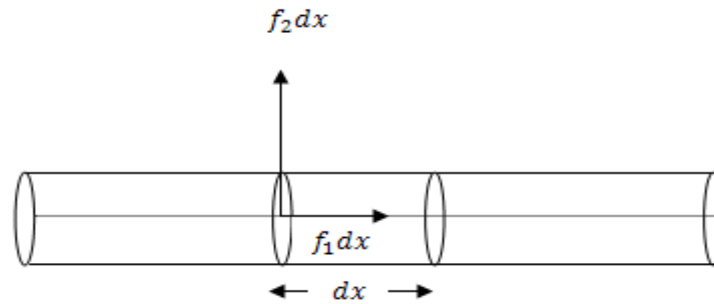
$$\frac{dN}{dS} + T \frac{d\psi}{dS} + F_2 = 0 \quad (3.2.8)$$

$$\frac{dM}{dS} + N = 0 \quad (3.2.9)$$

حيث  $\frac{dS}{d\psi} = \rho$  هو نصف قطر الانحناء قطر الانحناء (النقوس) لمحور القضيبيب المعادلات (3.2.7 – 3.2.9) هي معادلات الاتزان لقضيبيب رفيع منحنى.

### حالة خاصة:

عندما يكون القضيبيب مستقيما فان نصف قطر الانحناء يكون ما لانهايه  $\rho = \infty$  ونأخذ معادلات الاتزان لقضيبيب مستقيم الصورة



$$\frac{dT}{dx} + F_1 = 0 \quad (3.2.10)$$

$$\frac{dN}{dx} + F_2 = 0 \quad (3.2.11)$$

$$\frac{dM}{dx} + N = 0 \quad (3.2.12)$$

### ملحوظة :

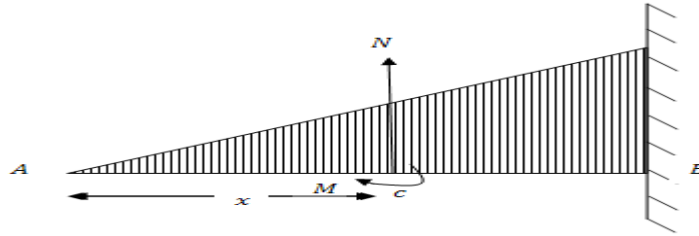
يمكن حذف القوة الفاصلة  $N$  بين المعادلتين (3.2.11), (3.2.12) وذلك بتفاضل المعادلة (3.2.12) بالنسبة إلى  $x$  وطرح (3.2.11) من الناتج نحصل على معادلة تفاضلية تربط عزم الانحناء  $M$  بمركبة القوى الخارجية  $F_2$  في الصورة

$$\frac{d^2 M}{dx^2} = F_2 \quad (3.2.13)$$

### مثال (1)

حل مثال (7) السابقة مستخدماً معادلات الاتزان لقضيب رفيع مستقيم.

### الحل



في هذه الحالة كثافة التحميل  $w(x)$  تساوى  $\frac{2W}{l^2}x$  ويكون

$$F_2 = -w(x) = -\frac{2W}{l^2}x$$

وباستخدام العلاقة (11) فان القوة الفاصلة  $N$  عند اى مقطع تكون

$$N = -\int F_2 dx = +\int_0^x \frac{2W}{l^2} x dx$$

$$N = \frac{Wx^2}{2l^2}$$

وباستخدام المعادلة (12) نحصل على عزم الانحناء  $M$  في الصورة

$$M = -\int Ndx = -\frac{W}{l^2} \int_0^x x^2 dx = -\frac{Wx^3}{3l^2}$$

وهي نفس النتائج التي حصلنا عليها في الحل السابق لمثال (7) .



### تمارين على الباب الثالث

(1) قضيب  $AB$  يمكنه الدوران حول طرفه  $A$  ويرتكز بطرفة الآخر  $B$  على حائط رأسي أملس. اثبت ان عزم الانحناء عند نقطة  $c$  على القضيب يتناسب مع  $CA \cdot CB$ .

(2) ثلاث قضبان متساوية متصلة عند نهايتها العليا ومرتكزة عند نهايتها السفلى على مستوى افقى وتحمل عند أعلى نقطة ثقل  $F$ . اذا كان طول اى قضيب يساوى  $2l$  ويصنع زاوية  $\alpha$  مع الرأسى وان  $\omega$  وزن وحدة الطول لكل منها. فاوجد عزم الانحناء عند اى نقطة من القضيب واثبت انه لا يعتمد على الثقل  $F$ .

(3) وضع طوق الدائري على مستوى افقى بحيث كان مستواه راسيا. اثبت أن عزم الانحناء الناشئ عن الطوق يكون اكبر ما يمكن عند نقطة بعدها الزاوي  $\theta$  عن أعلى نقطة من الطوق يتعين من

$$\theta + \tan \theta = 0$$

(4) قضيب طوله  $3l$  ووزن وحدة الأطوال منه  $\omega$ . وزع توزيعا متصلا على الثلث الأوسط منه بكثافة وزنها  $p$  لوحدة الأطوال. ادرس القوى القاصة وعزوم الانحناء عند مقاطع القضيب المختلفة عندما يرتكز القضيب عند نهايته على وتدين أملسين.

(5) ثقل مستمر  $\omega$  طن لكل قدم يتحرك ببطء على كوبري طوله  $l$  قدم إذا أهمل وزن الكوبري فاثبت أن اكبر قوة قاصة عند نقطة  $p$  على بعد  $\lambda$  من الطرف الأقرب تساوى تساوى  $\frac{\omega}{2l}(l - \lambda)^2$ .

(6) رجل وزنه  $\omega$  يمكنه أن يعبر قضيب مرتكز عند نهايته وزنه  $\omega\eta$  وطوله  $l$  بدون أن ينكسر. إذا ثبت القضيب من احد نهايته بحيث كان المماس عندها افقيا فاثبت أن أقصى مسافة يمكن للرجل أن يتحركها على القضيب تساوى  $\frac{1}{4}l\left(1 - \frac{3}{2}\eta\right)$ .

(7) قضيب  $AB$  طوله  $12 \text{ ft}$  يرتكز عند نهايته على حاملين في مستوى افقى ويحمل ثقلا يزيد بانتظام من الصفر عند الطرف الأيسر  $A$  حتى اكبر قيمة  $600 \text{ lb / ft}$  عند الطرف  $B$ . اوجد القوة القاصة وعزم الانحناء عند اى مقطع.

(8) قضيب خفيف  $AB$  طوله  $l$  مثبت عند نهايته اليمنى  $B$  ومحمل نصفه الأيمن تحميلا منتظما كثافته  $\omega_0$  لوحدة الأطوال. فإذا وضع ثقل  $\omega$  عند الطرف الحر  $A$  فاوجد القوة القاصة وعزم الانحناء عند اى نقطة من القضيب.

(9) قضيب راسي طوله  $3 \text{ ft}$  مثبت على ارض أفقية. اوجد القوة القاصة وعزم الانحناء عند الطرف المثبت وعند نقطتي تثليث القضيب إذا أثرت على الطرف العلوي للقضيب قوة أفقية مقدارها  $200 \text{ Ib}$ .

(10) قضيب  $oAB$  مثبت أفقيا عند طرفه  $o$  بحيث يكون  $oA = 2AB = 2 \text{ ft}$  وضع ثقلين  $200 \text{ Ib}$ ,  $300 \text{ Ib}$  عند  $B, A$  على الترتيب. اوجد القوة القاصة وعزم الانحناء عند النقطتين اللتين تنصفان  $AB, oA$ .

(11) قضيب منتظم طوله  $2l$  يرتكز في وضع متمائل على حاملين في نفس المستوى الافقى المسافة بينهما  $2h$ . إذا كان  $l < 2h$  فاثبت إن عزم الانحناء يكون نهاية عظمى عند الحامل أو في المنتصف حسبما يكون  $l > 2h$  وإذا كان  $l > (2 + \sqrt{2})h$  فاثبت إن عزم الانحناء عند الحامل يكون نهاية عظمى عند الحامل واوجد قيمته.

(12) قضيب خفيف أفقي طوله  $l$  يرتكز عند نهايته ومحمل بحيث يتناسب عزم الانحناء عند أي نقطة مع وزن وحدة الطول عند نفس النقطة. اثبت ان الوزن عند أي نقطة يتناسب مع  $\sin\left(\frac{\pi x}{l}\right)$  حيث  $x$  بعد النقطة عن احد طرفي القضيب.

(13) قضيب ثقيل وزنه  $W$  وطوله  $3l$  يرتكز على حاملين املييين احدهما عند طرفه والآخر على بعد  $l$  من الطرف الآخر. وزع ثقلا مقداره  $2lp$  توزيعا منتظما على المسافة المحصورة بين الوتدين من القضيب. ادرس منحنيات القوى القاصة وعزوم الانحناء.

(14) قضيب يرتكز عند نهايته على حاملين ومحمل تحميلا كثافته لوحدة الأطول عند أي نقطة تعطى من العلاقة  $\omega(x) = \omega_0(a + bx)$  حيث  $a, b$  ثابتين. اوجد القوة القاصة وعزم الانحناء عند أي نقطة واستنتج الحالات الخاصة التي فيها  $b = 0$  ثم  $a = 0$ .

(15) حل التمرين السابق (14) إذا كان القضيب مثبت عند الطرفين.

(16) قضيب افقى  $AB$  طوله  $8 \text{ ft}$  مثبت طرفه الأيمن  $B$  في حائط راسي وحمل النصف الأيسر من القضيب بانتظام بكثافة  $100 \text{ Ib / ft}$ . اوجد القوة القاصة وعزم الانحناء عند أي مقطع من مقاطع القضيب المختلفة.

## الباب الرابع


### القضبان قليلة القابلية للانحناء

فيما سبق كنا نفترض دائما وجود اجسام صلبة ذات شكل ثابت لا يتغير مهما كانت القوة المؤثرة عليه . او نفترض وجود خيوط طولها ثابت لا يزيد تحت تأثير ايه شد . ولكن المواد في طبيعتها تختلف عن ذلك فجميع الاجسام تتغير تحت تأثير القوى المؤثرة تغييرا يتوقف من حيث المقدار والنوع تبعا لمادة الجسم وشكله ومقدار هذه القوة . وسوف نقتصر في هذا الباب على دراسة هذه التغيرات فبالقضبان الرفيعة وفي ابسط الحالات في تلك التي يمكن حساب الشد فيها تبعا لقانون هوك .

### اولا: انحناء القضبان:

اذا حمل قضيب بطريقة ما فانه ينحني نتيجة لهذا الحمل . ويبدو ان هناك علاقة ما بين شكل القضيب وعزم الانحناء وعن طريقة التجربة توصل برنوللي Bernoulli ، ايلر Euler / ان عزم الانحناء عند اية نقطة على قضيب رفيع يتناسب تناسباً عكسياً مع نصف قطر الانحناء عند هذه النقطة . وفيما يلي برهاننا لهذه العلاقة في حالات خاصة وباستخدام فروض ليست صحيحة تماما .

نعتبر قضيبا مستقيما اثرت عليه مجموعة من القوى الخارجية يضمها مستوى واحد بقسم القضيب الى قسمين متماثلين .



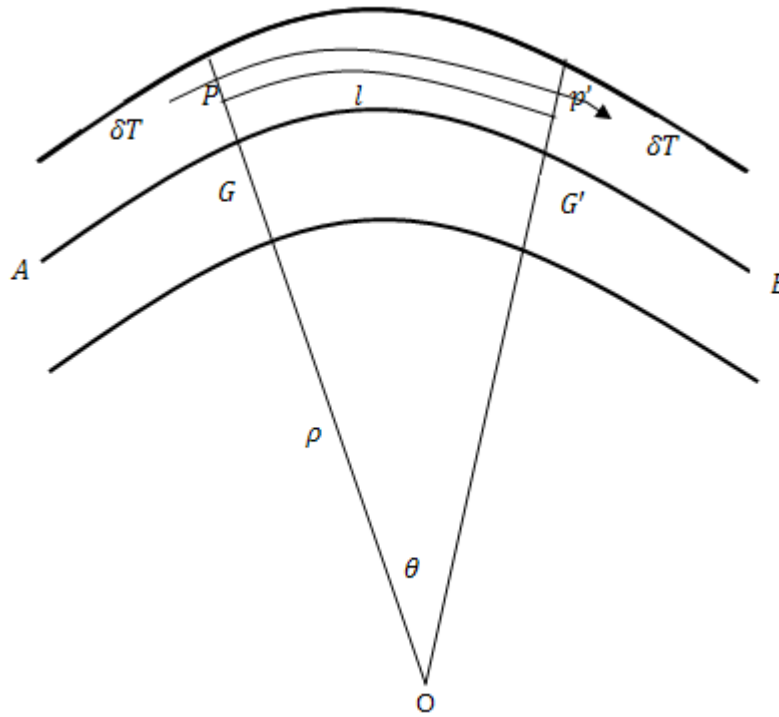
شكل (أ)

في الشكل (أ)  $AB$  هو مقطع القضيب بواسطة مستوى القوى وفي الشكل (ب) نفس المقطع بعد انحناء القضيب تحت تأثير هذه القوى نتيجة لهذا الانحناء فان الالياف التي يتكون منها القضيب يزداد طولها اذا كانت اقرب الى السطح العلوي وبذلك تكون في حالة شد ويقل طولها اذا كانت اقرب الى السطح السفلي وبذلك تكون في حالة ضغط اما الالياف التي تفصل بين هذه وتلك فلن بتغير طولها بالانحناء وتعرف باسم خطوط التعادل  $Neutral Lines$  في الشكل  $GG'$  هو خط التعادل في مقطع القضيب بواسطة مستوى القوى ويعرف بمحور القضيب . اما ابعاد القضيب العرضية فإنها سوف تتغير هي الاخرى نتيجة لانحناء القضيب الا اننا سوف نهمل هذا التغير نظرا لصغره . كذلك سوف نفترض ان اية مقطع عرضي للقضيب وهو مستقيما يظل مقطعا عرضيا له وهو منحنى ومحتويا على نفس الجزيئات . نعتبر مقطعين عرضيين عند  $G, G'$  بينهما مسافة صغيرة  $L$  ونفترض انهما عند الانحناء تقابلا في  $O$  .

فاذا كانت  $\rho$  هي نصف قطر إنحناء محور القضيب ،  $\theta$  الزاوية التي يحصرها  $GG'$  عند  $O$  فان

$$l = \rho\theta \quad (4.1.1)$$

كذلك نعتبر الالياف عند اية نقطة  $P$  على المقطع عند  $G$  وتبعد مسافة  $y$  عنها فإذا اصبح طول هذه الالياف بعد إنحناء القضيب  $l + h$  فإن



شكل (ب)

$$l + h = (\rho + y)\theta$$

$$\therefore h = y\theta$$

$$(4.1.2)$$

ومن العلاقة (4.1.1) ، (4.1.2) ينتج ان

$$\frac{h}{y} = \frac{l}{\rho} \quad (4.1.3)$$

وبستخدام قانون هوك فان الشد في  $pp'$

$$E \delta A \frac{h}{l} = E \delta A \frac{y}{\rho} \quad (4.1.4)$$

حيث  $\delta A$  هي مساحة مقطع الالياف  $pp'$  و  $E$  معامل ينج لمادة القضب .

∴ محصلة الشد التي تؤثر على المقطع عند  $G$  يعطى من العلاقة

$$T = \int \frac{E}{\rho} y dA \quad (4.1.5)$$

ويحسب هذا التكامل على هذا المقطع

$$T = \frac{E}{\rho} \bar{y} A \quad (4.1.6)$$

وفيها  $A$  هي مساحة المقطع  $\bar{y}$  بعد مركز ثقله عن  $G$  هذه العلاقة تحدد وضع محور القضيب بالنسبة لمراكز ثقل مقاطعه . وفي تلك الحالات التي ينحن فيها القضيب نتيجة لقوى عمودية عليه فإن  $T$  تساوى صفر عند ايه مقطع ومنها  $\bar{y}$  يساوى صفر اى ان محور القضيب في هذه الحالات يمر بمراكز ثقل مقاطع القضيب العرضية .

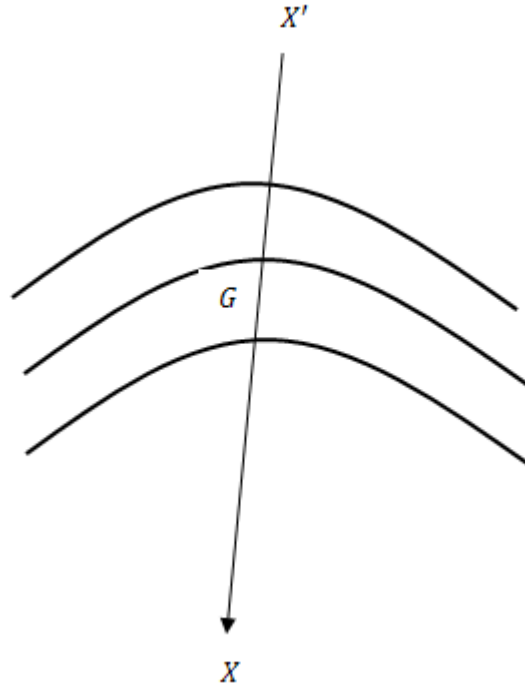
كذلك يمكن حساب عزم الانحناء  $M$  عند المقطع عند  $G$  وذلك باخذ عزوم الشد في الالياف حول المحور  $XGX$  العمودى على مستوى القوى الخارجية

$$\therefore M = \int \frac{E}{\rho} y^2 dA \quad (4.1.7)$$

حيث

$$\therefore I = \int y^2 dA \quad (4.1.8)$$

هي عزوم القصور الذاتى لمساحة مقطع القضيب حول  $XGX$  .



$$\therefore M = \frac{EI}{\rho} \quad (4.1.9)$$

المقدار  $EI$  يعرف بمعامل المرونة الحجمى Rigidty Flexural ويرمز له عادة بالرمز  $K$

$$\therefore M = \frac{K}{\rho} \quad (4.1.10)$$

تدل العلاقة السابقة اذا كانت  $M$  ثابتة لجميع نقط قضيب منتظم فان  $\rho$  ايضا ثابتة . اى انه اذا اثرفى طرفى قضيب خفيف منتظم ازدواجين متضادين، ومقدار عزمها متساويان وفى مستوى واحد يضم القضيب سوف ينحنى متخذاً شكل دائرة .

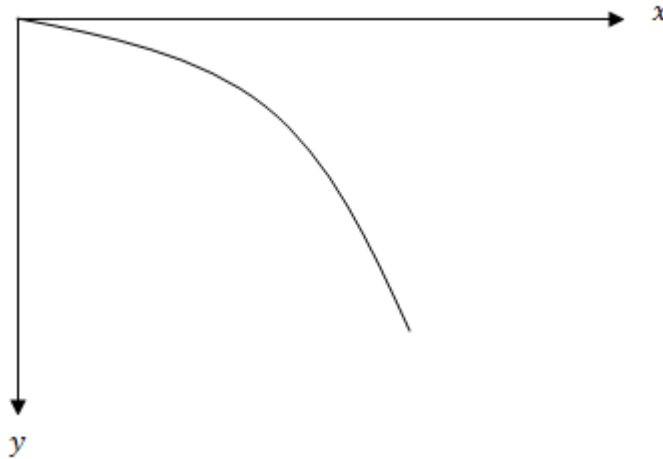
باخذ محور القضيب وهو مستقيماً كمحور  $x$  فان

$$M = \frac{K}{\rho} = \frac{\pm K \frac{d^2 y}{dx^2}}{\left[1 + \left(\frac{dy}{dx}\right)^2\right]^{3/2}} \quad (4.1.11)$$

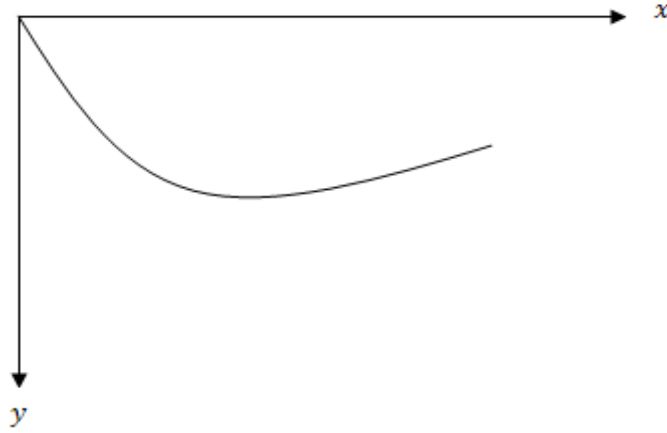
حيث  $y$  تمثل ازاحة النقطة  $x$  من محور القضيب عن موضعها عندما كان القضيب مستقيماً . وعندما يكون القضيب قليل المرونة فان  $K$  كبيرة . اما  $\frac{dy}{dx}$ ، فكميات صغيرة يمكن اهمال مربعاتها وبذلك يمكن تقريب المعادلة (4.1.11) الى

$$M = \pm K \frac{d^2 y}{dx^2} \quad (4.12)$$

وتؤخذ الاشارة المناسبة التي تجعل طرفي العلاقة (4.1.12) لها نفس الاشارة . فاذا كانت القوى المؤثرة في مستوى راسي مثلاً واتخذنا الراسي الى اسفل هو الاتجاه الموجب لمحور  $y$  فانه باتباع القاعدة المتفق عليها في تحديد اشارة عزم الانحناء نرى ان الاشارة الموجبة هي الواجب استعمالها . ذلك لانه في الاجزاء التي تكون فيها  $M$  موجبة فان القضيب سوف ينحني الى اعلى كما في الشكل (أ) وفيه تزيد  $\frac{dy}{dx}$  بزيادة  $x$  اي ان  $\frac{d^2 y}{dx^2}$  موجبة ولذا تاخذ الاشارة الموجبة في تلك الاجزاء التي تكون فيها  $M$  سالبة فان القضيب سوف ينحني الى اسفل كما بالشكل (ب) وفيه



شكل (أ)



شكل (ب)

تتناقص  $\frac{dy}{dx}$  بزيادة  $x$  أي ان  $\frac{d^2y}{dx^2}$  تكون سالبة على ذلك تستخدم الإشارة الموجبة حتى يكون طرفا العلاقة السابقة سالبتين .

### شروط تحقق عند نقط خاصة في القضبان المثبتة :

(أ) عند الاطراف الحرة للقضبان يتلاشى كلا من عزم الانحناء وقوه القص أي ان  $y'' = 0, y''' = 0$  عند هذه الاطراف

(ب) اذا ارتكز القضيب ارتكازا بسيطا مفصليا فان عزم الانحناء يساوي صفر أي ان  $y'' = 0$  عند نقطة الارتكاز هذه اما  $y$  فتكون معلومة عندها .

(ج) القضبان المثبتة نثبيتا كاملا فان  $y, \frac{dy}{dx}$  معلومتان عند الطرف المثبت.

لايجاد شكل القضيب انحنى نتيجة لحمل معين نحل المعادلة التفاضلية

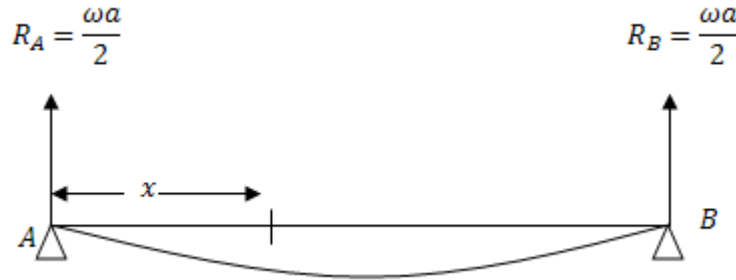
$$EI \frac{d^2y}{dx^2} = M$$

مع استخدام الشرط المناسب تبعا لنوع التثبيت كما في الامثلة التالية :



**مثال (1):**

ارتكز قضيب منتظم عند نهايته على وتدين في نفس المستوى الافقى . أثبت ان الانخفاض عند مسافة  $x$  من إحدى نهايته يساوى  $\frac{\omega x}{24 EI} (a - x)(a^2 + ax - x^2)$  حيث  $a$  طول القضيب ، و  $\omega a$  وزنة .

**الحل**

عزم الانحناء عند اية نقطة تبعد مسافة  $x$  عن الطرف  $A$  يساوى

$$M = -\frac{\omega a}{2}x + \frac{\omega x^2}{2} \quad (1)$$

حيث ان

$$EI \frac{d^2 y}{dx^2} = M \quad (2)$$

$$\therefore EI y'' = -\frac{\omega ax}{2} + \frac{\omega x^2}{2} \quad (3)$$

بالتكامل

$$EI y' = \frac{\omega ax^2}{4} + \frac{\omega x^3}{6} + c \quad (4)$$

$$EI y = -\frac{\omega ax^3}{12} + \frac{\omega x^4}{24} + cx + c^1 \quad (5)$$

الايجاد الثوابت  $c, c^1$  تتطبق الشروط الابتدائية في المسألة

عند الطرف A :

$$x = 0, \quad y = 0, \quad \therefore c^1 = 0$$

عند الطرف B :

$$x = a, \quad y = 0, \quad \therefore c = \frac{\omega a^3}{24}$$

بالتعويض عن  $c, c^1$  في المعادلة السابقة (5)

$$\therefore Ely = \frac{\omega x}{24} (a^3 + x^3 - 2ax^2)$$

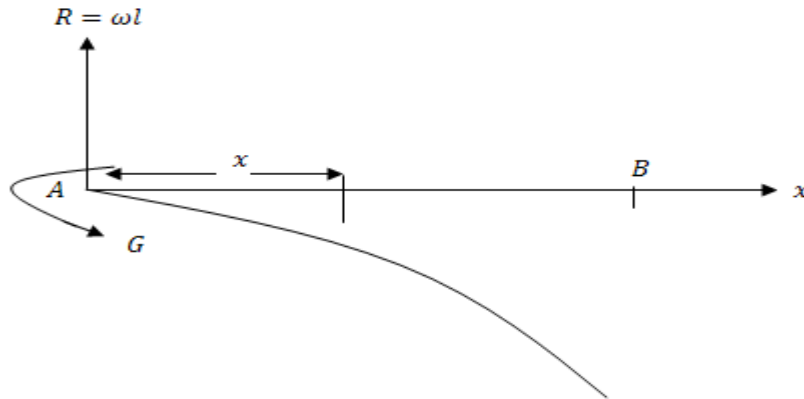
$$\therefore y = \frac{\omega x}{24 EI} (a - x)(a^2 + ax - x^2)$$

## مثال (2):

ثبت قضيب منتظم تثبيتا افقيا عند إحدى نهايتيه فانحنى تحت تأثير وزنه . اثبت ان الانخفاض عند نهايته يساوى  $\frac{3}{8}$  الانخفاض الذى يحدث اذا اعتبر القضيب خفيفا وعلق من نهايته ثقلا مساوى لوزنه .

## الحل

نفرض ان طول القضيب  $l$ , وزن وحدة الاطوال  $\omega$ .



**الحالة الاولى:**

القضيب ثقيل . عزم الانحناء عند اى نقطة من القضيب تبعد مسافة  $l - x$  عن الطرف الحر يساوى

$$M = \frac{\omega}{2}(l - x)^2 \quad (1)$$

$$Ky'' = \frac{\omega}{2}(l^2 - 2lx + x^2) \quad (2)$$

بالتكامل

$$Ky' = \frac{\omega}{2} \left[ l^2 x - lx^2 + \frac{x^3}{3} \right] + c$$

لايجاد  $c$  تطبيق الشرط الابتدائى عند نقطه التثبيت  $A$

$$x = 0 \quad y' = 0 \quad \therefore c = 0$$

$$\therefore Ky' = \frac{\omega}{2} \left[ l^2 x - lx^2 + \frac{x^3}{3} \right] \quad (3)$$

بالتكامل مره اخرى

$$Ky = \frac{\omega}{2} \left[ \frac{1}{2} l^2 x^2 - \frac{lx^3}{3} + \frac{x^4}{12} \right] + c_1 \quad (4)$$

لايجاد  $c_1$

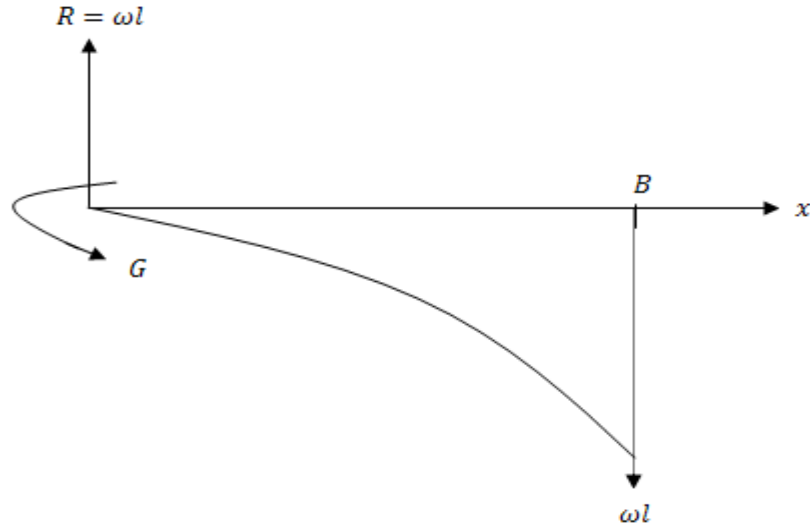
$$y = 0 \quad x = 0 \quad c_1 = 0$$

لايجاد الانخفاض عند الطرق الحر نضع  $x = l$  في المعادلة (4) تجد ان

$$y_1 = \frac{\omega l^4}{8k} \quad (5)$$

**الحالة الثانية:**

القضيب خفيف ومعلق ثقلا  $\omega l$  عند طرفه الحر . عزم الانحناء عند اى نقطه تبعد مسافه  $l - x$  عن الطرف الحر يساوي



$$M = \omega l(l - x) \quad (1)$$

$$Ky'' = \omega l(l - x) \quad (2)$$

بالتكامل

$$Ky' = \omega l \left( lx - \frac{x^2}{2} \right) + c \quad (3)$$

ثابت التكامل يساوي صفر لان  $x = 0$  at  $y' = 0$  وبالتعويض عن الثابت والتكامل مرة اخرى

$$Ky = \omega l \left( \frac{lx^2}{2} - \frac{x^3}{6} \right) + c_1 \quad (4)$$

ثابت التكامل يساوي صفر لان عند

$$x = 0 \quad y = 0$$

$$\therefore Ky = \omega l \left( \frac{lx^2}{2} - \frac{x^3}{6} \right) \quad (5)$$

وعند  $x = l$ ,  $y = y_2$ ,

$$y_2 = \frac{\omega l^4}{3K} \quad (6)$$

النسبة بين الانخفاضين

$$\frac{Ky_1}{Ky_2} = \frac{3}{8}$$

$$\therefore y_1 = \frac{3}{8} y_2. \quad (7)$$

**ملاحظة:**

إذا اثر الوزن والثقل معا فإن نتيجة لحل المعادلة التفاضلية والشروط الحدية المستخدمة في حلها يكون إنخفاض الطرف الحر

$$y = \left( \frac{1}{8} + \frac{1}{3} \right) \frac{\omega l^4}{K} = \frac{11}{24} \frac{\omega l^4}{K}.$$

**مثال(3):**

كابولي من مادة متجانسة على شكل قطع مكافئ دوراني طوله  $l$  ونصف قطر طرفه المثبت  $a$ . إذا كانت  $\omega$  هي وزن وحدة الحجم من الكابولي وكان محوره عند الطرف المثبت افقيا . أوجد انخفاض الطرف الحر .

**الحل**

الشكل المقابل هو مقطع الكابولي بواسطة المستوى الرأسى المار بمحوره . نفرض ان معادلة المقطع بالنسبة للمحاور المبينة

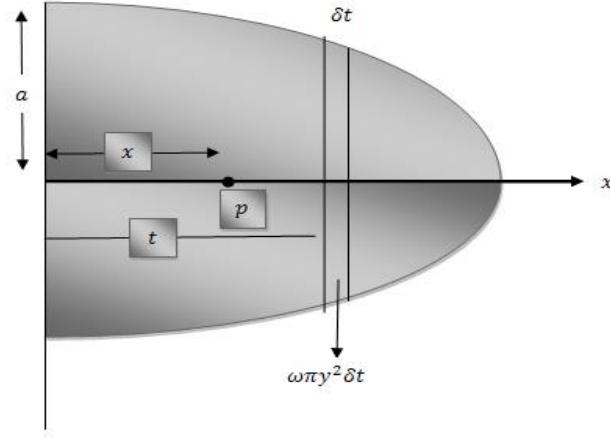
$$y^2 = Ax + B \quad (1)$$

عند  $x = 0$  وكانت  $y = a$  ومنها  $B = a^2$  وكذلك عند  $x = l$  كانت  $y = 0$  ومنها  $A = -a^2/l$  .  
 ∴ معادلة المقطع هي

$$y^2 = a^2 \left( 1 - \frac{x}{l} \right) \quad (2)$$

$$= \int_x^l \omega \pi y^2 (t - x) dt.$$

عزم الانحناء عند اية  $p$  على بعد  $x$  من 0



$$\begin{aligned} \therefore M &= \frac{w \pi a^2}{l} \int_x^l (l-t)(t-x) dt \\ &= \frac{w \pi a^2}{6l} (l-x)^3 \end{aligned} \quad (3)$$

عزم القصور الذاتي لمقطع الكابولي عند  $p$  حول محور افقى (مقطع الكابولى العرضى للمساحة) يساوى

$$\begin{aligned} I &= \pi y^2 \cdot \frac{y^2}{4} \\ &= \frac{\pi a^2}{4l^2} (l-x)^2 \end{aligned} \quad (4)$$

$$\begin{aligned} \therefore \frac{\pi a^2}{4l^2} E y'' (l-x)^2 &= \frac{\omega \pi a^2}{6l} (l-x)^3 \\ \therefore y'' &= \frac{2}{3} \frac{\omega l}{E a^2} (l-x) \end{aligned} \quad (5)$$

$$y' = \frac{2\omega l}{3a^2 E} \left[ lx - \frac{x^2}{2} \right] + c$$

وبالتعويض عن الثابت  $x = 0, y' = 0 \therefore c = 0$

$$y' = \frac{2\omega l}{3a^2 E} \left[ lx - \frac{x^2}{2} \right] \quad (6)$$

بالتكامل مرة اخرى

$$y = \frac{2\omega l}{3a^2 E} \left[ \frac{lx^2}{2} - \frac{x^3}{6} \right] + c_1 \quad (7)$$

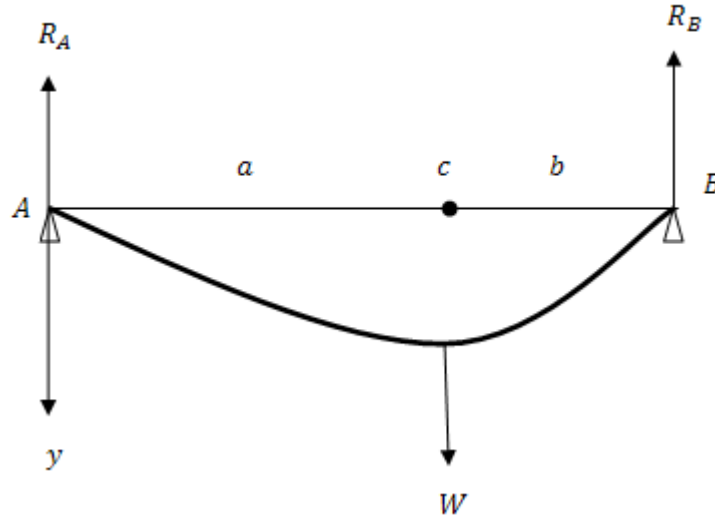
$$x = 0 \text{ at } y = 0 \therefore c_1 = 0$$

بوضع  $x = l$  والتعويض عن  $c_1 = 0$  في معادلة (7) ينتج انخفاض الطرف الحر يساوى  $-\frac{2}{9} \frac{\omega l^4}{Ea^2}$

### مثال (4):

قضيب خفيف  $AB$  طولة  $(a + b)$  يرتكز بطرفيه على وتدين رأسيين في مستوى افقى واحد ويحمل ثقلا  $W$  عند نقطة تبعد مسافة  $a$  عن الطرف الحر. أوجد شكل القضيب وعين اقصى انخفاض له.

### الحل



ردا الفعل عند  $B, A$  على الترتيب

$$R_A = \frac{Wb}{a+b}$$

$$R_B = \frac{Wa}{a+b}$$

شكل القضيب يتعين من المعادلتين

$$0 \leq x \leq a \quad a \leq x \leq b+a$$

$$Ky'' = -\frac{wb}{a+b}x, \quad Ky'' = \frac{-wb}{a+b}x + w(x+a)$$

$$Ky' = \frac{-wb}{a+b} \frac{x^2}{2} + c, \quad Ky' = \frac{-wb}{a+b} \frac{x^2}{2} + \frac{w}{2}(x-a)^2 + c'$$

وحيث ان  $y'$  متصلة عند  $x = a$  فإن  $c = c'$ 

$$\therefore Ky = \frac{-wb}{a+b} \frac{x^3}{6} + cx + D; \quad Ky = \frac{-wbx^3}{6(a+b)} + \frac{w}{6}(x-a)^3 + c'x + D^1$$

وحيث ان  $y$  متصلة عند  $x = a$  فإن  $D = D^1$  عند الطرف  $A$ :

$$x = 0 \quad y = 0 \quad \therefore D = 0$$

عند الطرف  $B$ :

$$x = a+b, \quad y = 0$$

$$\therefore C = \frac{wba}{6} \frac{a+2b}{a+b}$$

اي ان شكل القضيب هو المنحنى في حالة  $a \leq x \leq a+b$ 

$$Ky = \frac{-wb}{a+b} \cdot \frac{x^3}{6} + \frac{wba}{6} \frac{a+2b}{a+b} x \quad (1)$$

$$Ky = \frac{-wb}{a+b} \cdot \frac{x^3}{6} + \frac{wba}{6} \frac{a+2b}{a+b} x + \frac{w}{6}(x-a)^3 \text{ in } a \leq x \leq a+b \quad (2)$$



وقد تساوت ثوابت التكامل في جزأى القضيبي لاتصال  $y$ ,  $\frac{dy}{dx}$  عند  $x = a$  ولإن الحدود الزيادة في الجزء  $a \leq x \leq a + b$  كتبت وكملت بدلالة  $(x - a)$  حتى تتلاشى عند  $x = a$  وفي هذه الحالة لا داعى لتكرار الحدود المتشابهة ونكتفى فقط بإضافة الحدود اللازمة للجزء الثانى من القضيبي . وتعرف طريقة التكامل هذه بطريقة ماكولى (Macaulay,s Method).

لايجاد أقصى إنخفاض نبحث عن الاوضاع التى تتلاشى عندها ميل القضيبي من المعادلات السابقة .

$$a \leq x \leq a \qquad a \leq x \leq a + b$$

$$\frac{dy}{dx} = -\frac{wb}{a+b} \frac{x^2}{2} + \frac{wba}{6} \frac{a+2b}{a+b} + \frac{w}{2}(x-a)^2$$

وهذان يتلاشى عند

$$x_1 = \pm \sqrt{\frac{1}{3}a(a+2b)}, x_2 = a+b \pm \sqrt{\frac{1}{3}b(b+2a)}$$

وتهمل الاشارة السالبة فى  $x_1$  والموجبة فى  $x_2$  اذ انها تعطيان نقطا خارج القضيبي واذا كانت  $a > b$  فان كلا من

$x_1, x_2$  اقل من  $a$  وعلى ذلك فان  $\frac{dy}{dx}$  تساوى الصفر عند نقطة على القضيبي تبعد مسافة  $\sqrt{\frac{1}{3}b(b+2a)}$  من

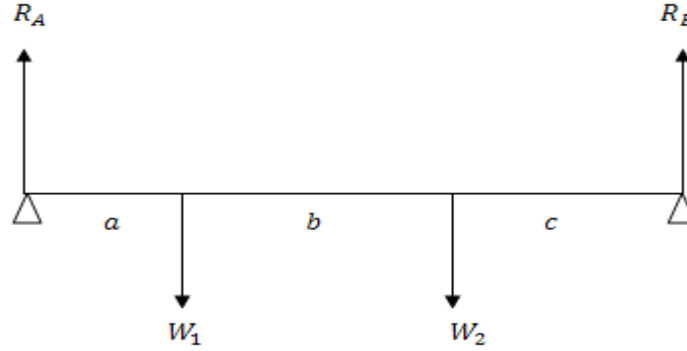
الطرف الحر. وبالتعويض في (1) للجزء  $0 \leq x \leq a$  يمكن الحصول على أقصى إنخفاض . وبالمثل اذا كانت

$b > a$  فان  $\frac{dy}{dx} = 0$  عند نقطة على القضيبي تبعد مسافة  $\sqrt{\frac{1}{3}b(b+2a)}$  من  $B$  أى مسافة

$$. A \text{ من } (a+b) - \sqrt{\frac{1}{3}b(b+2a)}$$

**مثال (5):**

قضيب خفيف  $AB$  طولة  $a + b + c$  يرتكز في وضع افقى على وتدين رأسيين عند طرفية ويحمل ثقلين عند نقطتين تبعدان مسافة  $a, a + b$  من الطرف  $A$  على الترتيب أوجد شكل القضيب .  $w_2, w_1$

**الحل**

باخذ العزوم حول  $A$  ثم حول  $B$  ينتج ان

$$R_A = \frac{W_1(b+c) + W_2c}{a+b+c},$$

$$R_B = \frac{W_1a + W_2(a+b)}{a+b+c}.$$

شكل القضيب يتعين من :

$$a \leq x \leq a \quad a \leq x \leq a+b \quad a+b \leq x \leq a+b+c$$

$$Ky'' = -R_A x + W_1(x-a) + W_2(x-a-b)$$

$$Ky' = -R_A \frac{x^2}{2} + \frac{1}{2}W_1(x-a)^2 + \frac{1}{2}W_2(x-a-b)^2$$

وقد تساوت ثوابت التكامل في النطاق الثلاث لان  $y, y'$  دالتان متصلتان.

$$Ky = -R_A \frac{x^3}{6} + \frac{1}{6}W_1(x-a)^3 + \frac{1}{6}W_2(x-a-b)^3 \quad (1)$$

**الحالات غير المحددة إستاتيكيًا:**

هناك بعض حالات القضبان المرتكزة او المثبتة لا تكفي فيها معادلات الاتزان العادية لحساب ردود الافعال فيها . ويطلق على مثل هذه الحالات إنها غير محددة استاتيكيًا ، اما اذا اتخذنا مرونة هذه القضبان في الحسبان فانه باستخدام القانون  $Ky'' = M$  .

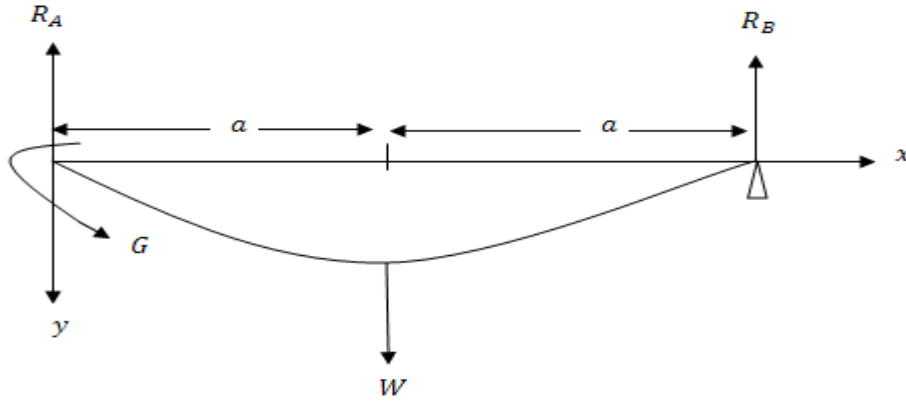
يمكن حساب ردود الافعال هذه. وهذا يتضح في الامثلة التالية:

**مثال (1):**

قضيب خفيف  $AB$  طولها  $2a$  طرفه  $A$  مثبت أفقيا وطرفه  $B$  يرتكز على وتد رأسى بحيث كان الطرفان في مستوى أفقى واحد . فاذا علق من منتصف القضيب ثقلا  $W$  أوجد انخفاض الثقل  $W$  عن الطرفين  $B, A$  وارسم منحنى عزم الانحناء.

**الحل**

نفرض ان ردى الفعل عند  $B, A$  هما  $R_B, R_A$  وان عزم التثبيت  $A$  هو  $G$  .



$$R_A + R_B = W \quad (1)$$

$$2aR_A = G + Wa \quad (2)$$

وباتخاذ الأفقى  $AB$  محور  $x$  والراسى الى الی اسفل عند  $A$  هو محور  $y$  فان

$$0 \leq x \leq a \quad a \leq x \leq 2a$$

$$M = EIy'' = G - R_A x + W(x - a) \quad (3)$$

$$\therefore EIy' = Gx - R_A \frac{x^2}{2} + \frac{W}{2}(x - a)^2 \quad (4)$$

$$EIy = \frac{1}{2}Gx^2 - R_A \frac{x^3}{6} + \frac{W}{6}(x - a)^3 \quad (5)$$

وقد تلاشى ثابتا التكامل في (4) و(5) لتلاشى  $y, y'$  عند  $x = 0$ .  
وحيث ان  $y = 0$  عند  $x = 2a$

$$\therefore 2G - \frac{4}{3}aR_A + \frac{Wa}{6} = 0 \quad (6)$$

بحل المعادلات (1) و(2) و(6) ينتج ان

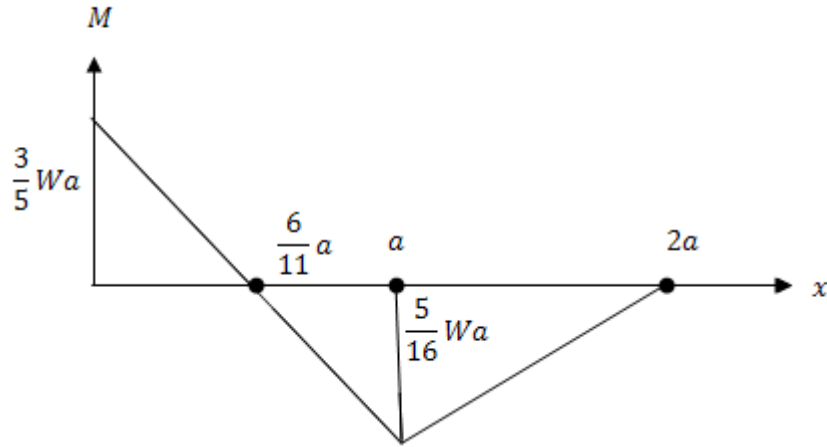
$$R_A = \frac{11}{16}W, R_B = \frac{5}{16}W, G = \frac{3}{8}Wa.$$

وعلى ذلك فإن القضيب يأخذ شكل المنحنى

$$EIy = \frac{Wx^2}{96}(18a - 11x) \quad 0 \leq x \leq a.$$

$$EIy = \frac{Wx^2}{96}(18a - 11x) + \frac{W}{6}(x - a)^3 \quad a \leq x \leq 2a$$

بوضع  $x = a$  ينتج ان إنخفاض الثقل  $W$  عن الطرفين  $A, B$  يساوى  $\frac{7}{96} \frac{Wa^3}{EI}$ .



شكل (أ)

وكذلك فان عزم الانحناء تعطية المعادلتان

$$M = \frac{W}{16} (6a - 11x) \quad 0 \leq x \leq a$$

$$M = \frac{5W}{16} (x - 2a) \quad a \leq x \leq 2a$$

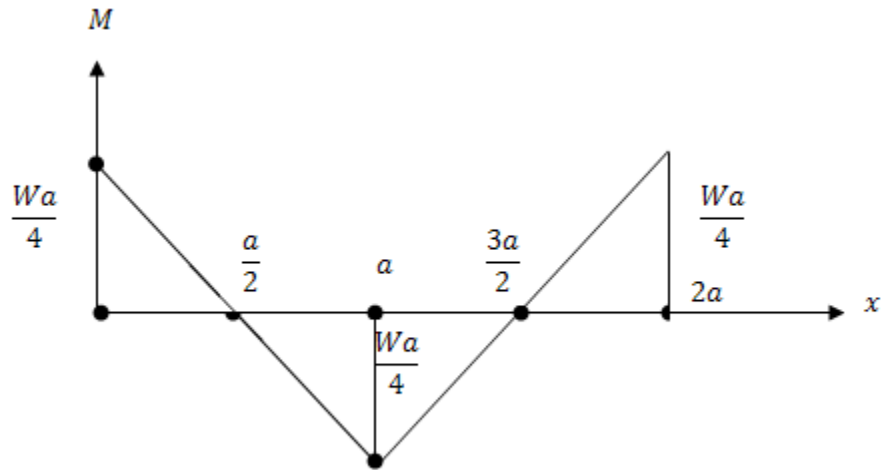
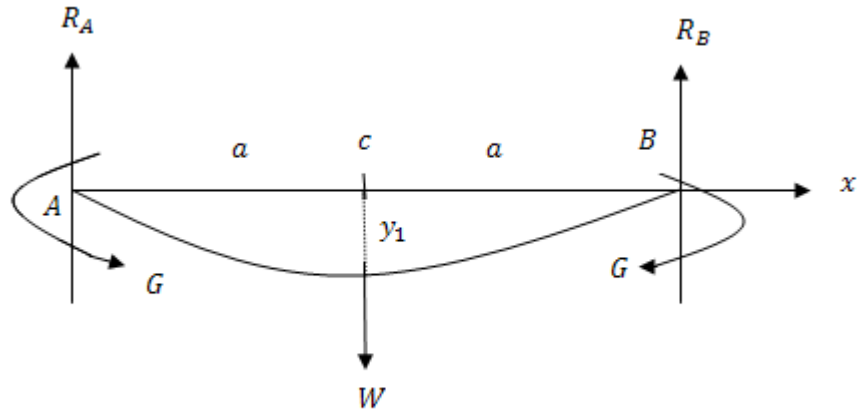
والشكل (أ) يبين هذا المنحنى .

## مثال (2):

قضيب خفيف  $AB$  طولة  $2a$  مثبت من طرفية  $A, B$  بحيث كان الطرفان في مستوى افقى واحد. فإذا علق من منتصف القضيب ثقلا  $W$  اوجد انخفاض الثقل  $W$  عند الطرفين  $A, B$  وارسم عزم الانحناء.

## الحل

في هذه الحالة يصبح القضيب متمثلا حول الثقل المعلق وينتج عن ذلك ان :



شكل (ب)

$$R_A = R_B = \frac{W}{2} \quad (1)$$

وان مقدار العزم (التثبيت) واحد عند الطرفين  $G$ . نتيجة للتماثل في الشكل يكفي اعتبار نصف القضيب الايسر مثلا. شكل هذا النصف يتحدد من العلاقة .

$$EIy'' = G - \frac{W}{2}x \quad 0 \leq x \leq a \quad (2)$$

$$EIy' = Gx - \frac{Wx^2}{4} \quad 0 \leq x \leq a \quad (3)$$

$$EIy = \frac{1}{2}Gx^2 - \frac{Wx^3}{12} \quad 0 \leq x \leq a \quad (4)$$

وقد تلاشى ثابتا التكامل لتلاشى  $y, y'$  عند  $x = 0$  من التماثل  $y' = 0$  عند  $x = a$  ومنها ينتج ان

$$G = \frac{Wa}{4} \quad (5)$$

∴ معادلة النصف الايسر للقضيب هي

$$EIy = \frac{Wx^2}{24}(3a - 2x) \quad (6)$$

بوضع  $x = a$  ينتج ان انخفاض الثقل  $w$  عن الطرفين يساوى

$$y_1 = \frac{Wa^3}{24EI} \quad (7)$$

عزم الانحناء عند اية نقطة على القضيب تعطية المعادلتان

$$M = \frac{W}{4}(a - 2x) \quad 0 \leq x \leq a \quad (8)$$

and

$$M = \frac{W}{4}(2x - 3a) \quad a \leq x \leq 2a \quad (9)$$

والشكل (ب) يبين منحنى عزم الانحناء .

**مثال (3):**

قضيب  $AB$  طولة  $l$  ووزنه  $\omega$  لكل وحدة طول. ثبت طرفه  $A$  أفقيا وارتكز الطرف  $B$  على وتد رأسي بحيث كان الطرفان  $B, A$  في مستوى أفقي واحد. عين رد الفعل والازدواج التثبيت عند  $A$ .

إثبت ان الانخفاض منتصف القضيب عن الطرفين  $\frac{\omega l^4}{192 EI}$  وارسم منحنى عزم الإنحناء.

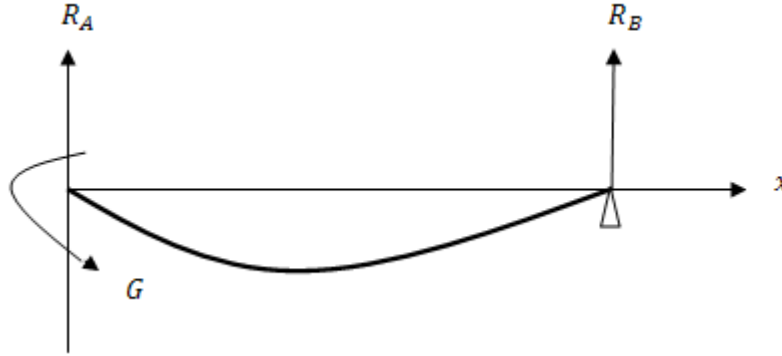
**الحل**

نفرض ان رد الفعل عند  $B, A$  هما  $R_B, R_A$  وان عزم التثبيت عند  $A$  هو  $G$ .

$$\therefore R_A + R_B = \omega l \quad (1)$$

$$R_A l = G + \frac{\omega l^2}{2} \quad (2)$$

بإتخاذ محورين إحداهما أفقي والآخر رأسي عند  $A$ .

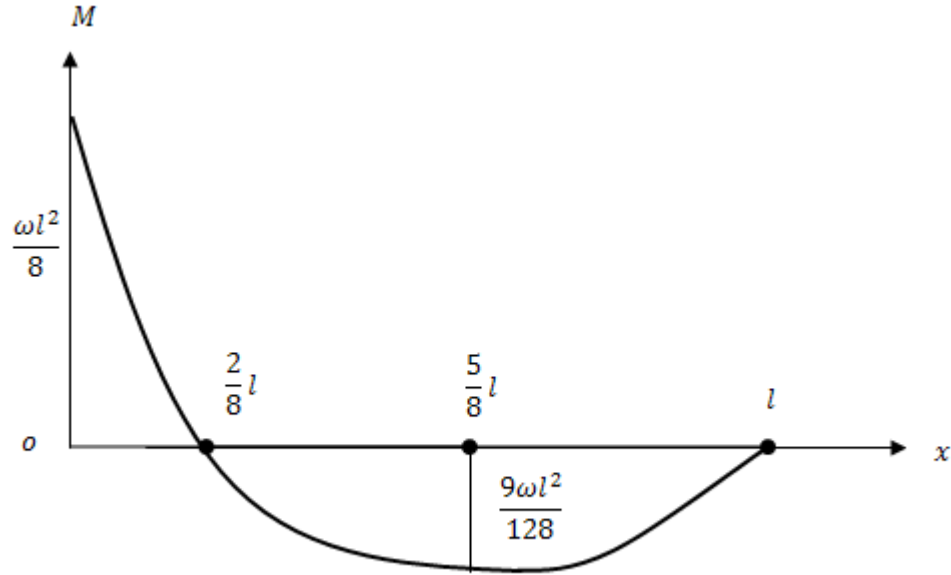


$$EIy'' = G - R_A x + \frac{\omega x^2}{2} \quad (3)$$

$$EIy' = Gx - \frac{1}{2}R_A x^2 + \frac{\omega x^3}{6} + c_1 \quad (4)$$

$$EIy = \frac{1}{2}Gx^2 - \frac{1}{6}R_A x^3 + \frac{\omega x^4}{24} + c_1 x + c_2 \quad (5)$$





شكل (ج)

$$x = 0 \quad y' = 0 \quad c_1 = 0$$

$$x = 0 \quad y = 0 \quad c_2 = 0$$

$$\therefore EIy = \frac{1}{2}Gx^2 - \frac{1}{6}R_A x^3 + \frac{\omega x^4}{24} \quad (6)$$

وحيث ان  $y = 0$  عند  $x = l$

$$\therefore \frac{1}{2}G - \frac{l}{6}R_A + \frac{\omega l^2}{24} = 0 \quad (7)$$

بحل المعادلات (1) و(2) و(7) ينتج ان

$$R_A = \frac{5}{8}\omega l \quad ; R_B = \frac{3}{8}\omega l \quad ; G = \frac{1}{8}\omega l^2$$

∴ شكل القضيب يتحدد بالمعادلة

$$EIy = \frac{11}{16}l^2x^2 - \frac{5\omega}{48}lx^3 + \frac{\omega}{24}x^4$$

i.e

$$EIy = \frac{\omega x^2}{48}(2x - 3l)(x - l)$$

وبوضع  $x = l/2$  ينتج ان إنخفاض منتصف القضيب عن طرفيه يساوى  $\frac{\omega l^2}{192 EI}$

عزم الانحناء عند اى نقطة على القضيب تعطية المعادلة .

$$M = \frac{1}{8}\omega l^2 - \frac{5}{8}\omega lx + \frac{1}{2}\omega x^2$$

$$= \frac{\omega}{2} \left[ \left(x - \frac{5}{8}l\right)^2 - \frac{9}{64}l^2 \right]$$

والشكل (ج) يبين منحنى عزم الانحناء.

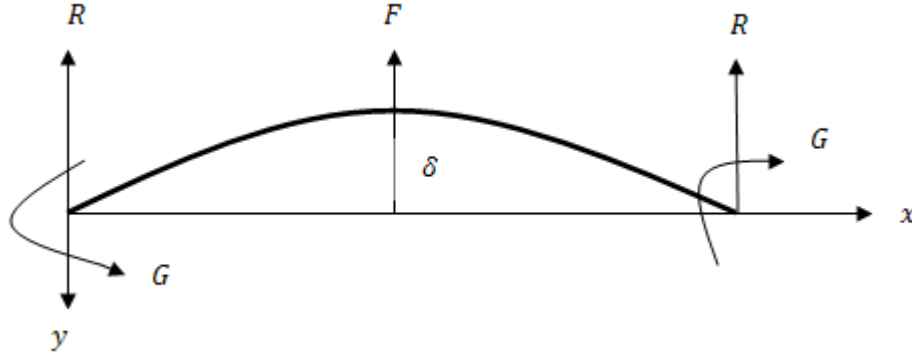
### مثال (4):

قضيب منتظم مثبت افقيا عند كل من نهايتيه. اذا رفع القضيب من منتصفه الى اعلى بقوة مسافة مقدارها  $\delta$  فوق النهايتين . اثبت ان القوة تساوى  $\frac{24 K \delta}{a^3} + \frac{W}{2}$  وان العزم عند النهايتين يساوى  $-\frac{6K\delta}{a^2} + \frac{Wa}{24}$  حيث  $2a$  طول القضيب و  $W$  وزنة و  $K = EI$ .

### الحل

من التماثل رد الفعل  $R$  واحد عند الطرفين وكذلك عزم الانحناء  $G$  نفرض ان القوة المؤثرة عند منتصف القضيب هي  $F$ .

معادلة الاتزان تعطى من :



$$F + 2R = W \quad (1)$$

باتخاذ الافقى  $AB$  محور  $x$  والرأسى الى اسفل عند  $A$  محور  $y$  فإن شكل النصف الايسر من القضيب  $0 \leq x \leq a$  يتحدد من المعادلة

$$M = EIy'' = G - Rx + \frac{W}{2a} \frac{x^2}{2} \quad (2)$$

$$\therefore EIy' = Gx - \frac{1}{2}Rx^2 + \frac{W}{2a} \frac{x^3}{6} \quad (3)$$

$$EIy = \frac{Gx^2}{2} - \frac{1}{6}Rx^3 + \frac{W}{2a} \frac{x^4}{24} \quad (4)$$

وقد تلاشى ثابت التكامل في (3) و(4) لتلاشى  $y, y'$  عند  $x = 0$ .  
وحيث ان  $y = -\delta$  عند  $x = a$  وبالتعويض في (4)

$$\therefore -\frac{2EI\delta}{a^2} = G - \frac{Ra}{3} + \frac{Wa}{24} \quad (5)$$

وحيث ان  $y' = 0$  عند  $x = a$

$$0 = G - \frac{1}{2}Ra + \frac{Wa}{12} \quad (6)$$

بحل المعادلتين (6) و(5) والمعادلة (1) نحصل على

$$R = \frac{W}{4} - \frac{12K\delta}{a^3}, F = \frac{24K\delta}{a^3} + \frac{W}{2},$$

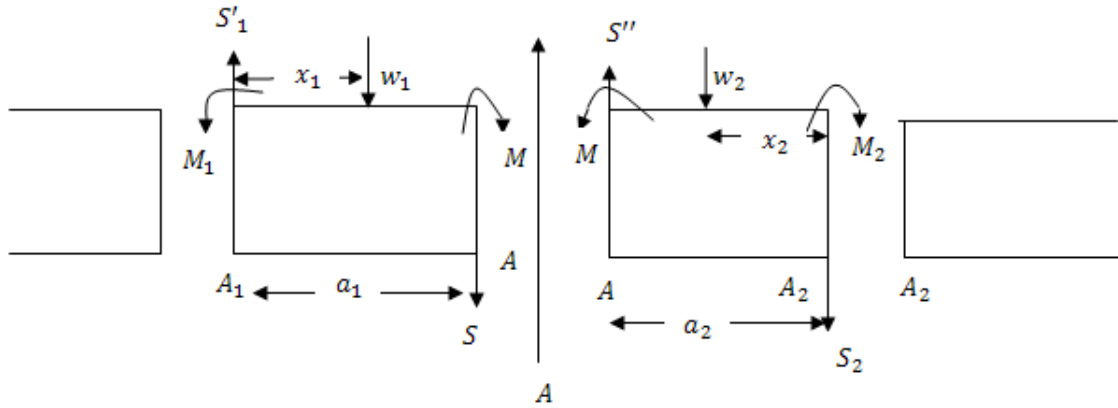
$$G = -\frac{6K\delta}{a^2} + \frac{Wa}{24}.$$

## ثانيا: معادلة كلايرون Clapeyron,s للجزوم الثلاثة:

### اولا-معادلة كلايرون للجزوم الثلاثة لأحمال المركزة :

تعتبر جزئين  $AA_2, A_1A$  من قضيب خفيف منتظم طولها  $a_2, a_1$  لنفرض أن القضيب اتزن والجزءان  $AA_2, A_1A$  محملان بثقلين  $w_2, w_1$  عند نقطتين منها تبعدان مسافتين  $x_2, x_1$  عن  $A_2, A_1$  على الترتيب فإذا كانت  $M_2, M, M_1$  هي عزوم الأنحاء عند  $A_2, A, A_1$  وكانت  $\delta_2, \delta_1$  هي مقدار إنخفاض  $A$  عن الأفقى عن  $A_2, A_1$  فإن

$$a_1 M_1 + 2(a_1 + a_2)M + a_2 M_2 = \frac{w_1 x_1 (a_1^2 - x_1^2)}{a_1} + \frac{w_2 x_2 (a_2^2 - x_2^2)}{a_2} - 6EI \left( \frac{\delta_1}{a_1} + \frac{\delta_2}{a_2} \right).$$



لإثبات ذلك:

نفرض أن قوى القص عند  $A_2, A, A_1$  كما هي مبينة بالشكل وإذا كانت إحدى النقط الثلاث فقط نقط ارتكاز للقضيب - وفي الشكل إتخذت  $A$  نقطة ارتكاز - فإن قوة القص تكون غير متصلة بمقدار  $(S_1 - S)$  يساوى رد الفعل عندها باعتبار إتزان  $AA_2, A_1A$  كل على حده واخذ العزوم حول  $A_2, A$  على الترتيب نحصل على .

$$- a_1 S_1^1 + w_1 (a_1 - x_1) + M_1 - M = 0 \quad (4.2.1)$$

$$- a_2 S^1 + w_2 x_2 + M - M_2 = 0 \quad (4.2.2)$$

إذا أخذنا محورى الاحداثيات عند  $A_1$  فإن شكل  $A_1A$  يتعين من العلاقات الآتية

$$\begin{aligned}
& \dots\dots\dots 0 \leq x \leq x_1 & x_1 \leq x \leq a_1 \\
EIy'' = M_1 - S_1^1 x & & + w_1(x - x_1) \\
EIy' = c_1 + M_1 x - \frac{1}{2} S_1^1 x^2 & & + \frac{w_1}{2}(x - x_1)^2 \\
EIy = D_1 + c_1 x + \frac{1}{2} M_1 x^2 - \frac{1}{6} S_1^1 x^3 & & + \frac{w_1}{6}(x - x_1)^3
\end{aligned}$$

لكن  $y = 0$  عند  $x = 0$  ، عند  $x = a_1$   $y = \delta_1$

$$\therefore D_1 = 0$$

$$\text{and } c_1 + \frac{1}{2} M_1 a_1 - \frac{1}{6} S_1^1 a_1^2 + \frac{1}{6} \frac{w_1}{a_1} (a_1 - x_1)^3 = EI \frac{\delta_1}{a_1} \quad (4.2.3)$$

للجزء  $AA_2$  للقضيب نأخذ محوري الاحداثيات عند  $A$

$$\begin{aligned}
0 \leq x \leq a_2 - x_2 & & a_2 - x_2 \leq x \leq a_2 \\
EIy'' = M - S^1 x & & + w_2(x - a_2 + x_2) \\
EIy' = c_2 + Mx - 1/2 S^1 x^2 & & + \frac{w_2}{2}(x - a_2 + x_2)^2 \\
EIy = D_2 + c_2 x + \frac{1}{2} Mx^2 + \frac{1}{6} S^1 x^3 & & + \frac{w_2}{6}(x - a_2 + x_2)^3
\end{aligned}$$

وحيث ان  $y = 0$  عند  $x = 0$  ، عند  $x = a_2$   $y = \delta_2$

$$\therefore D_2 = 0$$

$$c_2 + \frac{1}{2} M a_2 - \frac{1}{6} S^1 a_2^2 + \frac{1}{6} \frac{w_2}{a_2} x_2^3 = -EI \frac{\delta_2}{a_2} \quad (4.2.4)$$

كذلك ميل  $A_1 A_2$  عند  $A$  هو نفسة ميل  $AA_2$  عند النقطة  $A$

$$c_1 + M_1 a_1 - \frac{1}{2} S_1^1 a_1^2 + \frac{1}{2} w_1 (a_1 - x_1) + c_2 \quad (4.2.5)$$

بحذف  $c, c_1$  من المعادلات (4.2.3) و(4.2.4) و(4.2.5) نحصل على:

$$\frac{1}{2} M_1 a_1 + \frac{1}{2} M a_2 - \frac{1}{3} S_1^1 a_1^2 - \frac{1}{6} S^1 a_2^2 + \frac{w_1}{6 a_1} (a_1 - x_1)^2$$

$$x(2a_1 + x_1) + \frac{w_2}{6 a_2} x_2^2 = -EI \left( \frac{\delta_1}{a_1} + \frac{\delta_2}{a_2} \right)$$

بالتعويض في هذه العلاقة عن  $S', S_1'$  من (1) و(2) ينتج ان

$$M_1 a_1 + 2M(a_1 + a_2) + M_2 a_2 = \frac{w_1 x_1 (a_1^2 - x_1^2)}{a_1} + \frac{w_2 x_2 (a_2^2 - x_2^2)}{a_2} - 6EI \left( \frac{\delta_1}{a_1} + \frac{\delta_2}{a_2} \right) \quad (4.2.6)$$

والحد الاخير يعطى تأثير انخفاض  $A$  عن  $A_2, A_1$  على عزوم الانحناء عند هذه المواضع .

هذه العلاقة يمكن تعميمها لاكثر من ثقل على الجزئين  $A_1 A, A A_2$  وتكون النتيجة على الصورة :

$$M_1 a_1 + 2M(a_1 + a_2) + M_2 a_2 = \sum \frac{w_i x_i (a_1^2 - x_i^2)}{a_1} + \sum \frac{w_j x_j (a_2^2 - x_j^2)}{a_2} - 6EI \left( \frac{\delta_1}{a_1} + \frac{\delta_2}{a_2} \right) \quad (4.2.7)$$

وفيها  $x_i$  هي ابعاد  $w_i$  عن  $A_1$  ،

$x_j$  هي ابعاد  $w_j$  عن  $A_2$  .

### ثانياً: معادلة العزوم الثلاثة لقضيب محمل بانتظام:

نفرض أنه بدلاً من الأحمال المركزة في البند السابق هناك حملاً  $w_1$  لكل وحدة طول عند اية نقطة من جزء

القضيب  $A_1 A, A_2$  لكل وحدة طول عند اية نقطة من  $AA_2$  بالتعويض عن  $w_i, w_j$  بالكميتين  $\omega_1 \delta x_1, \omega_2 \delta x_2$  على

الترتيب واستبدال عملية الجمع بعملية تكامل ينتج ان

$$M_1 a_1 + 2M(a_1 + a_2) + M_2 a_2 = \int_0^{a_1} \frac{w_1 x_1}{a_1} (a_1^2 - x_1^2) dx_1 + \int_0^{a_2} \frac{\omega_2 x_2}{a_2} (a_2^2 - x_2^2) dx_2 - 6EI \left( \frac{\delta_1}{a_1} + \frac{\delta_2}{a_2} \right)$$

وهذه الاحمال المنتظمة تعطى

$$M_1 a_1 + 2M(a_1 + a_2) + M_2 a_2 = \frac{w_1 a_1^3}{4} + \frac{w_2 a_2^3}{4} - 6EI \left( \frac{\delta_1}{a_1} + \frac{\delta_2}{a_2} \right) \quad (4.2.8)$$

**ثالثا: المعادلة العامة للعزوم الثلاثة:**

إذا كان الجزءان  $AA_2$  و  $A_1A$  من القضيب محملين أحمالا موزعة توزيعا منتظما واخرى مركزة بينما النقط  $A_2, A, A_1$  ليست في مستوى افقى واحد فإن:

$$M_1 a_1 + 2M(a_1 + a_2) + M_2 a_2 = \frac{w_1 a_1^3}{4} + \frac{w_2 a_2^3}{4} + \frac{\sum w_i x_i (a_1^2 - x_i^2)}{a_1} + \frac{\sum w_j x_j (a_1^2 - x_j^2)}{a_2} - 6EI \left( \frac{\delta_1}{a_1} + \frac{\delta_2}{a_2} \right) \quad (4.2.9)$$

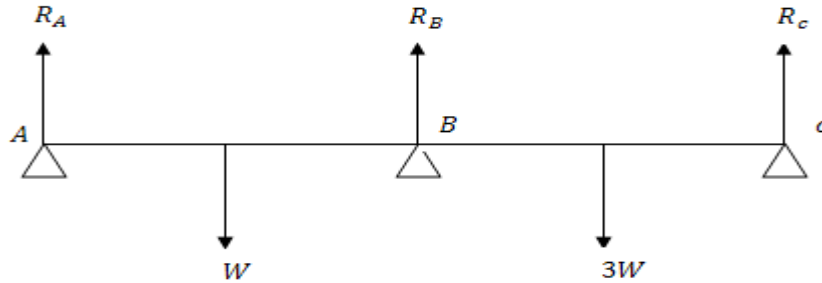
والرموز في هذه العلاقة تحمل نفس المعنى الذى استخدمت فيه من قبل. تعرف هذه العلاقة بمعادلة كلايرون والصور السابقة حالات خاصة منها.

**أمثلة:****مثال(1):**

قضيب خفيف  $AC$  يرتكز عند طرفيه  $A, C$  وعند منتصفه  $B$  على ثلاث أوتاد فى مستوى أفقى واحد . وحمل عند منتصف  $AB, BC$  بحملين  $W, 3W$  على الترتيب . احسب ردود الأفعال على الأوتاد . واثبت أن القضيب أفقى عند طرفه  $A$  .

**الحل**

عزم الانحناء عند الطرفين  $A, C$  يساوى صفرا. نفرض ان عزم الانحناء عند  $B$  هو  $M$  .  
بتطبيق معادلة كلايرون للعزوم الثلاثة للاوزان المركزة على نقط الارتكاز  $C, B, A$  نحصل على :



$$8aM = W \left( \frac{a - 3a^2}{2a} \right) + 3W \left( \frac{a - a^2}{2a} \right)$$

$$i.e. M = \frac{3}{4}Wa \quad (1)$$

حيث  $4a$  طول القضيب

يفرض أن ردود الافعال عند  $A, B, C$  هي  $R_A, R_B, R_C$  على الترتيب . اذن عزم الانحناء عند  $B$  .

$$M = \frac{3aW}{4} = -2aR_A + Wa \quad (2)$$

$$= -(2aR_c - 3aW)$$

$$\therefore R_A = \frac{1}{8}W, R_c = \frac{9}{8}W \quad (3)$$

ولكن إتزان القضيب

$$R_A + R_B + R_c = 4W \quad (4)$$

$$\therefore R_B = \frac{11}{4}W \quad (5)$$

شكل الجزء  $AB$  يتعين من العلاقات

$$0 \leq x \leq a$$

$$EIy'' = -\frac{1}{8}Wx$$

$$EIy' = c - \frac{1}{16}Wx^2$$

$$EIy = D + cx - \frac{1}{32}Wx^3 + \frac{W}{6}(x-a)^3$$

$$a \leq x \leq 2a$$

$$+ W(x-a)$$

$$+ \frac{W}{2}(x-a)^2$$

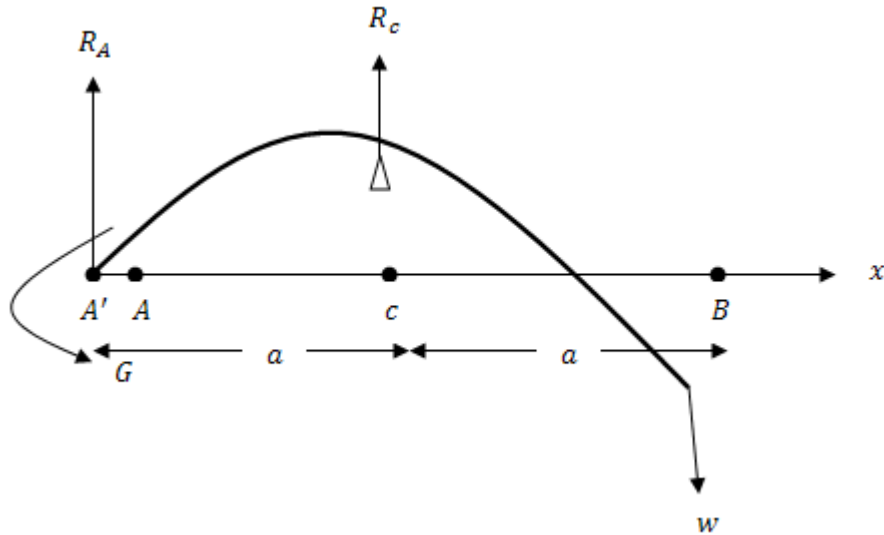
ولكن  $y = 0$  عند  $x = 2a, x = 0$  ينتج ان  $D = 0$  .

وايضا  $c = 0$  وهذا يعنى ان ميل القضيب عند  $A$  يساوى صفرا . أى ان القضيب افقى فى هذا الطرف .



**مثال (2) :-**

قضيب خفيف  $AB$  طولة  $2a$  ثبت طرفه  $A$  أفقيا، وارتكز منتصفه  $c$  على وتد يرتفع مسافة  $\frac{1}{6} \frac{wa^2}{EI}$  فإذا علق ثقلا  $w$  من الطرف الحر  $B$ . أحسب انخفاض الطرف  $B$  عن  $A$ . كذلك أوجد ردود الأفعال عند  $c, A$ .

**الحل**

نفرض ان ردى الفعل عند  $c, A$  هما  $R_c, R_A$  وان عزم الانحناء عند  $A$  هو  $G$  أما عزم الانحناء عند  $c$  هو  $wa$ . التثبيت عند  $A$  يمكن اعتباره تركيزا عند نقطتين إحداها  $A$  والاخرى  $A'$  قريبه جدا من  $A$  بحيث يمكن إعتبار  $AA' = 0$  كذلك فان النسبة  $\frac{\delta_1}{a_1}$  تؤول الى الصفر حيث انها تعطى ميل الجزء  $AA'$  على الأفقى وهذا يساوى صفرا لان هذا الطرف للقضيب مثبت أفقيا بتطبيق معادلة كلايبيرون للعزوم الثلاثة لاحمال المركزة عند  $c, A, A'$  ينتج ان

$$2G.a + wa.a = -6EI \frac{wa^2}{6EI}$$

$$i.e G = -wa$$

وبتطبيق معادلة كلايرون عند النقط  $B, c, A$

$$G.a + 4a - wa = -6EI \left( -\frac{wa^3}{6EIa} + \frac{\delta}{a} \right)$$

$$i.e \delta = -\frac{1}{3} \frac{wa^3}{EI}$$

اي ان  $c$  تعلو  $B$  مسافة  $\frac{wa^3}{3EI}$  وتعلو  $A$  مسافة  $\frac{1}{6} \frac{wa^3}{EI}$ . اذن  $B$  اسفل  $A$  مسافة  $\frac{wa^3}{6EI}$ .

لحساب ردود الافعال نعتبر إتزان  $AB$ . بأخذ العزوم حول  $A$

$$R_c = 3w$$

ومنها

$$R_A = -2w$$

### مثال (3):

باستخدام معادلة كلايرون حل هذه المسألة.

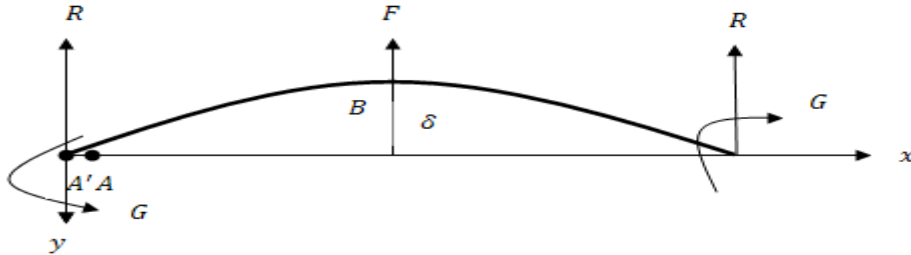
قضيب منتظم مثبت افقيا عند كلا من نهايته. اذا رفع القضيب من منتصفه الى اعلى بقوة مسافة مقدارها

$\delta$  فوق النهايتين. اثبت ان القوة تساوى  $\frac{24K\delta}{a^2} + \frac{w}{2}$  وان العزم عند النهايتين يساوى  $-\frac{6K\delta}{a^2} + \frac{w}{24}$  حيث

$2a$  طول القضيب  $w$  وزنه ،  $K = EI$ .

### الحل

باعتبار نقط التثبيت عند  $A$  تركيزا عند نقطتين متقاربتين جدا احدهما  $A$  والأخرى  $A^1$  بحيث يمكن اعتبار



$$AA^1 = 0$$

$$\delta_1 = 0$$

$$\frac{\delta_1}{A^1 A} \approx 0$$

(كما اوضحنا في المثال السابق)

بتطبيق معادلة كلايرون للعزوم الثلاثة عند النقط  $A^1, A, B$  مع ملاحظة ان

$$a_1 = 0, a_2 = a$$

$$M_1 = G, M = G, M_2 = M_B$$

نحصل على

$$2aG + aM_B = \frac{w}{2a} \left( \frac{a^3}{4} \right) - 6K \frac{\delta}{a} \quad (1)$$

بتطبيق معادلة كلايرون للعزوم الثلاثة عند النقط  $A, B, c$  مع ملاحظة ان

$$a_1 = a, a_2 = a$$

$$M_1 = G, M = M_B, M_2 = G$$

نحصل على

$$aG + 4aM_B + aG = \frac{w}{2a} \left( \frac{a^3}{4} + \frac{a^3}{4} \right) - 6K \left( -\frac{\delta}{a} - \frac{\delta}{a} \right)$$

$$i.e \ 2G + 4M_B = \frac{wa}{4} + \frac{12K\delta}{a^2} \quad (2)$$

بحل المعادلتين (1) و(2) نجد ان

$$M_B = \frac{wa}{24} + \frac{6K\delta}{a^2}, G = \frac{wa}{24} - \frac{6k\delta}{a^2},$$

باعتبار الجزء  $AB$  فان عزوم الانحناء عند  $B$ .

$$M_B = G - Ra + \frac{wa}{4}$$

$$\therefore R = \frac{w}{4} - \frac{12 KG}{a^3}$$

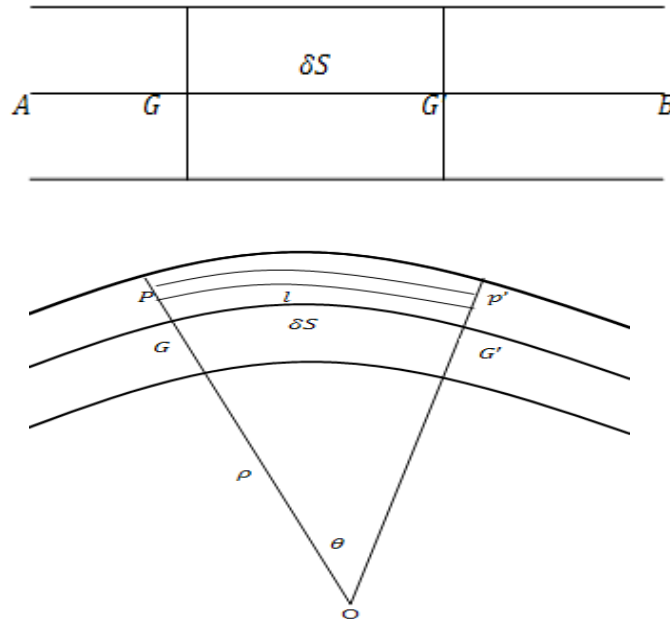
من ائزان القضيب كله

$$F = W - 2R$$

$$= \frac{W}{2} + \frac{24 K \delta}{a^3}$$

### ثالثاً:- طاقة جهد قضيب نتيجة لانحنائه:

نفرض ان  $AB$  هو مقطع القضيب بواسطة المستوى الذي يضم القوى المؤثرة عالية وان  $GG^1$  جزء صغير من محور القضيب طوله  $\delta S$ . ونعتبر جزء القضيب المحصور بين المقطعين العرضيين له  $G, G^1$ .



نفرض انه عند إنحناء القضيب تقاطع هذان المقطعان في  $O$  الالياف عند ايه نقط  $p$  على المقطع عند  $G$  وعلى بعد  $y$  منها تتغير طولها بالانحناء.

نفرض انه اصبح  $\delta S + h$  فاذا كانت  $\rho$  هي نصف قطر انحناء محور القضيب عند  $G$  فإن

$$\frac{h}{y} = \frac{\delta S}{\rho} \quad (4.3.1)$$

إذا كانت  $\delta A$  هي مسافة مقطع الالياف عند  $p$ . فان طاقة جهد هذه الالياف نتيجة لاستطالتها تساوى

$$\frac{1}{2} \frac{E \delta A}{\delta S} h^2 \quad (4.3.2)$$

$$= \frac{1}{2} E \frac{y^2}{\rho^2} \delta A \delta S$$

∴ طاقة جهد جزء طول  $\delta S$  من القضيب

$$= \frac{1}{2} \frac{E \delta S}{\rho^2} \int y^2 dA \quad (4.3.3)$$

ويحسب التكامل على مقطع القضيب عند  $p$  وهذا يساوى عزم القصور الذاتى  $I$  لمقطع القضيب عند  $G$  حول محور عندها عمودى على مستوى القوى.

إذا كانت  $V$  هي طاقة جهد القضيب نتيجة لانحنائه فان

$$U = \frac{1}{2} \int \frac{EI}{\rho^2} ds \quad (4.3.4)$$

وهذا التكامل محسوبا على محور القضيب.

عندما يكون القضيب فى حالته الطبيعية على شكل منحنى ثم تغير هذا الانحناء فان يمكن اثبات ان طاقة الجهد  $U$  المخزونة نتيجة لهذا الانحناء تعطى العلاقة

$$U = \frac{1}{2} \int EI \left( \frac{1}{\rho} - \frac{1}{\rho_0} \right)^2 ds \quad (4.3.5)$$

محسوبا على محور القضيب  $\rho, \rho_0$  هما نصف قطر الانحناء لمحور القضيب عند اية نقطة فيه قبل وبعد التغير فى انحنائه.

$$\therefore M = \frac{EI}{\rho} \quad (4.3.6)$$

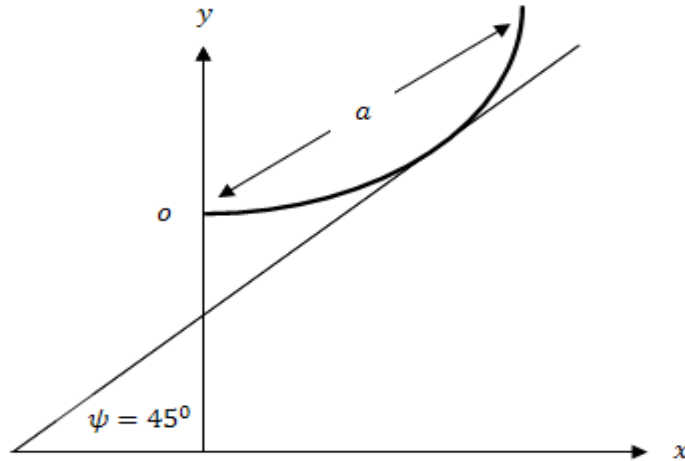
يمكن كتابة طاقة جهد القضيب بدلالة عزم الانحناء  $M$  وذلك بالتعويض من (4.3.6) فى (4.3.4) ينتج ان

$$U = \frac{1}{2} \int \frac{M^2}{EI} ds \quad (4.3.7)$$

وهذا التكامل محسوبا على محور القضيب

أمثلة:مثال(1):-

قضييب طولها  $a$  شكله الطبيعي كتينة ذات بارامتر  $a$  احد طرفية عند راسها انحنى القضييب بعد ذلك ليأخذ شكل دائرة نصف قطرها  $a$  : أثبت ان الطاقة المخزونة فيه تساوى  $\frac{EI}{16a} (10 - 3\pi)$

الحل

المعادلة الذاتية لمنحنى الكتينة هي

$$S = a \tan \psi \quad (1)$$

حيث  $S$  مقاسة من راس الكتينة ،  $\psi$  زاوية ميل المماس عند اى نقطة على منحنى الكتينة على الافقى .  
 ∴ نصف قطر انحناء القضييب عند اية نقطة فية قبل انحنائة

$$\rho_0 = \frac{dS}{d\psi} = a \sec^2 \psi \quad (2)$$

نصف قطر انحناء القضييب بعد انحنائة

$$\rho = a \quad (3)$$

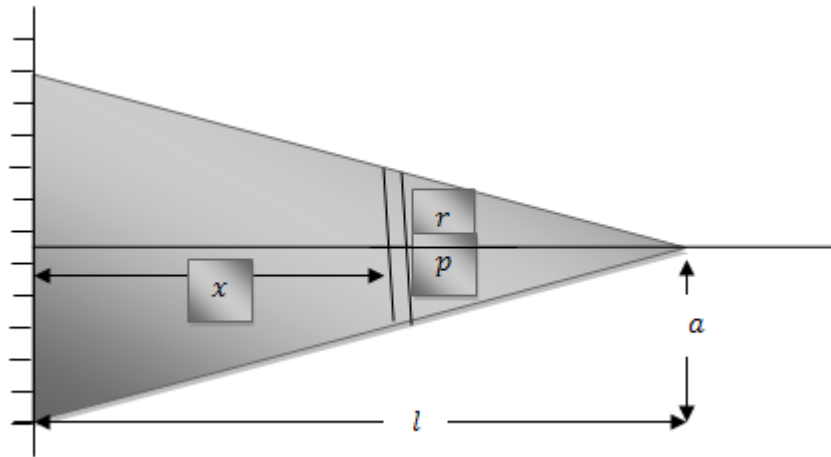
∴ الطاقة المخزونة في القضيب نتيجة إنحنائه

$$\begin{aligned}
 U &= \frac{1}{2} \int_0^a EI \left( \frac{1}{\rho} - \frac{1}{\rho_0} \right)^2 ds \\
 &= \frac{EI}{2} \int_0^{\pi/4} \left[ \frac{1}{a} - \frac{\cos^2 \psi}{a} \right]^2 a \sec^2 \psi d\psi \\
 &= \frac{EI}{2a} \int_0^{\pi/4} (\sec^4 \psi - 2 + \cos^2 \psi) d\psi \\
 &= \frac{EI}{16a} (10 - 3\pi) \quad (4)
 \end{aligned}$$

## مثال (2):-

كابولي على شكل مخروط ، ارتفاعه  $a$  ونصف قطر قاعدته المثبتة  $a$  ووزنه  $\sigma$  لكل وحدة حجم .  
إحسب الطاقة المخزونة فيه نتيجة لإنحنائه تحت تأثير ثقله.

## الحل



باخذ مركز القاعدة المثبتة كنقطة اصل للاحداثيات  $o$  ومحور الكابولي قبل انحنائه محور  $x$  فاذا كانت  $r$  هي نصف قطر المقطع عند اية نقطة على بعد  $x$  من  $o$  فان

$$\frac{r}{l-x} = \frac{a}{l} \quad (1)$$

ويكون وزن وحدة الطول عند  $p$

$$\begin{aligned} \omega &= \sigma \pi r^2 \\ &= \frac{\sigma \pi a^2}{l^2} (l-x)^2 \end{aligned} \quad (2)$$

∴ قوة القص تعطى من العلاقة

$$\frac{dS}{dx} = -\omega \quad (3)$$

$$\therefore = \frac{\sigma \pi a^2}{l^2} (l-x)^2$$

بالتكامل

$$S = \frac{\sigma \pi a^2}{3l^2} (l-x)^2 \div c$$

ولكن  $S = 0$  عند الطرف الحر  $x = l$   
اذن  $c = 0$

$$\therefore S = \frac{\sigma \pi a^2}{3l^2} (l-x)^3 \quad (3)$$

كذلك فان عزم الانحناء  $M$  تعطى من العلاقة

$$\frac{dM}{dx} = -S \quad (4)$$

$$\frac{dM}{dx} = -\frac{\sigma \pi a^2}{3l^2} (l-x)^3 \quad (5)$$

$$M = -\frac{\sigma \pi a^2}{12l^2} (l-x)^4 \quad (6)$$

ويتلشى ثابت التكامل لتلاشى  $M$  عند الطرف الحر  $x = l$ .  
∴ عزم القصور الذاتى لمقطع الكابولى عند  $p$ .

$$I = \frac{1}{4} \pi r^4 = \frac{\pi a^4}{4 l^4} (l-x)^4 \quad (7)$$



∴ الطاقة المخزونة في الكابولي نتيجة لانحنائه

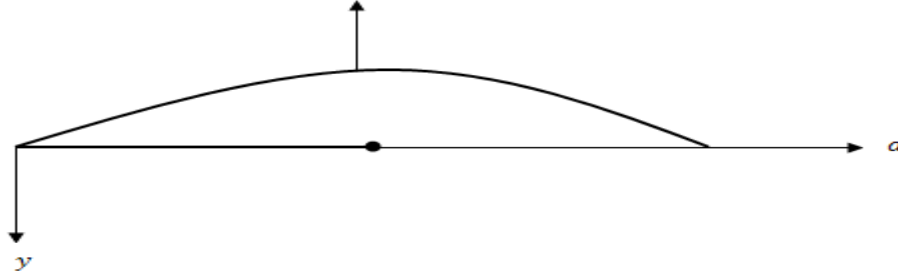
$$\begin{aligned}
 U &= \frac{1}{2} \int_0^l \frac{M^2}{EI} dx \\
 &= \frac{\sigma^2 \pi}{18 E} \int_0^l (l-x)^4 dx \\
 \therefore U &= \frac{\sigma^2 \pi}{90 E} l^5 \quad (8)
 \end{aligned}$$

### مثال (3):

قضيب منتظم طوله  $2a$  وزنه  $W$  يرتكز على مستوى افقى. اثرت على منتصفه قوة راسية رفعتة الى ان ترك طرفاه المستوي. أثبت ان الشغل المبذول  $\frac{W^2 a^3}{20 EI}$ .

### الحل

لايجاد شكل القضيب فى وضعه النهائى ناخذ محورين احدهما افقى والاخر راسى الى أسفل عند احد طرفى القضيب وليكن الطرف الايسر  $o$ .



شكل النصف الايمن من القضيب تحدة العلاقة

$$EIy'' = \frac{W}{4a} x^2 \quad (1)$$

$$EIy' = \frac{Wx^3}{12a} + c \quad (2)$$

وحيث ان القضيب متمائل حول الرأسى عند منتصف القضيب .

فان  $y' = 0$  عند  $x = a$  ومنها .

$$c = -\frac{Wa^3}{12a} = -\frac{Wa^2}{12}$$

$$\therefore EIy' = \frac{Wx^3}{12a} - \frac{Wa^2}{12} = \frac{W}{12a}[x^3 - a^3] \quad (3)$$

$$\therefore EIy = \frac{W}{12a} \left[ \frac{x^4}{4} - a^3 x \right] + c$$

ويتلشى ثابت التكامل لان  $x = 0, y = 0$

$$\therefore EIy = \frac{W}{12a} \left[ \frac{x^4}{4} - a^3 x \right] \quad (4)$$

باتخاذ المستوى الافقى موضع قياسى فان طاقة جهد القضيب نتيجة لوضعة

$$= 2 \int_0^a -y \frac{W}{2a} dx$$

$$= \frac{W^2}{12a^2 EI} \int_0^a \left[ a^3 x - \frac{x^4}{4} \right] dx = \frac{3W^2 a^3}{80 EI} \quad (5)$$

طاقة جهد القضيب نتيجة لانحنائة

$$= 2 \cdot \frac{1}{2} \int_0^a \frac{M^2}{EI} dx$$

$$= \frac{W^2}{16a^2 EI} \int_0^a x^4 dx = \frac{W^2 a^3}{80 EI} \quad (6)$$

∴ الشغل المبذول بواسطة القوة الرأسية يساوى مجموع طاقتى الجهد اللتين اكتسبها نتيجة لموضعة ونتيجة لانحنائة اى تساوى

$$= \frac{Wa^3}{20 EI} \quad (7)$$

## تمارين على الباب الرابع

1. قضيب منتظم طوله  $l$  ووزن وحدة الاطوال منه  $\omega$  مرتكز في وضع افقى عند نهايته . أوجد هبوط اى نقطة من نقاط القضيب .

2. قضيب منتظم وزن وحدة الاطوال منه تساوى  $\omega$  ومرتكز في وضع افقى عند نهايته . وقف رجل ثقله  $W$  عند نقطة على بعد  $a$  من طرف  $b$ , من الطرف الاخر . أثبت ان انخفاض النقطة التى يقف عليها الرجل عن مستوى الحاملين يساوى

$$\frac{ab}{24 EI} \left[ \omega(a^2 + 3ab + b^2) + \frac{8ab}{a+b} W \right]$$

3. قضيب منتظم مرتكز عند نقطتى ثلثيه  $A, B$  افقيا . أثبت ان النسبة بين ارتفاع منتصف القضيب عن  $AB$  الى انخفاض نهاية القضيب عن  $AB$  تساوى 128 : 19 .

4. قضيب منتظم طوله  $4l$  وضع ثقل  $W$  عند منتصفه ومرتكز افقيا عند نقطتين على بعدين متساويين  $l$  من منتصفه (مركزه) . اذا كان القضيب عند كل من نقطتى الارتكاز . فاثبت ان  $W$  تساوى  $\frac{1}{6}$  وزن القضيب .

5. قضيب منتظم طوله  $4l$  مرتكز عند خمس نقاط على نفس الخط الافقى ولى ابعاد متساوية  $l$  من بعضهما . اثبت ان ردود الافعال عند نقاط الارتكاز تتناسب مع 32 : 26 : 11 اثبت ايضا ان عزم الانحناء عند منتصف القضيب وعند كل من نقطتى الارتكاز المجاوره له هو  $\frac{wl}{56}$ ,  $\frac{3wl}{112}$  حيث  $w$  وزن القضيب .

6. قضيب منتظم وزن وحدة الاطوال منه  $\omega$  وطوله  $3l$  مثبت عند طرفيه بحيث كان المماس للقضيب عند كل منهما أفقيا . ارتكز أيضا عند نقطة منه تبعد مسافة  $l$  عن احد الطرفين . فاذا كان طرفا القضيب ونقطة الارتكاز على خط افقى واحد . فأوجد ردود الافعال وعزوم الانحناء عند الطرفين ونقطة الارتكاز .

7. قضيب منتظم  $ABCD$  وزن وحدة الاطوال منه  $\omega$  وطوله  $3l$  يرتكز عند النقط  $A, B, C, D$  حيث  $AB = BC = CD$  بحيث كان الخط الواصل بين النقاط الاربع أفقيا . اوجد عزوم الانحناء عند كل من  $B, C$  ورد الفعل عند كل من النقاط الاربع .

- 8.** قضيب منتظم طوله  $2l$  يرتكز في وضع متمائل على حاملين على نفس الخط الافقى المسافة بينهما  $2a$ . اذا كانت  $l < 2a$ ، فأثبت ان عزم الانحناء يكون نهايه عظمى عند الحامل او عند المنتصف حسبما  $2l \geq (2 + \sqrt{2})a$  اذا كانت  $l > 2a$  فان عزم الانحناء يكون نهاية عظمى عند الحامل .
- 9.** قضيب مرن منتظم مثبت من احد طرفيه بحيث كان افقيا عندها . فإذا علق عند منتصف القضيب ثقلا مساو لوزنه . فأوجد انخفاض النهاية الحرة للقضيب.
- 10.** قضيب منتظم طوله  $5l$  ومرتكز في وضع متمائل على حاملين على نفس الخط الافقى كل منهما يبعد مسافة  $2l$  عن الطرف . أوجد النسبة بين ارتفاع منتصف القضيب عن مستوى الحاملين الى انخفاض النهاية الحرة عنها.
- 11.** قضيب مهمل الوزن  $AB$  ، صلابته  $EI$  وطوله  $2l$  طرفية مثبتان في حانطين راسيين بحيث كان المماس للقضيب عند كل من الطرفين افقيا. علق ثقل مقداره  $4\omega l$  من منتصف القضيب  $C$  ، كما حمل الجزء  $AC$  تحميلا منتظما كثافته الطولية  $\omega$  ، وحمل الجزء  $CB$  تحميلا منتظما كثافته الطولية  $2\omega$  ، اوجد ردود الافعال وعزم الانحناء عند كل من  $A, B$  . اوجد ايضا الهبوط عند المنتصف  $C$  .
- 12.** اثبت انه اذا ارتكز قضيب رفيع منتظم  $AB$  طوله  $l$  على حاملين ، احدهما عند الطرف  $A$  والاخر عند الطرف  $C$  تبعد مسافة  $(2l/3)$  عن  $A$  فان المماس للقضيب عند  $C$  يكون افقيا.
- 13.** قضيب ثقيل منتظم يرتكز على أربعة اوتاد في نفس المستوى بحيث كانت المسافة بين كل وتدين متتاليين  $100 \text{ ft}$  وكانت كتلته وحدة الاطوال من القضيب  $2 \tan s / \text{ft}$  احسب ردود الافعال عند الاوتاد وارسم منحنى عزم الانحناء للقضيب كلة .
- 14.** قضيب منتظم مرتكز على اربعة اوتاد في خط افقى واحد اذا كانت المسافة الوسطى تساوى  $15 \text{ ft}$  والمسافتان الاخرتان  $10 \text{ ft}$  وكان القضيب يحمل ثقلا قدرة  $200 \text{ Ib / ft}$  موزع توزيعا منتظما على القضيب. ارسم عزم الانحناء عند اية نقطة من القضيب . واوجد الانخفاض عند اية نقط منه .
- 15.** بين ان الشغل المبذول في انحناء سلك مستقيم طوله  $2\pi a$  ليكون شكل دائرة نصف قطرها  $a$  هو 
$$\frac{\pi EI}{a}$$

## الباب الخامس إستاتيكا الموائع (الهيدرواستاتيكا)

### مقدمة

من المعروف ان جميع المواد تتحمل تشويهات (deformation) تحت تأثير القوى الخارجية وهذا التشويه يسمى مرن (Elastic) اذا اختفى بعد ازالة تأثير القوى ويسمى صلب (plastic) اذا احتفظ بنفسه بعد ازالة القوى ويسمى انسياب Flow اذا استمر التشويه يزداد بدون حد تحت تأثير القوى مهما كانت صغيرة. وتعرف الموائع Fluids بانها مواد قابلة للانسياب وعلى التشكل بشكل الاوعية المحتوية لها ولا تظل الموائع ساكنة اذا اثرت عليها قوة مماسية. وتنقسم الموائع الى سوائل وغازات:

### السوائل:

اذا ضغطت في حيز فانها تتحمل ضغوطا عالية دون تغيير يذكر في حجمها وكثافتها (اي انها غير قابلة للانضغاط) بعكس الغازات فانها قابلة للانضغاط ويتغير حجمها وكثافتها. والموائع حقيقية لا تملأ تماما الحيز الذي يشغله فهي عبارة عن جزئيات المسافة بينهما في السوائل اصغر كثيرا منها في الغازات وانضغاط الموائع ما هو إلا نقصان في حجم الفراغات الموجودة بين الجزئيات. ودراسة الموائع بهذه الصورة خارجة عن نطاق هذا الباب وفي واقع الأمر ليس هناك ما يدعو لإعتبار المائع بهذه الصورة إذا اقتصرنا في دراستنا على السوائل أوحتي الغازات ما دامت غير مخلخله صغيرة الكثافة ولهذا الهدف يمكن أن نفترض أن المائع منتشر انتشارا متصلا في الحيز الذي يشغله بمعنى أن أية عنصر حجمة  $\delta \tau$  من هذا الحيز يشغله تماما جزء من هذا المائع .

### القوى في الموائع:

القوى التي تؤثر في الموائع سواء عند إتزانها أو حركتها يمكن تقسيمها إلى نوعين :

#### 1-قوى حجمية (Body or Valume Forces):

وهذه ناتجة من مؤثرات خارجية عن المائع وتؤثر على جميع جزئياته مثل قوى الجاذبية .

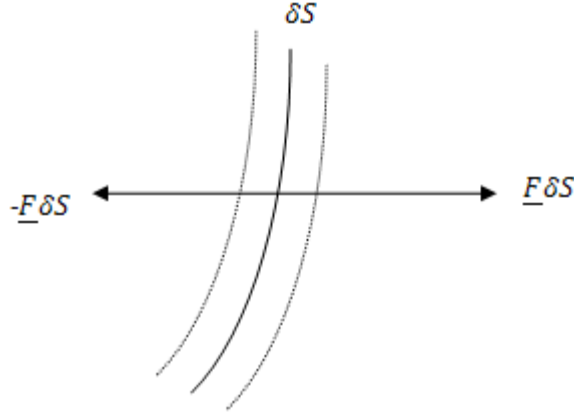
ولعنصر  $\delta \tau$  من المائع عند نقطة ما فإن قوة من هذا النوع تؤثر عليه يمكن كتابتها على الصورة  $\vec{F} = \rho \delta \tau \vec{F}$  وفيها  $F$  هي القوة لكل وحدة كتل من الموائع عند هذه النقطة.

#### 2-قوى سطحية surface forces:

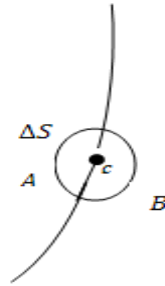
وهي تمثل تأثير جزء من المائع الاخر (او على جدار السطح المحتوى) فهي نوع من قوى الفعل ورد

الفعل.

بفرض ان سطحاً  $\delta S$  عند نقطة  $A$  داخل المائع. جزيئات المائع على احد جانبي  $\delta S$  تؤثر على جزيئاته على الجانب الاخر بقوة يمكن كتابتها على الصورة  $\vec{F}\delta S$  والجزيئات الاخيرة تؤثر على الاولى بنفس القوة ولكن في الاتجاه المضاد  $F$  اذن هي القوة لكل وحدة مساحات عند  $A$  اي الاجهاد عند  $A$ .



اذا قسمنا المائع الى جزئين  $A, B$  وبفرض ان  $\vec{F}$  هي القوة المحصلة التي يؤثر بها الجزء  $B$  على مساحة  $\Delta S$  حول النقطة  $c$  فان الاجهاد عند  $c$  هو نهاية  $\frac{F}{\Delta S}$  عندما تؤول  $\Delta S$  الى الصفر ويمكن تحليل الاجهاد عند اية نقطة



بالنسبة الى مستوى معلوم الى مركبتين مركبة في اتجاه المماس للسطح  $\Delta S$  ويسمى الاجهاد القاص ويقاوم المستويات المختلفة من الانزلاق بسهولة على بعضها حتى يمنع تغير الشكل ومركبة اخرى عمودية وتسمى بالاجهاد العمودي. نلاحظ ان المركبة الاولى تكون كبيرة نسبيا للسوائل اللزجة.

## الضغط في المائع

عندما يكون السائل في حالة سكون (حالة اتزان) يتلاشى الاجهاد القاص عند اى نقطة بالنسبة لاي مستوى مار بها واذا تحرك المائع فان الاجهاد القاص يبدأ بالظهور ويعتمد على سرعة الحركة. وفي حالة السوائل المتزنة وهى موضوع دراستنا فان سنعتبر فقط الاجهاد العمودى على المستوى الفاصل . وعلى هذا فان الضغط لمائع فى حالة سكون الواقع على اى سطح مار بنقطة معينة تكون عموديا على ذلك السطح .

### شدة الضغط $P$

اذا كانت  $\Delta N$  هى مقدار القوة الناتجة من ضغط المائع على المساحة  $\Delta S$  عند  $A$  فان العلاقة

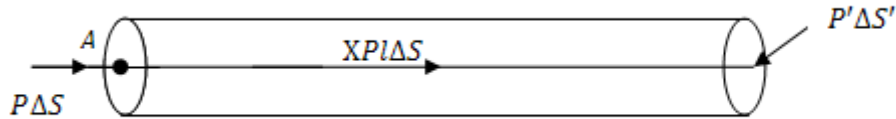
$$P = \frac{\Delta N}{\Delta S} \quad (5.1)$$

تعطى متوسط شدة الضغط  $P$  على المساحة  $\Delta S$  وباخذ النهاية عندما تؤول  $\Delta S$  الى الصفر فان العلاقة

$$P = \lim_{\Delta S \rightarrow 0} \frac{\Delta N}{\Delta S} \quad (5.2)$$

تعطى شدة ضغط المائع عند النقط  $A$  . نلاحظ من العلاقة (5.1) او (5.2) ان  $P$  تتوقف ليس فقط على موضع  $A$  بل ايضا على اتجاه  $\Delta S$  فى المائع ولكن هذا غير صحيح فى الموائع المتزنة عموما. ويمكن اثبات ذلك كما يلي  
اعتبر إتزان جزء من المائع على شكل اسطوانة طولها  $l$  وقاعدتها  $\Delta S$  عند النقطة  $A$  عمودية على محور الاسطوانة اما القاعدة الاخرى  $\Delta S'$  فتميل على المحور بزاوية  $\alpha$  .  
اى ان

$$\Delta S = \Delta S' \cos \alpha$$



هذه الاسطوانة متزنة تحت تأثير

- 1- القوى الخارجية. بفرض ان مركبتها فى اتجاه المحور هى  $X\rho l\Delta S$  .
  - 2- ضغط المائع على الجوانب المنحنية وهذه لتعامدها على هذه الجوانب ليس لها مركبة فى اتجاه المحور.
  - 3- ضغط المائع على القاعدتين مقدار  $P\Delta S$  ,  $P'\Delta S'$  .
- ∴ معادلة الاتزان فى اتجاه محور الاسطوانة تعطى

$$X\rho l\Delta S - P'\Delta S' \cos \alpha + P\Delta S = 0$$

$$P' - P = X\rho l \quad (5.3)$$


اذا انكمش العنصر حتى انطبقت القاعدتان عند  $A$  ( $l \rightarrow 0$ ) ينتج ان

$$P' = P$$

اي ان شدة الضغط لا تتوقف على اتجاها المساحة.  
اذن شدة الضغط  $P$  دالة قياسية تتوقف على الموضع فقط

### المعادلات العامة لاتزان مائع:

نعتبر إتزان جزء من المائع على شكل اسطوانة قائمة محورها  $AB$  في اية اتجاه وليكون في اتجاه المحور  $x$  نفرض ان مساحة قاعدة الاسطوانة  $\Delta S$  وطول محورها  $\Delta x$ .



كما في البند السابق يمكننا كتابة معادلة الاتزان في اتجاه المحور على الصورة

$$P' - P = X\rho \cdot \Delta x \quad (5.4)$$

وحيث ان شدة الضغط دالة في الموضع فقط واذا افترضنا ان مفكوك تيلور لهذه الدالة صحيح عند  $A$ ، والمنطقة حولها فان

$$P' = P + \Delta P = P + \frac{\partial P}{\partial x} \Delta x \quad (5.5)$$

بالتعويض في المعادلة الاتزان واخذ النهاية عندما  $\Delta x \rightarrow 0$  ينتج ان

$$\frac{\partial P}{\partial x} = \rho X \quad (5.6)$$

وبالمثل في الاتجاهين  $y, z$  نحصل على

$$\frac{\partial P}{\partial y} = \rho Y \quad (5.7)$$

$$\frac{\partial P}{\partial z} = \rho Z \quad (5.8)$$

اي ان معادلات الاتزان لمانع يمكن كتابتها في الصورة الاتجاهية

$$\nabla P = \rho \vec{F}$$

$$(5.9)$$



إتزان سائل متجانس:

في الحالة تكون  $\rho$  مقدار ثابت ويتعين شدة الضغط  $p$  عند اية موضع  $A$  في السائل من معادلات الاتزان ولما كانت  $p$  دالة للموضع ووحيدة القيمة ومتصلة فان

$$dp = \frac{\partial p}{\partial x} dx + \frac{\partial p}{\partial y} dy + \frac{\partial p}{\partial z} dz$$

$$= \rho (Xdx + Ydy + Zdz)$$

إذن الكمية بين القوسين يجب ان تكون تفاضل تام وكما هو معلومة فان هذا يتحقق اذا كانت

$$\frac{\partial X}{\partial y} = \frac{\partial Y}{\partial x}, \frac{\partial Y}{\partial z} = \frac{\partial Z}{\partial y}, \frac{\partial Z}{\partial x} = \frac{\partial X}{\partial z}$$

اي ان

$$\nabla \wedge \vec{F} = 0$$

هذه المعادلة تعطي الشرط الازم تحققه حتى يمكن للسائل أن يتزن تحت تأثير مجال القوى  $\vec{F}$  بتكامل المعادلة (5.10) نحصل على

$$P - P_o = \rho \int_o^A (Xdx + Y dy + Zdz)$$

حيث  $p_o$  هي شدة الضغط عند نقطة ما  $o$ .

ويحسب التكامل على اي منحنى يصل بين  $A, o$  ونتيجة للشرط (5.11) فاننا نحصل على نفس الدالة لشدة الضغط مهما كان اختيارنا لمنحنى التكامل.

عندما يكون المانع متزنا تحت تأثير الجاذبية فان  $F = (o, o, g)$  وذلك عند إتخاذ المحور  $z$  راسيا الى اسفل. وإذا كانت نقطة الاصل عند  $o$  فان المعادلة (5.12) تعطي

$$p - p_o = \rho \int_o^z g dz$$

$$= \rho g z$$

$$\therefore p = p_o + \rho g z$$

من الواضح انه اذا كانت  $o$  عند السطح الحر للسائل فان  $p_o$  تكون مساوية للضغط الجوى.

من العلاقة (5.13) نرى ان السطوح متساوية الضغط (اي ان السطوح التي يتساوى عليها شدة الضغط عند كل نقطة منها) هي المستويات الافقية

$$Z = \cos \tan t$$

وعلى ذلك فان السطح الحر للسائل هو الآخر افقى اذن هو احد هذه المستويات شدة الضغط عليها مساوية للضغط الجوى.

مثال:

إسطوانة دائرية نصف قطرها  $a$  وارتفاعها  $h$  بها كمية من سائل متجانس ، وضعت الاسطوانة ومحورها راسي في مجال للقوى اثر على السائل بقوة طاردة عمودية على محور الاسطوانة ومقدارها  $\frac{2gh}{c^2}r$  لكل وحدة كتل ،  $r$  هي البعد عن محور الاسطوانة . اوجد شدة الضغط عند اية نقط من السائل اذا كانت  $p_o$  هو الضغط الجوى. اوجد ايضا حجم اكبر كمية من السائل يمكن ان تحتويها الاسطوانة.

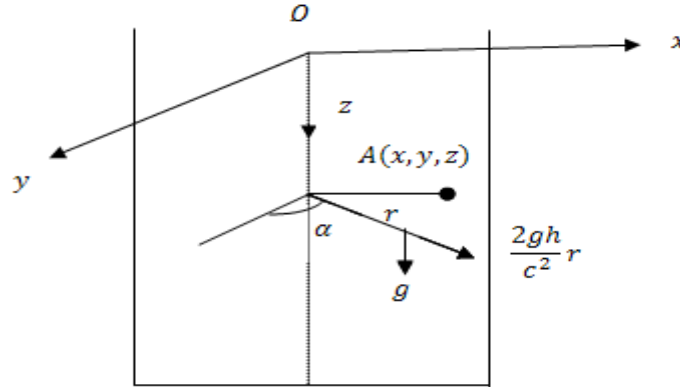
الحل

باتخاذ المحور  $Oz$  راسيا الى اسفل منطبقا على محور الاسطوانة فان القوى المؤثرة على السائل فى اتجاه محاور الاحداثيات عند النقطة  $(x, y, z)$  هي

$$X = \frac{2gh}{c^2} r \sin \alpha$$

$$\therefore X = \frac{2gh}{c^2} x$$

$$Y = \frac{2gh}{c^2} r \cos \alpha$$



$$\therefore Y = \frac{2gh}{c^2} y$$

$$Z = g$$

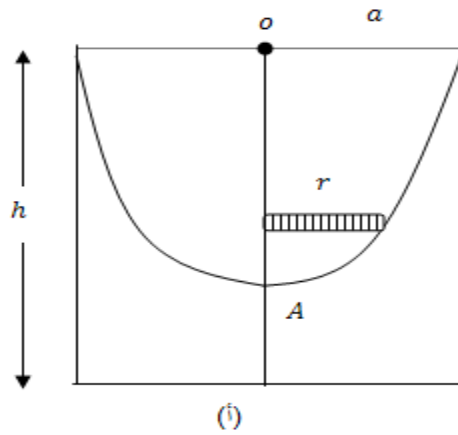
ومن معادلة الاتزان للسائل

$$\frac{\partial p}{\partial x} = \frac{2gh\rho}{c^2} x$$

$$\frac{\partial p}{\partial y} = \frac{2gh\rho}{c^2} y$$

$$\frac{\partial p}{\partial z} = \rho g$$

$$\therefore dp = \frac{\partial p}{\partial x} dx + \frac{\partial p}{\partial y} dy + \frac{\partial p}{\partial z} dz$$



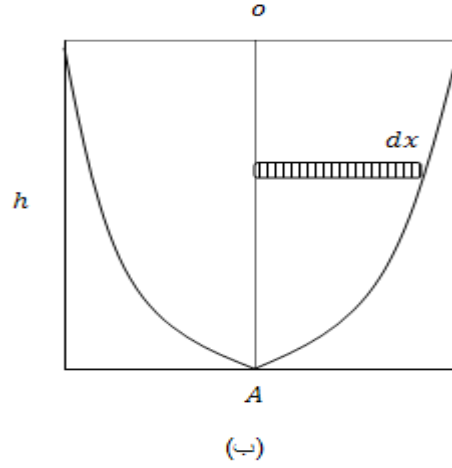
$$dp = \rho \left[ \frac{2gh}{c^2} (x dx + y dy) + g dz \right]$$

$$\therefore p = \rho \left[ \frac{2gh}{c^2} \left( \frac{1}{2} x^2 + \frac{1}{2} y^2 \right) + g z \right] + c$$

$$p = \rho \left[ \frac{gh}{c^2} r^2 + g z \right] + c$$

فاذا اتخذنا نقطة الاصل  $o$  عند مركز حافة الاسطوانة فان عند  $r = a, z = 0$  اي ان

$$c = p_o - \frac{\rho gh a^2}{c^2}$$



$$\therefore p = p_o + \rho \left[ \left( \frac{gh}{c^2} (r^2 - a^2) + gz \right) \right]$$

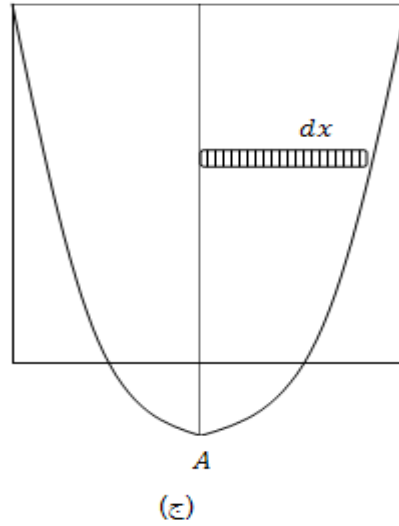
عند السطح الحر للسائل  $p = p_o$  فتكون معادلتة

$$z = \frac{h}{c^2} (a^2 - r^2)$$

وهو قطع مكافئ دوراني حول محور الاسطوانة اكبر كمية من السائل يمكن ان تحتويها الاسطوانة عندما يمر هذا القطع بحافة الاسطوانة.  
بوضع  $r = 0$  يكون ارتفاع القطع

$$oA = \frac{a^2}{c^2} h$$

عند إيجاد حجم السائل هناك حالتان ينبغي التعويض لها.  
(أ)  $oA \leq h$  ,  $a \leq c$  كما بالشكل (أ) او (ب) الحجم المطلوب  $V$



$$V = \pi a^2 h - \int_{r=a}^{r=0} \pi r^2 dz = \pi a^2 h - \int_0^a \frac{2\pi h}{c^2} r^3 dr$$

$$= \pi a^2 h - \frac{2\pi h}{c^2} \left( \frac{r^4}{4} \right)_0^a = \pi a^2 h - \frac{\pi h a^4}{2c^2}$$

$$V = \pi a^2 h \left( 1 - \frac{a^2}{2c^2} \right)$$

(ب)  $oA \geq h$  ,  $a \geq c$  كما بالشكل (ج) او (ب) حجم السائل في هذه الحالة

$$V = \pi a^2 h - \int_0^h \pi r^2 dz = \pi a^2 h - \int_0^h \pi \left( a^2 - \frac{c^2}{h} z \right) dz$$

$$V = \frac{\pi a^2 h}{2}$$

إتزان غاز:

لما كان الغاز قابلا للانضغاط أى ان  $\rho$  كمية متغيرة فان لحساب  $p$  يلزمنا معادلة أخرى بالاضافة الى معادلة الاتزان . هذه المعادلة نستمدتها فى كثير من الاحيان من معادلات علم الديناميكا الحرارية المعروف بمعادلات حالة الغاز مثل

$$p = k \rho \quad (5.13)$$

عندما تظل درجة الحرارة ثابتة للغاز  
او

$$p = k \rho^\gamma$$

(حيث  $\gamma$  مقدار ثابت ) عندما تظل كمية الحرارة ثابتة وفى أحيان اخرى تكون  $\rho$  معلومة كدالة فى الموضع .  
بضرب طرفى معادلة الاتزان فى  $\nabla \wedge$  نحصل على

$$\begin{aligned} \nabla \wedge \nabla p &= \nabla \wedge \rho \vec{F} \\ 0 &= \nabla \wedge \rho \vec{F} \end{aligned} \quad (5.14)$$

$$\therefore \nabla \wedge \phi \vec{A} = \nabla \phi \wedge \vec{A} + \phi \nabla \wedge \vec{A}$$

حيث  $\phi$  كمية قياسية و  $A$  كمية متجهة وبذلك يمكن كتابة المعادلة (5.14) فى الصورة

$$0 = \nabla \rho \wedge \vec{F} + \rho \nabla \wedge \vec{F} \quad (5.15)$$

وبضرب هذه المعادلة قياسيا فى  $\vec{F}$

$$0 = \vec{F} \cdot \nabla \rho \wedge \vec{F} + \rho \vec{F} \cdot \nabla \wedge \vec{F}$$

وبالقسمة على  $\rho$

$$\therefore \vec{F} \cdot \nabla \wedge \vec{F} = 0 \quad (5.16)$$

وهذا هو الشرط اللازم تحققه حتى يمكن للغاز ان يتزن تحت تأثير مجال القوى  $\vec{F}$  .  
كما اثبتنا فى السوائل فى شدة الضغط  $p$  عند اية نقطة  $A$  مثلا تتعين بتكامل المعادلة

$$dp = \rho(Xdx + Ydy + Zdz) \quad (5.17)$$

اذا إتزن الغاز تحت تأثير الجاذبية الارضية فإن

$$\frac{\partial p}{\partial x} = 0, \quad \frac{\partial p}{\partial y} = 0, \quad \frac{\partial p}{\partial z} = -\rho g \quad (5.18)$$

وفى هذه المعادلات اتخذنا المحور  $oz$  رأسيا الى أعلى اذن  $p$  دالة للمتغير  $z$   
وبفرض ان العلاقة بين  $p, \rho$  معطاه فى الصورة

$$p = k \rho^n \quad (5.19)$$

حيث  $k$  ثابت . إذن

$$\frac{dp}{dz} = -g \left( \frac{p}{k} \right)^{\frac{1}{n}} \quad (5.20)$$

بفضل المتغيرات والتكامل نحصل على

$$\left( \frac{n}{n-1} \right) p^{\frac{n-1}{n}} = \frac{-g}{\frac{1}{k^n}} z + c_1 \quad n \neq 1$$

وإذا كانت  $p = P_o$  عندما  $z = o$  فإن

$$c_1 = \left( \frac{n}{n-1} \right) P_o^{\frac{n-1}{n}}$$

$$\left( \frac{n}{n-1} \right) \left[ p^{\frac{n-1}{n}} - P_o^{\frac{n-1}{n}} \right] = \frac{-g}{\frac{1}{k^n}} z \quad (5.21)$$

ومن معادلة (5.19) يمكن إيجاد الثابت  $k$  عندما

$$\rho = \rho_o, p = P_o, z = o$$

$$\therefore \rho_o = k \rho_o^n$$

$$k = \frac{P_o}{\rho_o^n} \quad (5.22)$$

$$\therefore \left( \frac{n}{n-1} \right) \left[ p^{\frac{n-1}{n}} - \rho_o^{\frac{n-1}{n}} \right] = \frac{-g \rho_o}{P_o^{1/n}} z$$

$$\left( \frac{n}{n-1} \right) P_o^{\frac{n-1}{n}} \left[ \left( \frac{p}{P_o} \right)^{\frac{n-1}{n}} - 1 \right] = \frac{-g \rho_o z}{P_o^{\frac{1}{n}}}$$

$$\left( \frac{p}{P_o} \right)^{\frac{n-1}{n}} - 1 = \frac{-g \rho_o z}{P_o^{\frac{1}{n}} P_o^{\frac{n-1}{n}}} \left( \frac{n-1}{n} \right)$$

$$\left( \frac{p}{P_o} \right)^{\frac{n-1}{n}} = \frac{-g P_o z}{P_o} \left( \frac{n-1}{n} \right) + 1$$

$$\frac{p}{p_o} = \left[ 1 - \frac{g \rho_o z}{p_o} \left( \frac{n-1}{n} \right) \right]^{\frac{n}{n-1}}$$

$$\frac{p}{p_o} = \left[ 1 - \frac{gz}{RT_o} \left( \frac{n-1}{n} \right) \right]^{\frac{n}{n-1}} \quad (5.23)$$

5

إذا ان  $p_o = \rho_o RT_o$  كما هو معروف من القانون العام للغازات وللقيمة الخاصة  $n = 1$

$$\frac{p}{\rho} = K = RT_o = \frac{p_o}{\rho_o}$$

وتعطي معادلات الاتزان العلاقة

$$\frac{dp}{dz} = -\frac{g}{k} p = -\frac{g}{RT_o} \rho$$

$$\frac{p}{p_o} = \exp \left( -\frac{g}{k} z \right) = \exp \left( -\frac{g}{RT_o} z \right) \quad (5.24)$$

ولقيم  $z$  الصغيرة فانه باستخدام مفكوك تيلور يمكن تقريب المعادلتين (5.23)،(5.24) لتصبحا على الصورة

$$p = p_o - \rho_o g z \quad (5.25)$$

وبقارنة هذه العلاقة بالعلاقة (5.13) في البند السابق للسوائل يمنا القول انه لقيم  $z$  الصغيرة اي في المنطقة المحيطة بالنقطة  $o$  يمكن معاملة الغاز كما لو كان مائعا ذات كثافة ثابتة  $\rho$ .

هذه النتائج لها اهمية خاصة عند دراسة الغلاف الجوى فالعلاقة  $p = k\rho^n$  صحيحة للهواء وتأخذ  $n$  فيما تختلف باختلاف الارتفاع عن سطح الارض فهي تساوى 1.238 حتى ارتفاع 11 كيلو متر ثم ناخذ القيمة 1 حتى ارتفاع 32 كيلو متر عن سطح الارض.



**مثال:**

على ارتفاع  $z$  من سطح الارض كانت كثافة الهواء  $\rho$  وشدة ضغطه  $p$  وعند سطح الارض كانت قيمتها  $\rho_o, p_o$  اذا كانت  $\rho = \rho_o e^{-\lambda z}$  حيث  $\lambda$  ثابت واعتبرت الجاذبية الارضية ثابتة اوجد  $p$  عند ايه ارتفاع  $z$ . اذا اتزن في هذا الجو بالون كروي نصف قطرة  $a$  عندما كان ارتفاع مركزه عن سطح الارض  $h$  اوجد وزن البالون.

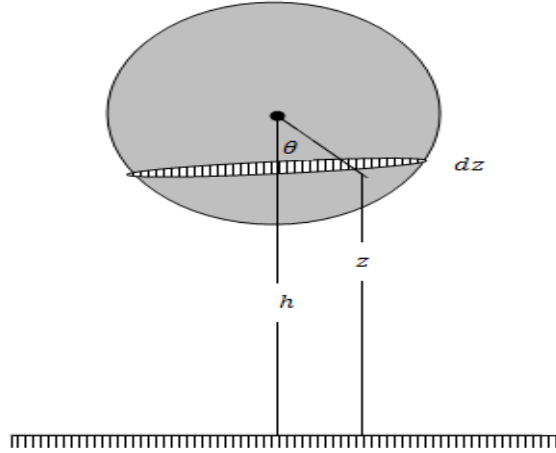
**الحل**

معادلتنا اتزان الهواء في الاتجاهين الاقبيين  $x, y$  هما

$$\frac{\partial p}{\partial x} = 0, \quad \frac{\partial p}{\partial y} = 0 \quad (1)$$

اي ان  $p$  لا يتوقف على  $x$  او  $y$ .  
 $\therefore$  معادلة إتزان الهواء في الاتجاه الراسي تصبح

$$\frac{dp}{dz} = -\rho g = -\rho_o e^{-\lambda z} g \quad (2)$$



$$\therefore p = \frac{\rho_o g}{\lambda} e^{-\lambda z} + c$$

ولكن  $\rho_o = p_o$  عندما  $z = 0$  اذن

$$c = p_o - \frac{\rho_o g}{\lambda}$$

$$\therefore p = p_o - \frac{\rho_o g}{\lambda} (1 - e^{-\lambda z}) \quad (3)$$

ضغط الهواء على العنصر  $\Delta S$  من سطح البالون عمودى وعلية ويساوى  $p \Delta S$ .  
من التماثل محصلة القوى الناتجة من ضغط الغاز على سطح البالون كله راسيا ومقدارها

$$P = \int p \cos \theta dS$$

$$= \int \left[ p_o - \frac{\rho_o g}{\lambda} (1 - e^{-\lambda z}) \right] \cos \theta dS$$

على سطح البالون

$$dS = 2\pi a dz$$

$$z = h - a \cos \theta$$

$$\frac{dz}{d\theta} = a \sin \theta$$

$$dz = a \sin \theta d\theta$$

بالتعويض نحصل على

$$P = -2\pi a \int_{h-a}^{h+a} \left[ p_o - \frac{\rho_o g}{\lambda} (1 - e^{-\lambda z}) \right] \left( \frac{z-h}{a} \right) dz$$

ضع

$$Z = z - h$$

$$dZ = dz$$

$$\therefore P = -2\pi \int_{-a}^a \left[ p_o - \frac{\rho_o g}{\lambda} + \frac{\rho_o g e^{-\lambda h}}{\lambda} e^{-\lambda Z} \right] Z dZ$$

$$\therefore P = -\frac{2\pi\rho_o}{\lambda} e^{-\lambda h} \left[ \frac{-ze^{-\lambda z}}{\lambda} - \frac{e^{-\lambda z}}{\lambda^2} \right]_{-a}^a$$

$$= \frac{4\pi\rho_o}{\lambda^3} e^{-\lambda h} [a\lambda \cosh \lambda a + \sinh \lambda a]$$

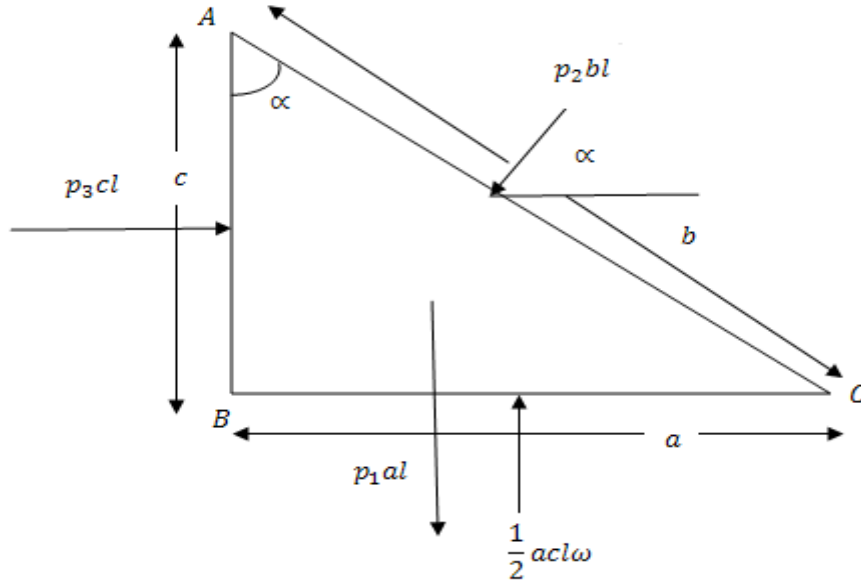
البالون متزن تحت تاثير وزنة  $W$  ومحصلة ضغط الهواء  $P$

$$\therefore W - P = 0$$

$$\therefore W = \frac{4\pi\rho_o}{\lambda^3} e^{-\lambda h} [a\lambda \cosh \lambda a + \sinh \lambda a].$$

نظريات:نظرية (1):الضغط عند اى نقطة ثابت بالنسبة لجميع المستويات المارة بها .

لاثبات هذه النظرية . نعتبر منشور ثلاثى من المانع طولة  $l$  ومقاطعة كما بالشكل ممثل بالمثلث  $ABC$  الذى اطواله  $a, b, c$  فى حالة الاتزان.



نفرض ان الضغط المؤثر على الاضلاع المنشور هى  $p_1, p_2, p_3$  اجهادات عمودية وتؤثر على الوجة الثلاثة

$$(الاجهاد العمودى المؤثر على الضلع  $Ac$ ) \quad p_2 = \frac{F_1}{bl}$$

$$(الاجهاد العمودى المؤثر على الوجة الممثل بالضلع  $Ac$ ) \quad p_1 = \frac{F_2}{al}$$

$$(الاجهاد المؤثر على الوجة الممثل بالضلع  $AB$ ) \quad p_3 = \frac{F_3}{cl}$$

$$\text{اذن } F_3 = p_3 cl, \quad F_1 = p_1 al, \quad F_2 = p_2 bl$$

هذا المنشور من المانع متزن تحت تأثير وزنة راسيا لاسفل وهذه القوى الثلاثة.

بتحليل القوى في الاتجاهين الافقى والراسى فان معادلتى الاتزان هما

$$p_3lc = p_2lb \cos \alpha \quad (5.26)$$

$$p_1la = p_2lb \sin \alpha + \frac{1}{2}acl \omega \quad (5.27)$$

حيث  $\omega$  هي الوزن النوعى للمائع ووحداتها هي قوة على وحدة الحجم. من هندسة الشكل نلاحظ ان

$$\cos \alpha = \frac{c}{b}, \sin \alpha = \frac{a}{b} \quad (5.28)$$

بالتعويض من (5.28) فى (5.26)، (5.27) نحصل على

$$p_3 = p_2, \quad (5.29)$$

$$p_1 = p_2 + \frac{1}{2}c \omega \quad (5.30)$$

العلاقة (5.30) صحيحة لاي ابعاد للمنشور.

اذا كانت ابعاد المنشور صغيرة جدا توول الى الصفر فان المعادلة (5.30) تعطى

$$p_1 = p_2 \quad (5.31)$$

من المعادلات (5.29)، (5.31) نحصل على

$$p_1 = p_2 = p_3$$

## انتقال الضغط:

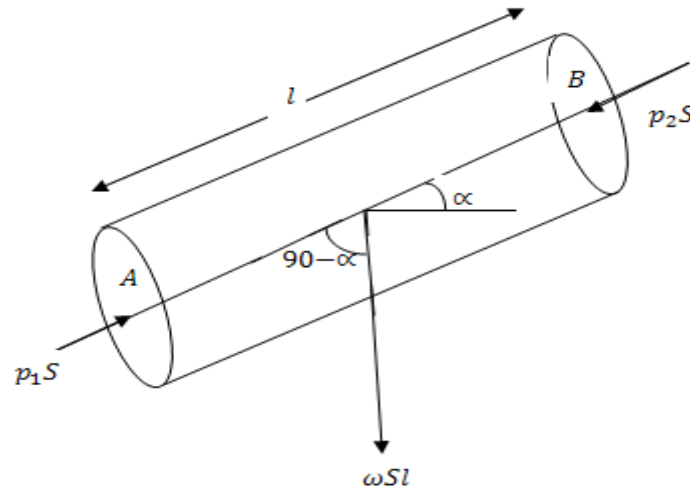
اذا اثر ضغط اضافى عند اى جزء من مائع فى حالة سكون فان هذا الضغط ينتقل الى جميع اجزاء المائع بنفس القيمة.

ولاثبات ذلك نعتبر اسطوانة من المائع كما بالشكل

الاسطوانة فى حالة اتزان تحت تأثير وزنها  $\omega SI$  والقوى الناتجة من الضغطين على المقطعين عند  $A, B$  وهما  $p_1S, p_2S$  على الترتيب. حيث  $S$  مساحة مقطع الاسطوانة،  $l$  طولها،  $\omega$  الوزن النوعى للمائع.

من شروط الاتزان نجد انه بالتحليل فى اتجاه محور الاسطوانة  $AB$  فان

$$p_1S - \omega Sl \sin \alpha - p_2S = 0 \quad (5.36)$$



بفرض حدوث إضافة عند  $A$  في الضغط وليكن مقداره  $p_1^1$  وان الضغط الاضافى الناتج  $B$  هو  $p_2^1$  من شروط الاتزان والتحليل في اتجاه  $AB$  نجد ان

$$(p_1 + p_1^1)S - (p_2 + p_2^1)S - \omega sl \sin \alpha = 0 \quad (5.37)$$

ب طرح (5.36) من (5.37) نحصل على

$$P_1^1 = P_2^1 \quad (5.38)$$

النتيجة (5.38) تعنى ان الضغط الاضافى  $p_1^1$  عند  $A$  ينتقل كما هو عند  $B$ . وحيث ان النتيجة السابقة لا تعتمد على طول الاسطوانة فان الضغط الاضافى  $p_1^1$  عند  $A$  ينتقل على الفور الى جميع نقط السائل.

### ملحوظة:

نلاحظ انه اذا اعتبرنا الاسطوانة افقية ، اي ان  $\alpha = 0$  فان من معادلة (1) نحصل على

$$P_1 = P_2$$

اي ان الضغط عند نقطتين في مستوى افقى واحد يكون متساوى.

**الضغط على السطوح المستوية:**

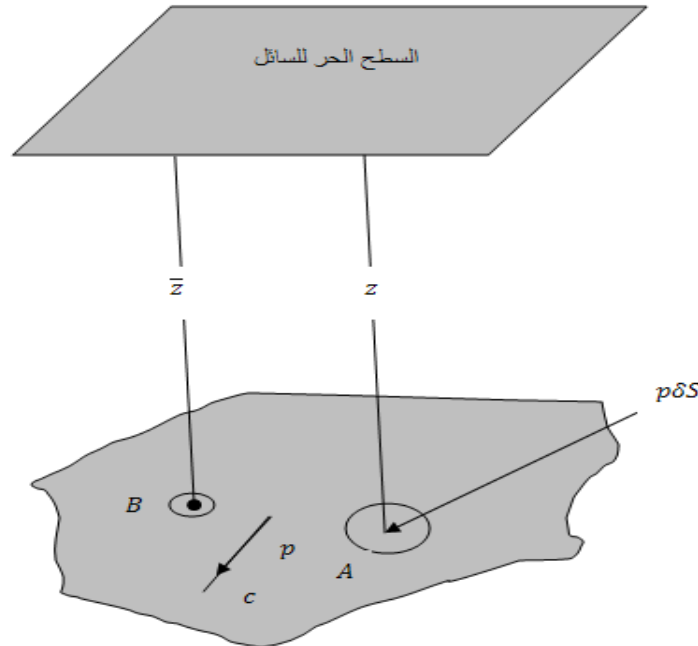
نفرض سطح مستوى مغمور في سائل. والمطلوب إيجاد القوى الناتجة من الضغط المحصل على هذا السطح المستوي.  
النظرية التالية توضح لنا كيفية حساب القوى الناتجة من الضغط المحصل على الصفائح المستوية المغمورة في سائل.

**نظرية (2):**

**القوى الناتجة من الضغط المحصل على صفيحة مستوية مغمورة في سائل يساوي حاصل ضرب الضغط عند مركز كتلي الصفيحة  $x$  مساحة الصفيحة.**

لإثبات هذه النظرية نفرض اننا قسمنا الصفيحة الى عناصر صغيرة وتعتبر عنصر مساحة  $\delta S$  عند  $A$  على عمق  $z$  من سطح السائل.

شدة الضغط عند  $A$  هو  $p$  القوى الواقعة على هذا العنصر الناتجة من الضغط هي  $p \delta S$  وتكون عمودية على العنصر وحيث ان القوى على العناصر المختلفة المكونة للسطح متوازية ، فمحصلتها اذن توازيها اي عمودية على مستوى السطح ومقدارها



$$P = \lim_{\delta S \rightarrow 0} \sum p \delta S = \int_S p d S \quad (5.39)$$

ولما كان السائل متزنًا تحت تأثير الجاذبية فإن

$$\begin{aligned} P &= p_o + \rho g z \\ &= p_o + \omega z \end{aligned} \quad (5.40)$$

حيث  $\omega = \rho g$  الوزن النوعي للسائل

$$\begin{aligned} \therefore P &= \int_S (p_o + \omega z) dS \\ &= p_o S + \omega \int_S z dS \end{aligned} \quad (5.41)$$

حيث  $S$  مساحة الصحيفة المستوية  
حيث ان  $B$  مركز كتلة الصحيفة فإن

$$\begin{aligned} \bar{Z} &= \frac{\int z dS}{\int dS} \\ \int z dS &= \bar{Z} S \end{aligned} \quad (5.42)$$

بالتعويض من (5.42) في (5.41) ينتج ان

$$\begin{aligned} P &= p_o S + \omega \bar{Z} S \\ P &= (p_o + \omega \bar{Z}) S \end{aligned} \quad (5.43)$$

وحيث ان مركز كتلة الصحيفة عند  $B$  الضغط عند  $B$  يكون مساويا  $p_o + \omega \bar{Z}$  فان المعادلة (5.43) تعنى ان القوى الناتجة من الضغط المحصل لسائل على صحيفة مستوية يساوى حاصل ضرب الضغط عند مركز كتلة الصحيفة في مساحة الصحيفة .  
عند اهمال الضغط الجوى فإن

$$\begin{aligned} P &= \omega \bar{Z} S \\ P &= \rho g \bar{Z} S \end{aligned} \quad (5.44)$$

### مثال (1):

اذا كان الضغط المحصل لسائل على صفيحة دائرية راسية نصف قطرها  $a$  يساوى ضعف وزن كرة من نفس السائل نصف قطرها  $a$  . فاذا خفضت الدائرة في السائل مسافة  $2a$  راسيا. فاثبت ان ضغط السائل الجديد على الصفيحة يساوى  $\frac{7}{4}$  من الضغط الاول مع اهمال الضغط الجوى.

### الحل

نفرض ان الضغط الواقع على الصفيحة الدائرية في الوضع الاول يساوى  $p_1$  وان  $P_2$  هو الضغط الجديد الواقع على الصفيحة بعد ان خفضت مسافة راسية  $2a$ . وزن كرة من السائل نصف قطرها  $a$  يساوى

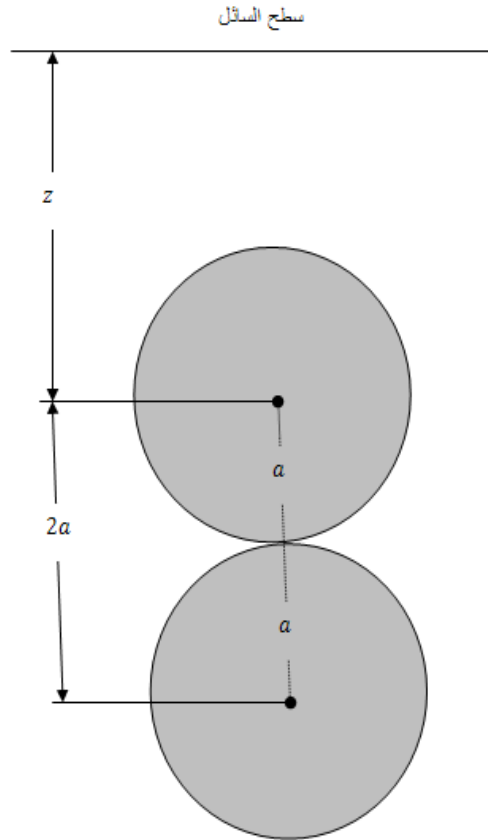
$$W = \frac{4}{3} \pi a^3 \omega$$

حيث  $\omega$  الوزن النوعي للسائل او وزن وحدة الحجم من السائل  
(1)

$$p_1 = \pi a^2 \omega z$$

حيث  $z$  بعد مركز ثقل الصفيحة الدائرية عن سطح السائل وحيث ان

$$P_1 = 2W$$



$$\pi a^3 \omega z = \frac{8}{3} \pi a^3 \omega$$



$$\therefore Z = \frac{8}{3} a \quad (2)$$

وحيث ان

$$P_2 = \pi a^2 \omega (z + 2a) \quad (3)$$

بالتعويض عن  $z$  نجد ان

$$p_2 = \frac{14}{3} \pi a^3 \omega \quad (4)$$

$$p_1 = \frac{8}{3} \pi a^3 \omega \quad (5)$$

بقسمة (5) على (4) نجد ان

$$\frac{p_1}{p_2} = \frac{\frac{8}{3} \pi a^3 \omega}{\frac{14}{3} \pi a^3 \omega} = \frac{4}{7}$$

اي ان

$$p_2 = \frac{7}{4} p_1$$

## مثال (2)

صفحة على شكل مثلث متساوي الاضلاع طول ضلعة  $l$  غمرت الصفحة راسيا في سائل بحيث كان راس المثلث عند سطح السائل وقاعدته المناظرة لهذا الراس افقية . فاذا قسمت الصفحة بمستقيم يوازي القاعدة الى جزئين بحيث كانت نسبة الضغط على الجزء العلوى الى الضغط على الجزء السفلى كنسبة  $\lambda : \mu$  فاثبت ان المستقيم يبعد عن سطح السائل مسافة  $\frac{\sqrt{3}}{2} l \sqrt{\frac{\lambda}{\lambda + \mu}}$  مع إهمال الضغط الجوى .

## الحل

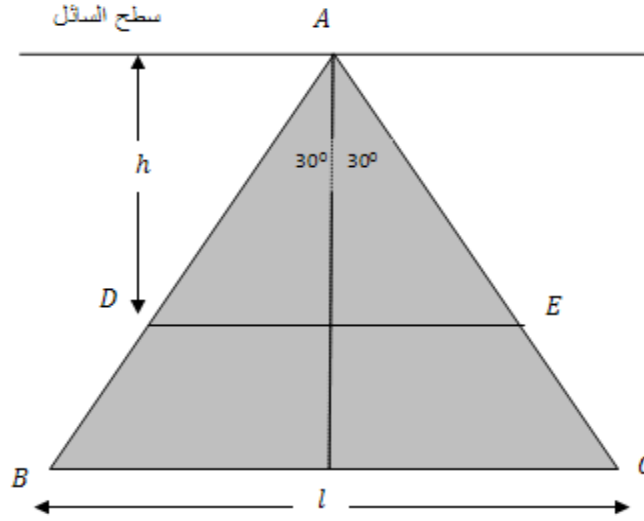
نفرض ان  $p_3, p_2, p_1$  هي الضغوط على المثلث  $ADE$ ، وشبة المنحرف  $BECD$ ، المثلث  $ABC$  على الترتيب (انظر الشكل) وحيث ان

$$\frac{p_1}{p_2} = \frac{\lambda}{\mu} \quad (1)$$

$$\therefore \frac{p_1}{p_1 + p_2} = \frac{\lambda}{\lambda + \mu}$$

اي ان

$$\therefore \frac{p_1}{p_3} = \frac{\lambda}{\lambda + \mu} \quad (2)$$



حيث ان  $p_3, p_1$  يتعينان من

$$p_1 = \left( \frac{1}{2} DEh \right) \left( \frac{2}{3} h \omega \right) \quad (3)$$

$$p_3 = \left( \frac{1}{2} l \frac{\sqrt{3}}{2} l \right) \left( \frac{2}{3} \frac{\sqrt{3}}{2} l \omega \right) \quad (4)$$

حيث  $h$  هو ارتفاع المثلث  $DE$  المناظر للقاعدة  $DE$  بقسمة (3) على (4) نجد ان

$$\frac{p_1}{p_3} = \frac{4DE \cdot h^2}{3l^3} \quad (5)$$

من هندسة الشكل نجد ان

$$DE = 2h \tan 30 = \frac{2h}{\sqrt{3}} \quad (6)$$

$$\frac{p_1}{p_3} = \frac{8h^3}{3\sqrt{3}l^3} \quad (7)$$

من (2)، (7) نحصل على

**مركز الضغط:**

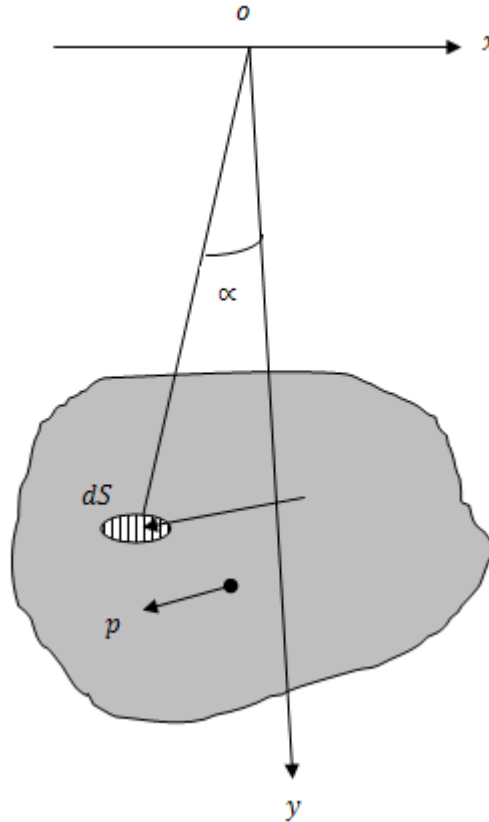
الضغط على اى صفيحة مستوية مغمورة فى سائل هو محصلة ضغوط عمودية متوازية عند كل نقطة من الصفيحة وتؤثر هذه المحصلة فى نقطة تعرف بمركز الضغط.

**لتعين مركز الضغط:**

نفرض ان خط تقاطع صفيحة مستوية مغمورة فى سائل مع سطح السائل هو المحور  $ox$  وان العمودى عليه فى مستوى الصفيحة هو المحور  $oy$  الضغط  $dp$  على عنصر من الصفيحة  $dS$  يتعين من

$$dp = \omega y \cos \alpha ds \quad (5.45)$$

مع إهمال الضغط الجوي وحيث  $\alpha$  زاوية ميل الصفيحة على الرأسى .



الضغط الكلى على الصفيحة  $P$  يساوي

$$\underline{P} = \int dp = \omega \cos \int y dS \quad (5.46)$$

بأخذ العزوم حول المحور  $ox$  فإن

$$Py_p = \int y dp \quad (5.47)$$

حيث  $y_p$  هو الأحداثي  $y$  لمركز الضغط

بالتعويض من (5.54) في (5.47) فإن

$$\begin{aligned} Py_p &= \int y \omega y \cos \alpha dS \\ &= \omega \cos \alpha \int y^2 dS \\ &= \omega \cos \alpha I_x \end{aligned} \quad (5.48)$$

حيث  $I_x$  عزوم القصور الذاتي للصفحة حول المحور  $ox$

$$\begin{aligned} y_p &= \frac{\omega \cos \alpha I_x}{\omega \cos \alpha \int y dS} \\ y_p &= \frac{I_x}{\int y dS} \end{aligned} \quad (5.49)$$

بفرض أن مركز كتلة الصفحة عند  $\bar{x}, \bar{y}$  فإن

$$\bar{y} = \frac{\int y dS}{\int dS} = \frac{\int y dS}{S} \quad (5.50)$$

حيث  $S$  مساحة الصفحة

بالتعويض من (5.50) في (5.49)

$$y_p = \frac{I_x}{y S} \quad (5.51)$$

يمكن كتابة عزم القصور الذاتي  $I_x$  في الصورة

$$I_x = k_x^2 S \quad (5.52)$$

حيث  $k_x$  نصف قطر القصور الذاتي للصفحة حول المحور  $ox$

من (5.51), (5.52) نحصل علي

$$y_p = \frac{k_x^2}{y} \quad (5.53)$$

باستخدام نظرية المحاور المتوازية لعزم القصور الذاتي فإن

$$k_x^2 = k_x'^2 + d^2 \quad (5.54)$$

حيث  $k_x$  نصف قطر القصور الذاتي حول محور موازى للمحور  $ox$  ومار بمركز الكتلة ،  $d$  المسافة بين المحورين المتوازيين فى هذه الحالة  $d = \bar{y}$  ونجد ان

$$y_p = \frac{k_x'^2 + \bar{y}^2}{\bar{y}}$$

$$y_p = \bar{y} + \frac{k_x'^2}{\bar{y}} \quad (5.55)$$

اى ان

$$y_p - \bar{y} = \frac{k_x'^2}{\bar{y}}$$

اى ان مركز الضغط يقع اسفل مركز الكتلة و نلاحظ ما يلى

1- مركز الضغط لا يتوقف مكانه على الزاوية  $\alpha$  وهذا يعنى ان هذا المركز لن يتغير اذا دار السطح حول خط تقاطعة مع السطح الحر

2- مركز الضغط يقع على المحور الرئيسى لقصور السطح المغمور العمودى على خط التقاطع اسفل مركز

$$\text{الثقل بمسافة } \frac{k_1^2}{\bar{y}}$$

3- اذا كانت  $\alpha = 0$  بحيث يكون السطح المغمور مواز للسطح الحر فان مركز الضغط ينطبق على مركز الثقل اذ ان شدة الضغط فى هذه الحالة تكون واحدة عند جميع النقط المساحة المغمورة.

## أمثلة:-

### مثال(1):-

صفيحة على شكل قطع ناقص مغمورة فى سائل ومحورها الاكبر راسيا ونهاية المحور الاكبر عن

السطح السائل فاذا انطبق مركز الضغط على البؤرة. اثبت ان الاختلاف المركزى للقطع يساوى  $\frac{1}{4}$ .

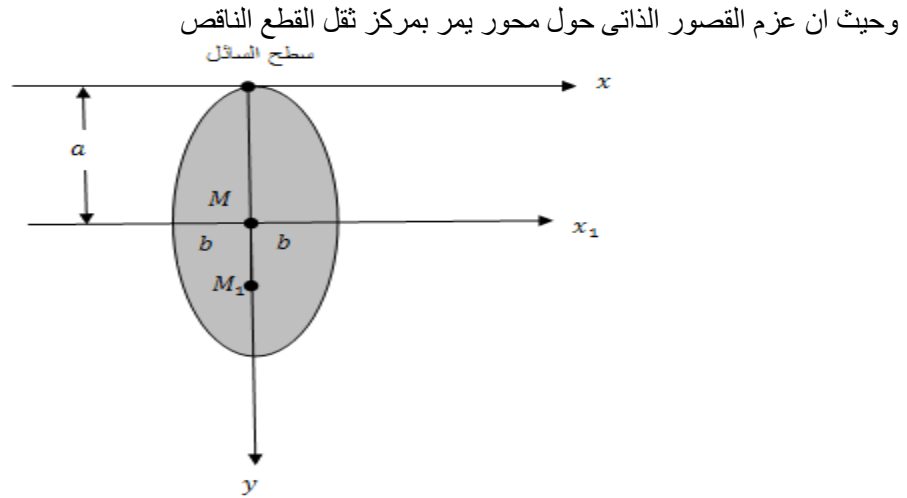
## الحل

نفرض ان

$$M_1, M$$

هما مركز الكتلة ومركز الضغط على الترتيب حيث ان

$$M_1 M = \frac{k_1^2}{y} \quad (1)$$



$$I_{x'} = \frac{1}{4} a^2 S$$

$$\therefore k_1^2 = \frac{1}{4} a^2 \quad (2)$$

$$\bar{y} = a \quad (3)$$

$$MM_1 = \frac{\frac{1}{4} a^2}{a} = \frac{a}{4}$$

$$MM_1 = ae$$

$$\therefore ae = \frac{1}{4} a$$

$$\therefore e = \frac{1}{4}$$

لكن من خواص القطع الناقص نعلم ان

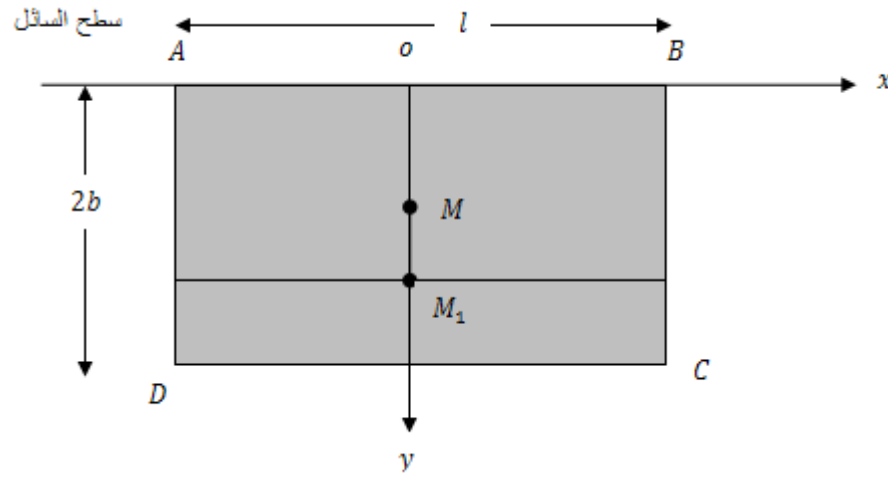
حيث  $e$  الاختلاف المركزي الناقص

**مثال (2):**

مسطيل مغمور في سائل واحد اضلاعة عند سطح السائل. اثبت ان الخط الافقى المار بمركز الضغط يقسم المستطيل الى جزئين الضغط عليهما يكون بنسبة 4 : 5 مع إهمال الضغط الجوى.

**الحل**

نفرض ان المستطيل ابعاده هما  $2b, l$  اي ان  $AB = l, BC = 2b$ .



بفرض ان مركز الضغط عند  $M_1$  ومركز الكتلة عند  $M$ . وبفرض ان  $FE$  هو الخط الافقى المار بمركز الضغط  $M_1$ .

عزم القصور الذاتى للمستطيل  $ABCD$  حول محور يوازي المحور  $ox$  ويمر بمركز كتلة  $M$  يساوى  $\frac{1}{3}mb^2$  حيث  $m$  كتلة المستطيل

$$\therefore k_1^2 = \frac{1}{3}b^2$$

$$\therefore MM_1 = \frac{k_1^2}{y_c} = \frac{\frac{1}{3}b^2}{b} = \frac{1}{3}b$$

وحيث ان  $p_1, p_2$  هما الضغطين على الجزئين (المستطيلين)  $ABEF, FECD$  على الترتيب

$$\therefore p_1 = \omega zS$$

$$p_1 = \left( l \cdot \frac{4}{3} b \right) \left( \frac{2}{3} b \right) \omega \quad (1)$$

$$p_2 = \left( l \cdot \frac{2}{3} b \right) \left( \frac{5}{3} b \right) \omega \quad (2)$$

بقسمة (1) على (2) نحصل على

$$\frac{p_1}{p_2} = \frac{4}{5}$$

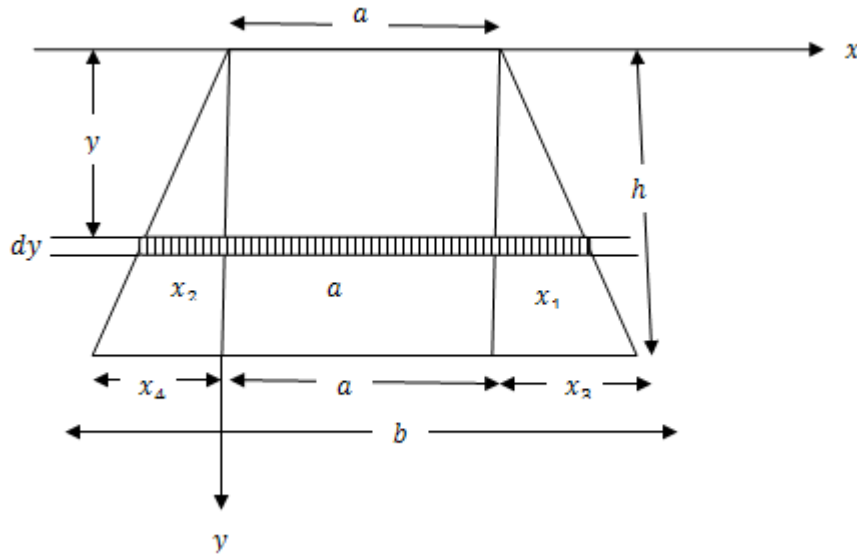
### مثال (3):

غمرت صفيحة راسيا على شكل شبة منحرف في سائل بحيث كان احد الضلعين المتوازيين الذي طوله  $a$  عند سطح السائل وكان طول الضلع الاخر  $b$  والمسافة بينهما  $h$ .

إثبت ان مركز الضغط يقع على عمق يساوى  $\frac{a+3b}{2(a+2b)}h$  من سطح السائل.

### الحل

مركز الضغط يقع على عمق  $y_p$  من سطح السائل حيث



$$y_p = \frac{\int y^2 dS}{\int y dS}$$



طول العنصر الذي على عمق  $y$  من سطح السائل يساوى  $x_1 + x_2 + a$  وسمكة  $dy$  واضح من الشكل ان

$$\frac{x_1}{x_3} = \frac{y}{h}, \frac{x_2}{x_4} = \frac{y}{h}$$

$$\begin{aligned} \therefore (x_1 + x_2) &= \frac{y}{h}(x_3 + x_4) \\ &= \frac{y}{h}(b - a) \end{aligned}$$

وتكون مساحة العنصر  $ds$  تساوى

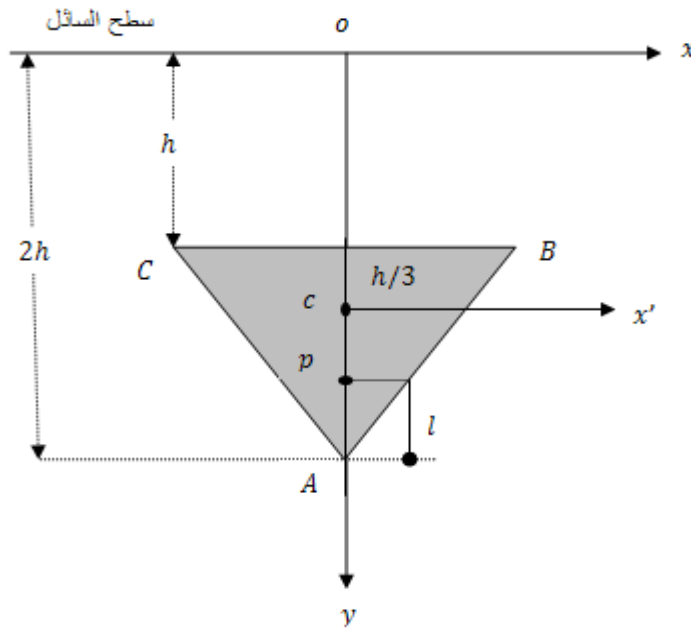
$$\begin{aligned} &\left[ a + \frac{y}{h}(b - a) \right] dy \\ \therefore y_p &= \frac{\int_0^h y^2 \left[ a + \frac{y}{h}(b - a) \right] dy}{\int_0^h y \left[ a + \frac{(b - a)}{h} y \right] dy} \\ &= \frac{\left[ \frac{ay^3}{3} + \frac{y^4}{4h}(b - a) \right]_0^h}{\left[ \frac{ay^2}{2} + \frac{b - a}{h} \frac{y^3}{3} \right]_0^h} \\ &= \frac{\frac{ah^3}{3} + \frac{b - a}{h} \frac{h^4}{4}}{\frac{ah^2}{2} + \frac{b - a}{h} \frac{h^3}{3}} \\ y_p &= \frac{a + 3b}{2(a + 2b)} h. \end{aligned}$$

#### مثال (4):

صفحة مستوية على شكل مثلث  $ABC$  فية  $AB = AC$  وارتفاعه من  $A$  هو  $h$ . فاذا غمرت هذه الصفحة راسيا في سائل بحيث كان  $A$  على عمق  $2h$  من سطح السائل فاثبت ان الفرق بين بعدى مركزى الضغط عند  $A$  في الحالتين التي يكون فيها  $BC$  افقيا فوق  $A$  او افقيا اسفل  $A$  يساوى  $\frac{h}{16}$ .

الحل

باخذ المحورين  $ox, oy$  كما بالشكلين، فان من الواضح ان محور  $oy$  في كلا الحالتين يمر بمركز ثقل الصفيحة. لذا فانه في كلا الحالتين  $x_p = 0$  نوجد الان  $y_p$  في كلا الحالتين



(أ) عندما يكون  $BC$  فوق  $A$  فان

$$y_p = \frac{I_x}{y S} \quad (1)$$

من الواضح ان

$$\bar{y} = \frac{4}{3} h \quad (2)$$

كما انه باستخدام نظرية المحاور المتوازية نجد ان

$$I_x = I_{x'} + S \left( \frac{h}{3} + h \right)^2$$

$$= \frac{1}{18} Sh^2 + S \left( \frac{16}{9} h^2 \right)$$

$$= \frac{11}{6} Sh^2$$

بالتعويض من (2)، (3) في (1) نحصل على

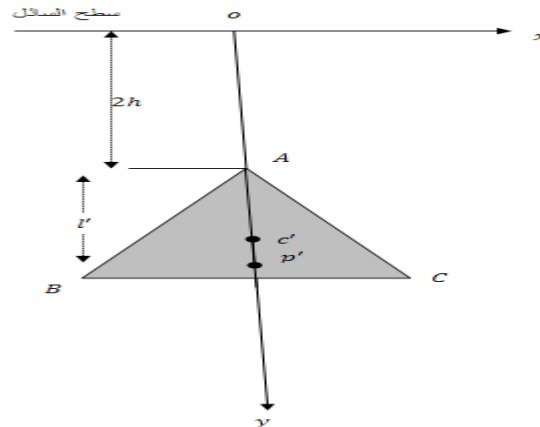
$$y_p = \frac{\frac{11}{6} Sh^2}{\frac{4}{3} Sh} = \frac{11}{6} \times \frac{3}{4} h$$

$$y_p = \frac{11}{8} h \quad (4)$$

وبالتالي فإن مركز الضغط يبعد عن  $A$  مسافة  $l$  حيث

$$l = 2h - \frac{11}{8} h = \frac{5}{8} h \quad (5)$$

(ب) عندما يكون  $BC$  أسفل  $A$  فإن



$$y'_p = \frac{I'_x}{S y'} \quad (6)$$

ولكن من الواضح ان

$$\bar{y}' = 2h + \frac{2}{3}h$$

$$\bar{y}' = \frac{8}{3}h \quad (7)$$

وباستخدام نظرية المحاور المتوازية نجد ان

$$I_x^1 = \frac{1}{18}Sh^2 + \left(\frac{8}{3}h\right)^2 S \quad (8)$$

$$= \frac{43}{6}Sh^2$$

بالتعويض من (7)، (8) في (6) نجد ان

$$y'_p = \frac{43}{16}h \quad (9)$$

وبالتالي فان الضغط يبعد عن A مسافة l' حيث

$$l' = \frac{43}{16}h - 2h = \frac{11}{16}h \quad (10)$$

∴ الفرق بين بعدى مركزى الضغط عن A فى الحالتين يكون مساويا

$$l' - l = \frac{11}{16}h - \frac{5}{8}h = \frac{h}{16}. \quad (11)$$

### مثال (5):

إذا غمرت صفيحة مستوية على شكل مربع ABCD فى سائل بحيث كان الراس A عند سطح السائل والقطر BD أفقيا ، فاثبت ان مركز الضغط يقع على القطر AC وبقسمة بنسبة 5 : 7 .

### الحل

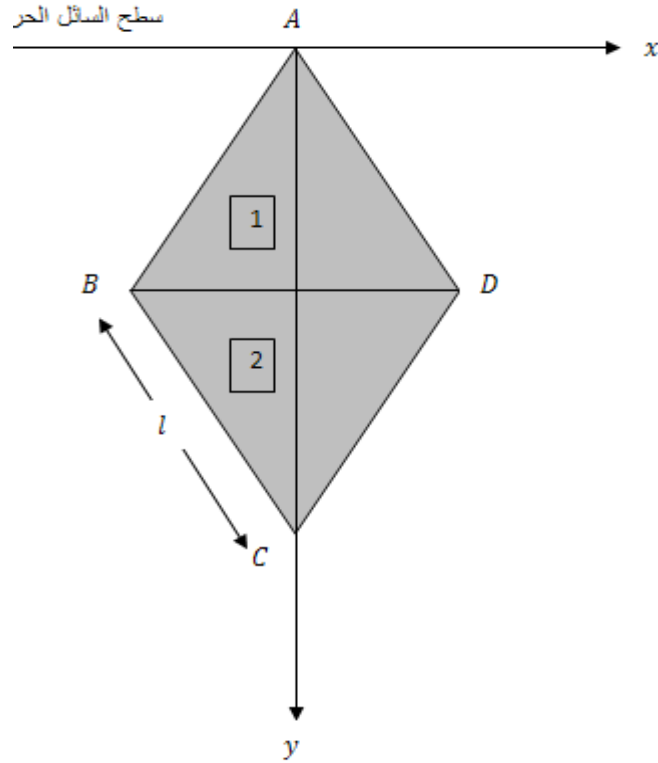
باخذ المحاور كما بالشكل فانه من الواضح ان المحور oy يمر بمركز ثقل الصفيحة، لذا فان إحداثيات مركز النقل

$$\bar{y} = ? \quad \bar{x} = 0 \quad \text{واضح ان}$$

$$\bar{y} = \sqrt{2}l \quad (1)$$

حيث l طول ضلع المربع .

$$y_p = \frac{I_x}{S y} \quad (2)$$



نوجد  $I_x$  لذلك سوف نعتبر الصفيحة مكونة من المثلثين  $ABD$ ,  $BDC$ .  
بالنسبة للمثلث  $ABD$  نعلم ان

$$I_x^{(1)} = \frac{1}{2} \left( \frac{S}{2} \right) \left( \frac{l}{\sqrt{2}} \right)^2$$

$$I_x^{(1)} = \frac{1}{8} S l^2 \quad (3)$$

حيث  $S$  مساحة المربع .

وبالنسبة للمثلث BDE فانه من نظرية المحاور المتوازية

$$I_x^{(2)} = \frac{1}{18} \left( \frac{S}{2} \right) \left( \frac{l}{\sqrt{2}} \right)^2 + S/2 \left( \frac{l}{\sqrt{2}} + \frac{1}{3} \frac{l}{\sqrt{2}} \right)^2$$

$$= \frac{11}{24} Sl^2 \quad (4)$$

وحيث ان

$$I_x = I_x^{(1)} + I_x^{(2)}$$

$$= \frac{1}{8} Sl^2 + \frac{11}{24} Sl^2 = \frac{7}{12} Sl^2 \quad (5)$$

والان بالتعويض من (1)، (5) في (2) ينتج ان

$$y_p = \frac{7}{6\sqrt{2}} l \quad (6)$$

وبالتالى يكون

$$AC - y_p = \frac{2l}{\sqrt{2}} - \frac{7}{6\sqrt{2}} l = \frac{5l}{6\sqrt{2}} \quad (7)$$

لذا فان

$$\frac{y_p}{AC - y_p} = \frac{7}{5}$$

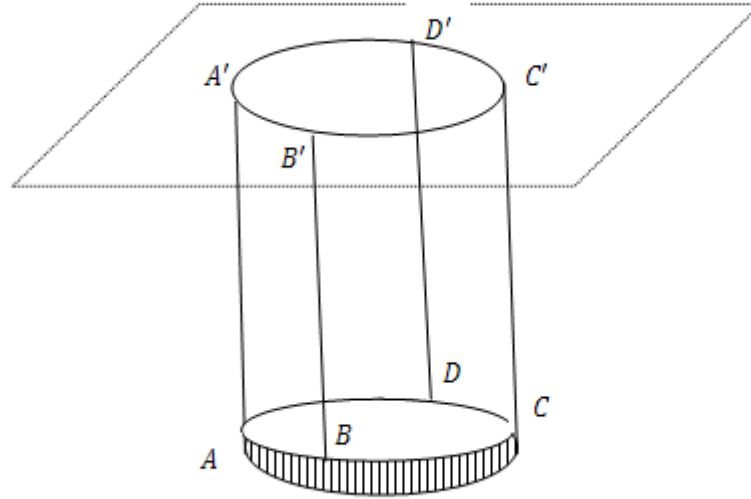
## الضغط الكلي على السطوح المنحنية المغمورة في سائل ما:

إذا لم يكن السطح المغمور في السائل مستويًا فإن الضغوط عند نقاطه المختلفة لن تكون متوازية ، وبالتالي فإن الضغط المحصل سيكون محصلة القوى غير متوازية . لذا فإننا نوجد مركبات هذا الضغط المحصل في اتجاه ثلاث محاور متعامدة أحدهما رأسي . أي أن الضغط المحصل هو محصلة للقوى الثلاث المتعامدة الآتية :

### 1- ضغط محصل رأسي :

لإيجاد نسقط أعمدة من نقاط السطح المنحني المغمورة  $ABCD$  على مستوى سطح السائل فنرسم هذه الأعمدة منحني  $A'B'C'D'$  على سطح السائل . من دراسة إتزان أسطوانة ذات المقطع العمودي  $A'B'C'D'$  والتي يحدها من أعلى سطح السائل ومن أسفل السطح المعطى نجد أن وزن أسطوانة السائل هذه يجب أن يتعادل مع محصلة الضغط على السطح المنحني في الاتجاه الرأسي .

أي أن المركبة الرأسية للضغط المحصل = وزن عمود السائل المقام على هذا السطح ويمر بمركز ثقل هذا العمود من السائل



### 2- ضغط محصل في اتجاه أفقي:

لإيجاد نسقط السطح المنحني المعطى على مستوي رأسي بواسطة خطوط أفقية فنحصل على منحنى ما  $A'B'C'D'$  من إتزان أسطوانة المشكلة من الخطوط الأفقية نجد أن محصلة الضغط على السطح المنحني في اتجاه الخطوط الأفقية يجب أن يتعادل مع الضغط الأفقي على المساحة المستوية الرأسية  $A'B'C'D'$  .

أي ان مركبة الضغط المحصل في اتجاه افقي ما = محصلة الضغط علي مسقط السطح المنحني المعطى علي مستوى راسي عمودي علي هذا الاتجاه الافقي وتؤثر في مركز ضغط هذا المسقط .

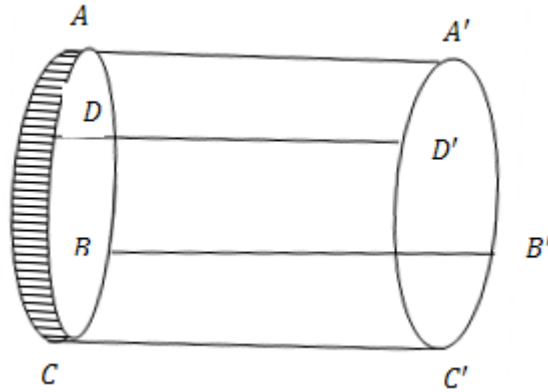
#### 4. ضغط محصل في اتجاه افقي عمودي على الاتجاه السابق :

ويمكن ايجاده بنفس الطريقة التي اوجدنا بها الضغط الافقي المحصل السابق .

#### الضغط المحصل على السطوح المقفلة ( قاعدة ارشميدس ) . مركز الطفو

تنص قاعدة ارشميدس على انه اذا غمر جسم في سائل ساكن فانه يعاني ضغطا من اسفل

الى اعلى مقداره يساوي وزن السائل المزاح وخط عمله يمر بمركز ثقل السائل المزاح .



ولاثبات ذلك نفترض ان الحيز الذي يشغله الجسم قد شغل بحجم مماثل من السائل . هذا الحجم من السائل يكون متزنا تحت تأثير وزنة لاسفل ومحصلة الضغوط من السائل الخارجى . اي ان المركبة الراسية لمحصلة الضغوط تساوى في المقدار وزن السائل المزاح وتؤثر في الاتجاه من اسفل لاعلى (عكس اتجاه وزن السائل المزاح) . من هذا نستنتج انه اذا طفا الجسم فوق سائل وكان الجسم في حالة سكون فانه وزن السائل المزاح يساوى الوزن الكلى للجسم ويقع مركز السائل المزاح ( الذي يسمى مركز الطفو ) علي الخط الراسي المار بمركز ثقل الجسم .

#### امثلة :-

#### مثال (1) :-

اذا كان عمق الماء على جانبي بوابة هاويس هو  $h_2, h_1$  حيث  $h_1 > h_2$  فاثبت ان الضغط المحصل على

جانبي هذه البوابة يساوى  $\frac{1}{2} \omega a (h_1^2 - h_2^2)$  . حيث  $\omega$  هو الوزن النوعي للماء ،  $a$  عرض البوابة .

اثبت كذلك ان نقطة تأثير الضغط المحصل تقع على عمق  $c$  من السطح المتوسط حيث



$$c = \frac{h_2^1 + h_2^2 + 4h_1h_2}{6(h_1 + h_2)}$$

### الحل

باخذ مقطع راسى عمودى على البوابة ومار بمركز ثقلها ، فننا نحصل على الشكل المبين حيث  $AB$  البوابة ،  $D, E$  سطح الماء على جانبيها .

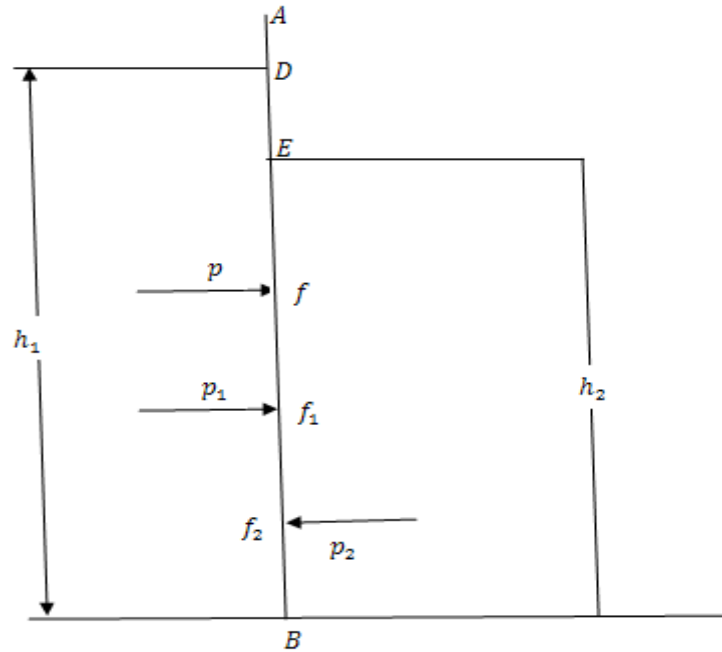
فاذا فرض ان الضغط على  $BD$  هو  $p_1$  والضغط على  $BE$  هو  $p_2$

$$p_1 = \omega \bar{Z}S$$

وباهمال الضغط الجوى

$$\bar{Z} = \frac{1}{2} h_1$$

$$S = ah_1$$



$$\therefore p_1 = \omega ah_1 \left( \frac{1}{2} h_1 \right)$$

$$p_1 = \frac{1}{2} a \omega h_1^2 \quad (1)$$

وبالمثل

$$p_2 = \frac{1}{2} a \omega h_2^2 \quad (2)$$

ويكون الضغط المحصل

$$\begin{aligned} p &= p_1 - p_2 \\ &= \frac{1}{2} \omega a (h_1^2 - h_2^2) \end{aligned} \quad (3)$$

بفرض ان  $f_1, f_2$  هما نقطتي تأثير  $p_1, p_2$  على الترتيب

$$\begin{aligned} \therefore DF_1 &= \frac{Ix}{Sy} = \frac{Sk_x^2}{s y} \\ &= \frac{\frac{4}{3} \left( \frac{1}{2} h_1 \right)^2}{\frac{1}{2} h_1} = \frac{2}{3} h_1 \end{aligned} \quad (4)$$

وبالمثل

$$\therefore DF_2 = \frac{\frac{4}{3} \left( \frac{1}{2} h_2 \right)^2}{\frac{1}{2} h_2} = \frac{2}{3} h_2$$

وبالتالي فان

$$\therefore BF_1 = \frac{h_1}{3}, \quad BF_2 = \frac{h_2}{3} \quad (5)$$

لايجاد نقطة تأثير  $F$  للضغط المحصل  $p$  نأخذ العزوم حول  $B$  فيكون

$$\begin{aligned} p_x BF &= p_1 x BF_1 - p_2 x BF_2 \\ \therefore BF &= \frac{\frac{1}{2} \omega a h_1^2 x \frac{1}{3} h_1 - \frac{1}{2} \omega a h_2^2 x \frac{1}{3} h_2}{\frac{1}{2} \omega a (h_1^2 - h_2^2)} \\ &= \frac{h_1^3 - h_2^3}{3(h_1^2 - h_2^2)} = \frac{(h_1 - h_2)(h_1^2 + h_1 h_2 + h_2^2)}{3(h_1 - h_2)(h_1 + h_2)} \end{aligned}$$

$$= \frac{h_1^2 + h_1 h_2 + h_2^2}{3(h_1 + h_2)}$$

$$\therefore C = \frac{h_1 + h_2}{2} - \frac{h_1^2 2h_1 h_2 + h_2^2}{3(h_1 + h_2)}$$

$$= \frac{3(h_1^2 2h_1 h_2 + h_2^2) - h_1^2 2h_1 h_2 + 2h_2^2}{6(h_1 + h_2)}$$

$$\therefore C = \frac{h_1^2 2h_1 h_2 + h_2^2}{6(h_1 + h_2)}$$

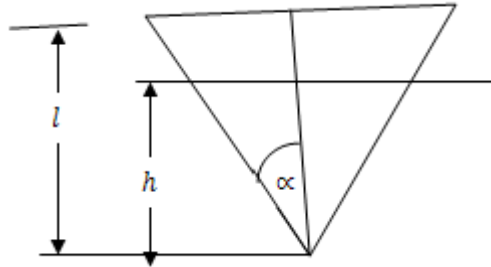
### مثال (2):

يطفو اناء مخروطي في الماء بحيث كان محوره رأسيا وراسه الى اسفل وجزء  $h$  من المحور مغمور في الماء. اذا سكب ماء داخل المخروط حتى اصبح ارتفاعه  $h$  فان الاناء يغوص حتى تصبح فوهته عند سطح السائل. اثبت ان  $h = \frac{l}{\sqrt[3]{2}}$  حيث  $l$  ارتفاع المخروط.

### الحل

في الحالة الاولى :

المخروط يتزن تحت تأثير وزنه  $w$  رأسيا إلى اسفل ودفع السائل رأسيا إلى اعلي والذي يساوي وزن السائل المزاح حسب قاعدة ارشميدس .



$$\therefore W = v_1 \sigma \quad (1)$$

حيث  $\sigma$  كثافة الماء ،  $v_1$  حجم المخروط (الجزء المغمور) الذي ارتفاعه  $h$

في الحالة الثانية:

عند إضافة ماء وزنه  $W$  لان ارتفاع الماء داخل الاناء ارتفاعه  $(h)$  فإن من الاتزان يكون مجموع وزني المخروط والماء المسكوب داخلة والمؤثر رأسيا لاسفل مساويا دفع الماء لاعلي والمؤثر رأسيا لاعلي

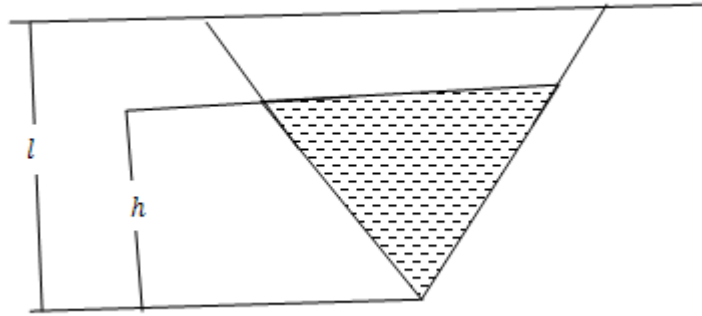
$$W + W = v_2 \sigma \quad (2)$$

حيث  $v_2$  هو حجم المخروط الذي ارتفاعه  $l$ .  
بقسمة (1) على (2) نحصل على

$$\frac{1}{2} = \frac{V_1}{V_2} \quad (3)$$

حيث أن

$$\frac{V_1}{V_2} = \frac{h^3}{l^3} \quad (4)$$



من (3)، (4) نجد أن

$$\frac{h^3}{l^3} = \frac{1}{2}$$

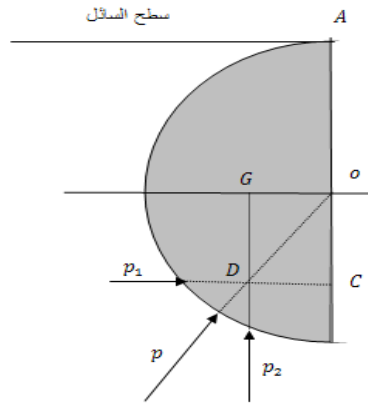
$$\therefore h = \frac{l}{\sqrt[3]{2}}$$

### مثال (3):

أوجد مقدار واتجاه الضغط المحصل على السطح المنحني لنصف كره مصمته نصف قطرها  $a$  مغموره في سائل وزنة النوعي  $w$  بحيث تكون قاعدتها المستوية رأسياً ومركز هذه القاعدة على عمق  $a$  من سطح السائل.

### الحل

لنأخذ مقطعاً رأسياً في مستوى عمودي على القاعدة المستوية وماراً بمركزها فنحصل على الشكل المبين .



الضغط المحصل  $p$  على السطح المنحني ينشأ من

1- ضغط محصل افقى  $p_1$  يتعادل مع الضغط الافقى الواقع على القاعدة المستوية ، من هذا يتضح ان

$$p_1 = \omega z s$$

وذلك باهمال الضغط الجوى

$$p_1 = \omega \pi a^2 (a)$$

$$= \omega \pi a^3$$

(1)

وخط عمل  $p_1$  افقى يقطع القاعدة المستوية فى مركز الضغط لها  $c$  ، اى ان

$$oc = \frac{\frac{1}{4} a^2}{a} = \frac{1}{4} a.$$

(2)

2- ضغط محصل رأسى  $p_2$  يتعادل مع وزن السائل المزاح بنصف الكرة اى ان:

$$p_2 = \frac{2}{3} \pi a^3 \omega$$

(3)

وخط عمل رأسى يمر بمركز ثقل نصف الكرة  $G$  اى ان

$$oG = \frac{3}{8} a.$$

ومن هذا يتضح ان

$$p = \sqrt{p_1^2 + p_2^2}$$

$$= \sqrt{(\pi a^3 \omega)^2 + \left(\frac{2}{3} \pi a^3 \omega\right)^2}$$

$$p = \pi a^3 \omega \sqrt{1 + \frac{4}{9}} = \frac{\sqrt{B}}{3} \pi a^3 \omega \quad (5)$$

ويميل على  $p_2$  بزاوية  $\alpha$  حيث

$$\begin{aligned} \tan \alpha &= \frac{P_1}{P_2} \\ &= \frac{\pi a^3 \omega}{\frac{2}{3} \pi a^3 \omega} = \frac{3}{2} = \frac{Go}{oc} \end{aligned}$$

اي ان  $p$  يمر بمركز الكرة  $o$ .

#### مثال (4):

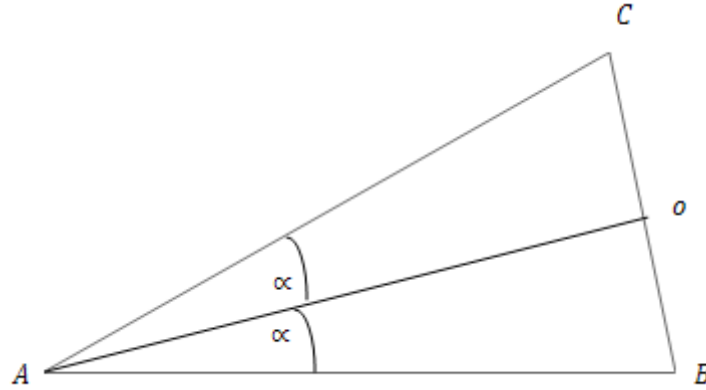
وضع مخروط دائري قائم زاوية رأسه  $\alpha$  بحيث كان اسفل رأسه أفقيا فإذا كان المخروط مفرغا ومهمل الوزن ومملوء بسائل فاثبت ان الضغط المحصل على سطحه المنحني يساوي  $\sqrt{1 + 15 \sin^2 \alpha}$  من المرات من وزن السائل .

#### الحل

لنأخذ مقطعا راسيا مارا بمركز القاعدة المستوية  $o$  فنحصل على الشكل المبين .  
 بفرض ان نصف قطر قاعدة المخروط هو  $a$  وارتفاعه  $h$  وان  $\omega$  هو الوزن النوعي للسائل . نجد ان عمق  $o$  اسفل  $c$  يساوي  $a \cos \alpha$  وبالتالي فان الضغط المحصل على القاعدة المستوية هو  $p$  حيث

$$p = \pi a^2 .a \omega \cos \alpha = \pi a^2 \omega \cos \alpha \quad (1)$$

ويؤثر عموديا على هذه القاعدة .



الضغط المحصل  $p^1$  على السطح المنحني له مركبتان احدهما افقية  $p_1^1$  وتتعاقد مع المركبة الافقية ل  $p$  ، اى ان

$$p_1^1 = p \cos \alpha = \pi a^3 \omega \cos^2 \alpha \quad (2)$$

والاخرى  $p_2^1$  راسية وتتعاقد مع وزن السائل والمركبة الراسية ل  $p$  ، اى ان

$$p_2^1 = \frac{1}{13} \pi a^2 h \omega + \pi a^3 \omega \cos \alpha \sin \alpha \quad (3)$$

وبالتالى فان الضغط المحصل  $p^1$  على السطح المنحني يساوى

$$p^1 = \sqrt{p_1^1 + p_2^1}$$

$$p^1 = \pi a^3 \omega \left[ \cos^4 \alpha + \left( \frac{1}{3} \cot \alpha + \sin \alpha \cos \alpha \right)^2 \right]^{\frac{1}{2}}$$

$$= \cot \alpha \frac{1}{3} \pi a^3 \omega \left[ 9 \sin^2 \alpha \cos^2 \alpha + (1 + 3 \sin^2 \alpha)^2 \right]^{\frac{1}{2}}$$

$$= \frac{1}{3} \pi a^3 \omega \cot \alpha \left[ 9 \sin^2 \alpha \cos^2 \alpha + 1 + 6 \sin^2 \alpha + 9 \sin^4 \alpha \right]^{\frac{1}{2}}$$

$$= \frac{1}{3} \pi a^3 \omega \cot \alpha \sqrt{1 + 15 \sin^2 \alpha}$$

$$p^1 = W \sqrt{1 + 15 \sin^2 \alpha} \quad (4)$$

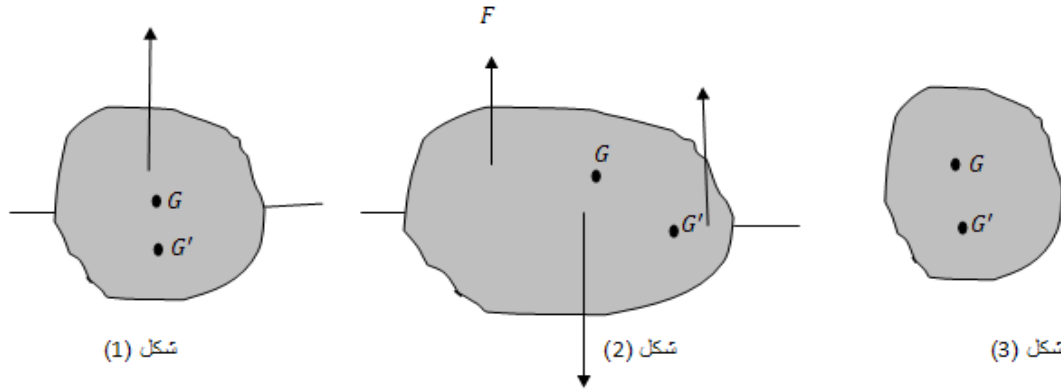
حيث

$$W = \frac{1}{3} \pi a^3 \omega \cot \alpha$$

$$= \frac{1}{3} \pi a^3 h \omega. \quad (5)$$

$w$  هو وزن السائل

### إتزان الاجسام فى السوائل:



عندما يتزن جسم فى سائل سواء كان مغمورا فيه او طافيا فان القوى المؤثرة عليه هي وزن الجسم وتؤثر عند مركز ثقله  $G$  ومحصلة الضغط السائل عليه وتؤثر عند مركز ثقل السائل المزاح بالاضافة الى ايه قوة خارجية اخرى تكون موجودة .

ولما كانت القوة الاولى والثانية رأسيتين فان نتيجة للاتزان يتحتم ان تكون محصلة القوى الخارجية  $F$  رأسية هي الاخرى وهذا عادة ينتج للجسم وضعين للاتزان . فى احدهما تكون القوى الثلاثة على خط رأسى واحد اى ان  $GG'$  رأسى (شكل (1)) وفى الاخر تكون القوى الثلاث غير منطبقة اى ان  $GG'$  مائل على الرأسى (شكل (2)) ومن الواضح إنه فى حالة عدم وجود قوى خارجية غير الوزن ( $F = 0$ ) لا يتزن الجسم الا فى الواضح الاول (شكل (3))

### امثلة :-

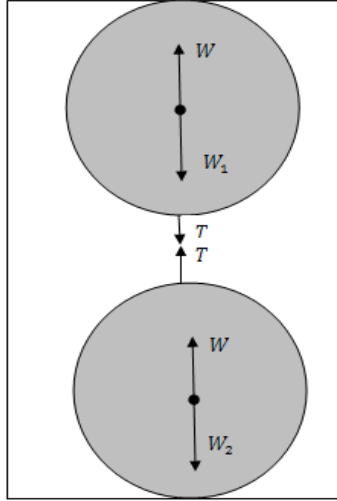
#### مثال(1):-

كرة نصف قطرها  $\frac{1}{2} ft$  وكثافتها النوعية  $\frac{3}{2}$  يربطها خيط خفيف الى كرة اخرى نصف قطرها  $\frac{1}{2} ft$  وكثافتها النوعية  $\frac{2}{3}$  . تركت الكرتان وهما مغمورتان فى خزان عميق للمياه . اثبت انه فى وضع الاتزان ترتكز الكرة الاولى على قاع الخزان. ثم احسب الشد فى الخيط فى هذا الموضع.



الحل

نعتبر أول الكرتين معا . القوى المؤثرة عليهما هي



(أ) وزن الكرة الاولى

$$W_1 = \frac{4}{3} \pi a^3 - \frac{3}{2} \int g \quad (1)$$

كثافة الماء  $gl$  عجلة الجاذبية الارضية .

(ب) وزن الكرة الثانية

$$W_2 = \frac{4}{3} \pi a^3 - \frac{3}{2} \int g \quad (2)$$

(ج) محصلة ضغط الماء  $W$  وهو واحد على الكرتين لتساوى حجمها .

$$W = \frac{4}{3} \pi a^3 \int g \quad (3)$$

$$W_1 + W_2 = \frac{4}{3} \pi a^3 \cdot \frac{13}{6} \int g$$

$$W_1 + W_2 > 2W \quad (4)$$

∴ تهبط الكرتان حتى تتركز الاولى على قاع الخزان وعند الاتزان تكون الكرة الثانية فوقها. نعتبر اوزان الكرة العليا المؤثرة عليها  $W_1, W_2$  وتمران بمركز الكرة والشد في الخيط  $T$ .  
∴ الخيط في وضع الاتزان راسي مارا بمركز الكرتين.  
معادلة الاتزان تعطى من

$$T = W - W_2 = \frac{4}{3}\pi a^3 \frac{1}{3} \int g \quad (5)$$

$$T = \frac{4}{3}\pi \cdot \frac{1}{8} \cdot \frac{1}{3} \cdot \frac{125}{2} g \text{ poundals}$$

$$T = \frac{125}{36}\pi \text{ Ib.wt}$$

### مثال (2):-

صفحة منتظمة سمكية على شكل مستطيل  $ABCD$  يمكنها التحرك بسهولة في مستوى راسي محور افقى مثبت عند الراس  $A$ . اذا اتزنت الصفحة ونصفها الاسفل  $BCD$  مغمور في ماء. اثبت ان كثافتها النوعية  $\frac{2}{3}$ .

### الحل

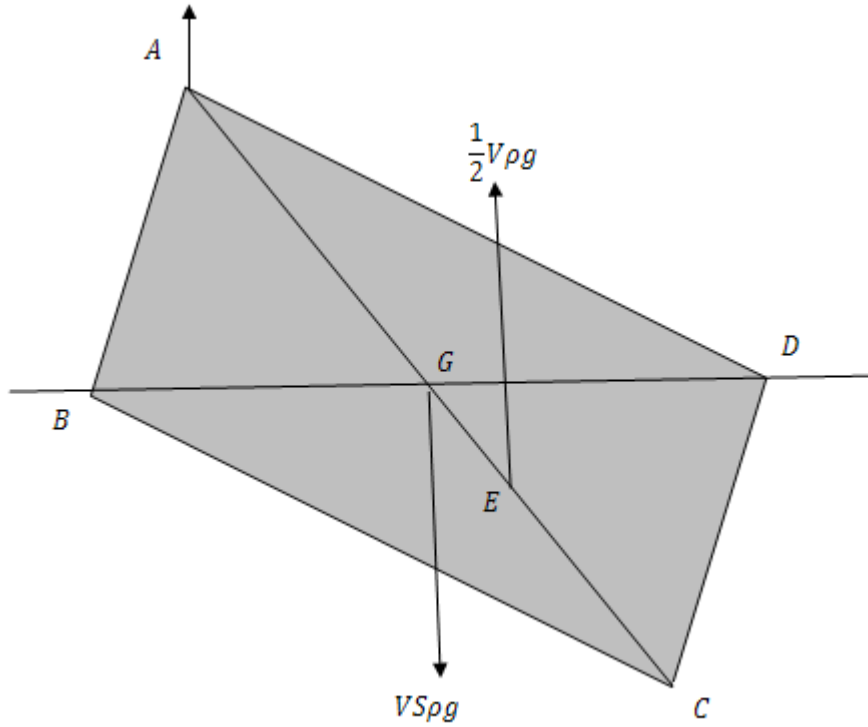
نفرض ان كثافة الماء النوعية  $p$  والكثافة النوعية للصفحة  $S$  وحجمها  $V$  والقوى المؤثرة على الصفحة هي (أ) وزنها  $VSp_g$  وتؤثر عند مركز ثقل الصفحة  $G$  رأسيا الى اسفل.

(ب) محصلة الضغط الماء  $\frac{1}{2}Vpg$  ويؤثر عند  $E$  راسيا الى اعلى حيث  $GE = \frac{1}{3}Gc$ .

(ت) رد الفعل عند  $A$  وهذا من شرط الاتزان راسي الى اعلى باخذ العزوم حول  $A$  ينتج ان

$$VSp_g \cdot AG = \frac{1}{2}Vpg \cdot AE = \frac{1}{2}pg \cdot \frac{4}{3}AG$$

$$\therefore S = 2/3$$



### استقرار الاجسام الطافية :

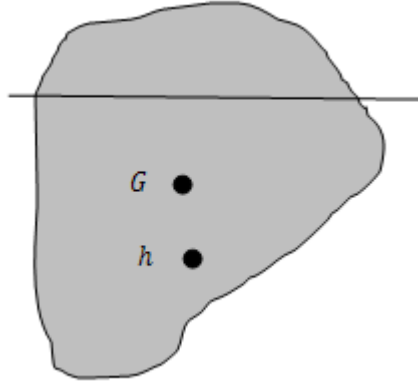
اذا طفا جسم في سائل فانه يقع تحت تاثير

(أ) وزنه ويمر بمركز ثقله  $G$ .

(ب) محصلة ضغط السائل وهي قوة رأسية الى اعلى تساوى وزن السائل المزاح وتمر بمركز ثقله  $H$ .

والجسم يتزن في وضع تكون فيه هاتان القوتان متساويتين وتقع  $G$  ،  $H$  على خط راسي واحد . نعرف  $H$

بمركز الطفو (التعويم) أما مقطع الجسم بواسطة مستوى سطح السائل فيعرف بمستوى الطفو .



وفيما يلي سوف نتعرض لدراسة استقرار هذا الاتزان والمقصود بالاستقرار ان الجسم يعود نحو موضع اتزانة اذا اعطى ازاحة صغيرة من هذا الموضع .  
باتخاذ مركز ثقل مستوى الطفو  $o$  كنقطة اساس فان اية ازاحة تعطى للجسم يمكن اعتبارها مكونة من ازاحتين احدهما انتقالية مع  $o$  والاخرى دورانية حول محور عند  $o$  ولما كانت هذه الازاحات صغيرة فانه يمكن دراسة الاستقرار لكل ازاحة على حده.

### استقرار الاتزان للازاحات الانتقالية:-

اية ازاحة انتقالية يمكن تحليلها الى ازاحتين احدهما أفقية والاخرى راسية

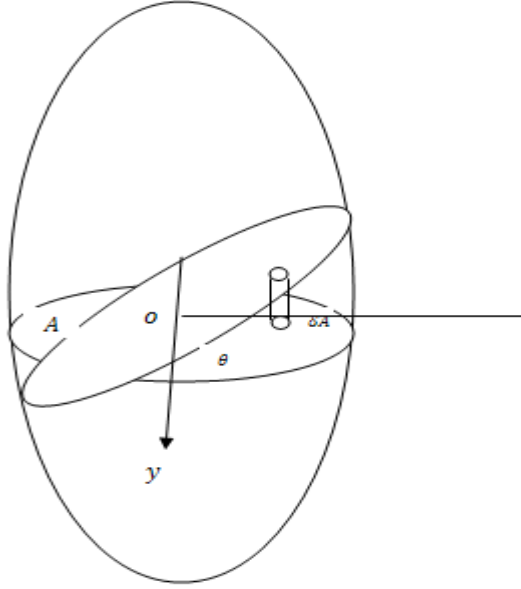
#### (أ) للازاحة الأفقية :

حيث ان مركبة ضغط الماء في الاتجاه الافقى بعد الازاحة تساوى صفر فان الجسم يترن في وضعه الجديد اى ان الاتزان بالنسبة للازاحات الافقية للجسم الطافي يكون اتزاناً متعادلاً

#### (ب) الازاحة الراسية:

اذا كانت الازاحة الى اسفل فان محصلة ضغط الماء تزداد وبذلك تكون محصلة الوزن وضغط الماء قوة راسية الى اعلى تعمل على اعادة الجسم الى وضع الاتزان مرة اخرى . واذا كانت الازاحة الى اعلى فان ضغط الماء يقل وبذلك تكون محصلة وزن الجسم وضغط الماء قوة راسية الى اسفل تعمل على اعادة الجسم الى وضع الاتزان اى ان الاتزان يكون مستقراً بالنسبة للازاحات الراسية – وعلى ذلك فان اتزان الاجسام الطافية يكون مستقراً بالنسبة للازاحات الانتقالية عموماً.

أنا قطع مستوى جسم ودار حول محوراً بزواوية صغيرة بحيث يقسمه دائماً الى حجمين ثابتين هذا المحور يمر بمركز المقطع.



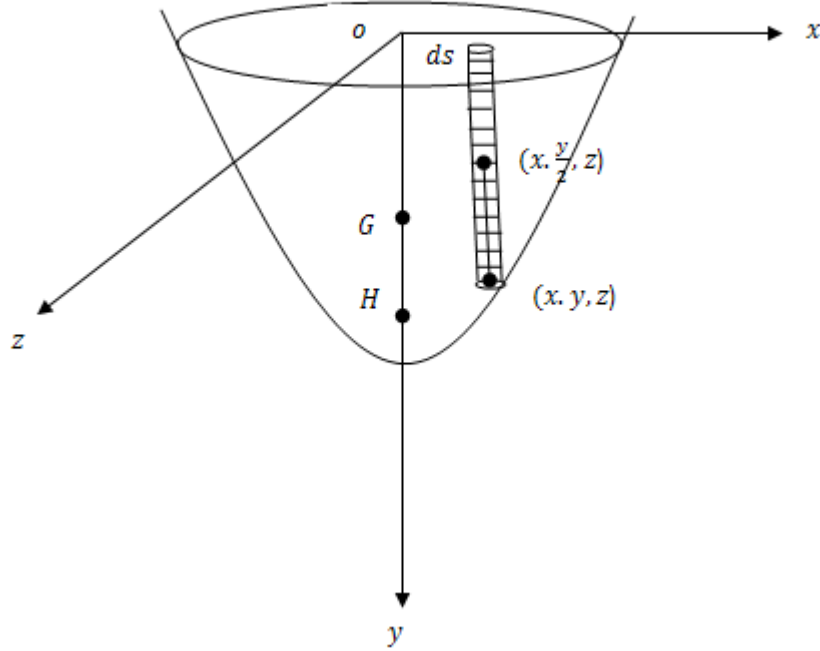
نأخذ أى وضعين للمستوى بينهما زاوية  $\theta$  ونأخذ خط التقاطع محورا للاحداثى  $y$  أما محور  $x$  فواقع فى المستوى عند احد الوضعين فى الرسم المستوى  $A$  هو مستوى الاحداثيات  $oxy$ .  
نفرض ان عنصر عند  $(x, y)$  مساحته  $\delta A$  عند دوران المستوى هذا العنصر يعطى حجما  $x \theta \delta A$ .  
∴ الزيادة الكلية فى الحجم تساوى  $\int \theta x dA = \text{صفر}$ .

$$\therefore \bar{A} x = 0$$

أى ان مركز ثقل المساحة  $A$  يقع على المحور  $y$  أى محور الدوران.

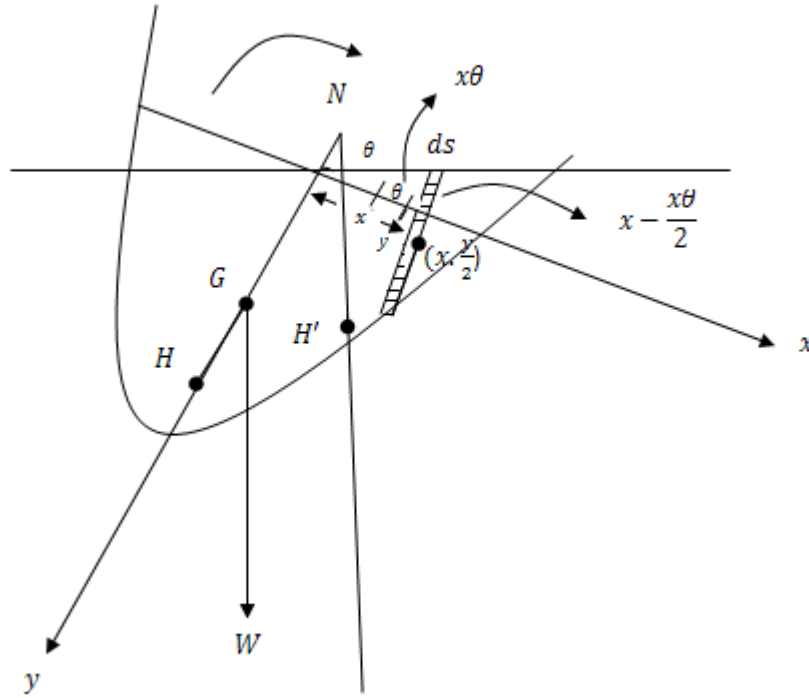
### إيجاد شرط الاتزان المستقر للازاحة الدورانية للأجسام الطافية:

نعتبر الجسم الطافى متمائل حول مستوى وفى حلة الاتزان يكون مستوى التماثل راسى. نأخذ مركز كتلة مستوى الطفو (تقاطع الجسم مع سطح السائل) تقع فى مستوى التماثل.



نفرض ان  $G$  هي مركز كتلة الجسم وان  $H$  هي مركز التعويم (اي مركز كتلة السائل المزاح) نفرض ازاحة دورانية صغيرة للجسم بدون تغيير حجم السائل المزاح وان  $H'$  هو الموضع الجديد لمركز التعويم . نفرض ان المستقيم الرأسى المار بالنقطة  $H'$  يقابل  $HG$  او امتداده في نقطة  $N$  والتي تسمى بالمركز الافقى . عند دوران الجسم بزاوية صغيرة  $\theta$  مع الرأسى فان الجسم يقع تحت تأثير قوتين هما وزنة  $W$  راسيا لاسفل ويؤثر في مركز الكتلة  $G$  وقوة دفع السائل  $W$  ايضا راسيا لاعلى (حجم السائل المزاح لم يتغير) ويؤثر في مركز التعويم  $H'$  فتكونان إزدواج. اذا كانت النقط  $N$  تقع اعلى المستوى الافقى المار بالنقط  $G$  فان هذا الازدواج يعمل على دوران الجسم وابعادة عن موضع الاتزان الاصلى وفي هذه الحالة يكون الاتزان غير المستقر. اذا انطبقت  $N$  على  $G$  فان الاتزان يكون متعادلا لذلك يجب تعيين المركز الاقصى  $N$  لمعرفة نوع الاتزان.

نفرض ان مستوى الطفو هو المستوى  $zox$  وان  $oy$  هو العمودى على هذا المستوى الذى تقع  $H, G$  عليه في وضع الاتزان الاصلى.



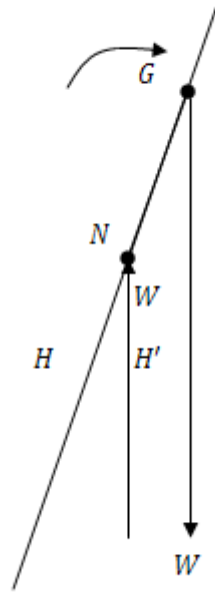
نعتبر عنصر حجم من السائل المزاح قبل الدوران يكون حجمة  $dV = ydS$  واحداثيات مركز كتلة  $(x, y/2, z)$  فيكون حجم السائل المزاح  $V = \int ydS$  وبعد الازاحة الدورانية الصغيرة  $\theta$  فان حجم العنصر

ويكون حجم السائل المزاح  $dV = (y + x\theta)dS$  حيث ان حجم السائل المزاح لم يتغير بعد  $V = \int (y + x\theta)dS$

الازاحة الدورانية الصغيرة فان  $V = V$

اي ان

$$V = \int ydS = \int (y + x\theta)dS = V \quad (1)$$



$$\therefore \int x dS = 0 \quad (2)$$

نفرض ان مركز التعويم  $H'$  في المستوى  $xoy$  هما  $\bar{x}, \bar{y}$  وباخذ العزوم حول المحورين  $ox, oy$  نجد ان

$$\begin{aligned} \bar{x} &= \frac{\int (y + x\theta) dS \cdot x}{\int (y + x\theta) dS} \\ \bar{y} &= \frac{\int y dS \cdot y/2 + \int x\theta dS \left(-\frac{x\theta}{2}\right)}{\int (y + x\theta) dS} \end{aligned} \quad (4)$$

من التماثل واستخدام المعادلة (2) واهمال الحد الذي يحتوي على  $\theta^2$  نحصل على

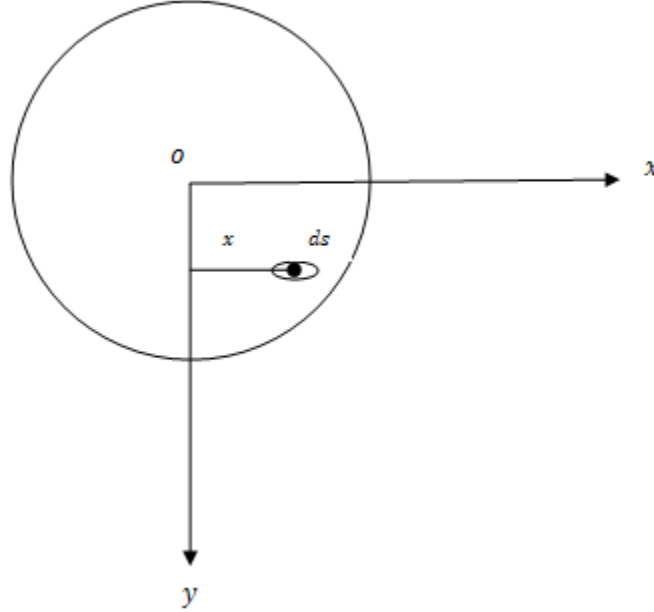
$$\bar{x} = \frac{\theta \int x^2 dS}{\int y dS} \quad (5)$$

$$\bar{y} = \frac{\int y^2 dS}{\int y dS} \quad (6)$$



$$\therefore HH' = \bar{x} = \frac{\theta I}{V} \quad (7)$$

حيث  $I$  عزم القصور الذاتي لمستوى الطفو حول محور التماثل  $oz$ ،  $V$  حجم السائل المزاح.  
لكن



$$HH' = HN \cdot \theta$$

$$HN = \frac{HH'}{\theta} = \frac{I}{V} \quad (8)$$

وذلك باستخدام (7) حيث ان

$$HN = HG + GN$$

$$GN = \frac{I}{V} - HG \quad (9)$$

لكي يكون الاتزان مستقرا يجب ان يكون  $GN > 0$ . اي ان

$$\frac{I}{V} - HG > 0$$

$$HG < \frac{I}{V} \quad (10)$$

وهذا هو شرط الكافي لكي يكون الاتزان مستقرا.

**مثال(1):**

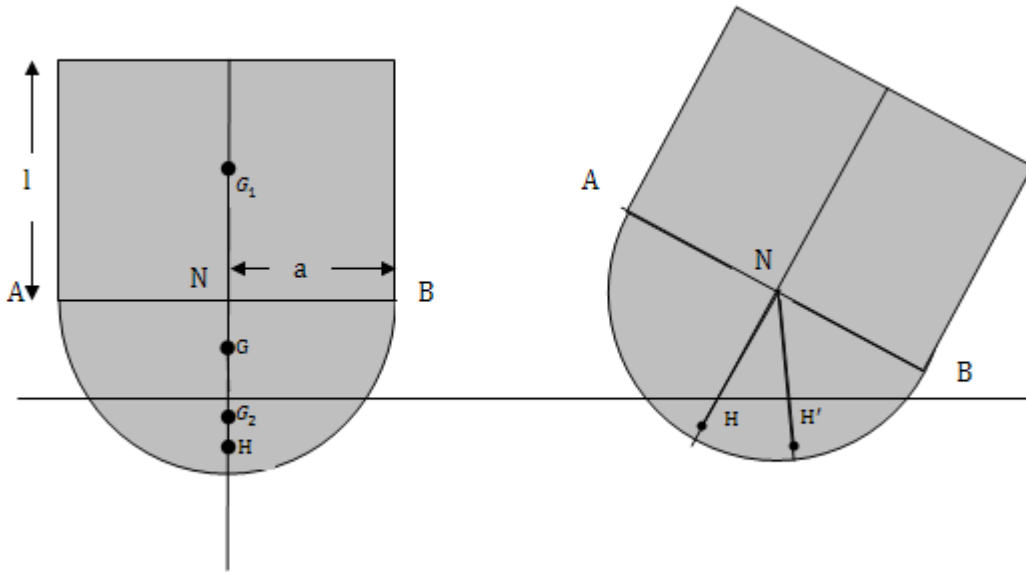
جسم مكون من اسطوانه مصمته ارتفاعها  $l$  في نهايتها نصف كرة مصمته نصف قطرها  $a$ . اذا طفا الجسم وجزء من نصف الكرة مغمور في سائل فاثبت ان الاتزان يكون مستقرا اذا كان  $l < \frac{a}{\sqrt{2}}$ .

**الحل**

واضح ان المركز الاقصى  $N$  هو القاعدة المستوية لنصف الكرة نعين مركز ثقل الجسم الطافي  $G$  باخذ العزوم حول القطر  $AB$  فنجد ان

$$\frac{2}{3} \pi a^3 \cdot \frac{3}{8} a + \pi a^2 l \cdot \left(-\frac{1}{2} l\right) = \left(\frac{2}{3} \pi a^3 + \pi a^2 l\right) GN$$

$$\therefore GN = \frac{\frac{1}{4} \pi a^4 - \frac{1}{2} \pi a^2 l^2}{\frac{2}{3} \pi a^3 + \pi a^2 l}$$



$$\begin{aligned} & \frac{1}{4}a^2 - \frac{1}{2}l^2 \\ &= \frac{\frac{2}{3}a + l}{3} \end{aligned}$$

يكون الاتزان مستقرا اذا كان

$$GN > 0$$

اي اذا كان

$$\frac{1}{4}a^2 - \frac{1}{2}l^2 > 0$$

$$l^2 < 1/2 a^2$$

$$l < \frac{a}{\sqrt{2}}$$

اي ان الاتزان مستقرا اذا كان

$$l < \frac{a}{\sqrt{2}}$$

## تمارين على الباب الخامس

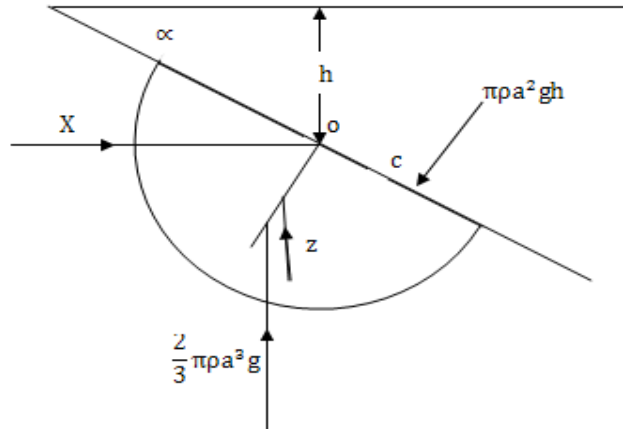
- 1- غمر مثلث في سائل . اثبت ان مجموع الضغوط عند الضغوط عند رؤوس المثلث يساوى ثلاثة امثال الضغط عند مركز كتلة المثلث.
- 2- انبوبة رفيعة منتظمة في مستوى راسى تحتوى على اربعة سوانل مختلفة متساوية الاحجام ولا تختلط السوانل ببعضها وكثافتها كنسبة 3 : 4 : 2 : 1 اثبت ان زاوية ميل القطر بين نقط انفصال السوانل الاربعة مع الرأسى تساوى  $\frac{1}{2} \tan^{-1} 2, \tan^{-1} \frac{1}{2}$ .
- 3- صفيحة على شكل نصف دائرة مغمورة رأسيا في سائل وقطرها عند سطح السائل . اثبت ان مركز الضغط يبعد مسافة  $\frac{3\pi a}{16}$  عن سطح السائل حيث  $a$  نصف قطر نصف الدائرة.
- 4- مثلث متساوى الساقين  $abc$  فية النقطة  $a$  ثابتة وارتفاع المثلث من  $a$  يساوى  $h$  والنقط  $a$  على بعد  $2h$  من سطح السائل. اثبت ان الفرق بين مركز الضغط عن  $a$  عندما يكون  $bc$  افقى فوق  $a$  او تحت  $a$  يساوى  $\frac{h}{16}$ .
- 5- مخروط دائرى قائم قسم الى جزئين بمستوى يمر بالمحور والمحور رأسى . اثبت ان الضغط المحصل على السطح المنحنى للمخروط يساوى  $\frac{1}{6} a^3 \int g \cot \alpha \sqrt{\pi^2 + 4 \cot^2 \alpha}$  فى اتجاه يصنع زاوية  $\theta$  مع الافقى حيث  $\tan \theta = \frac{\pi}{2} \tan \alpha$  حيث  $2\alpha$  زاوية راس المخروط.
- 6- علق صفيحة مربعة الشكل طول ضلعها  $2a$  من احد رؤوسها عند السطح الحر لسائل متجانس كثافته  $\rho$ . عين محصلة الضغط ومركزة .
- 7- لوح مثلث الشكل قاعدته  $2a$  وارتفاعه  $h$  غمر فى ماء كثافته  $\rho$  بحيث كان مستواه رأسى وقاعدته عند سطح الحر للماء. أوجد محصلة ضغط الماء وعين مركزه.

- 8- لوح على شكل ربع دائرة نصف قطرها  $a$  غمرت في سائل بحيث كان مستواة رأسي واحد حدية المستقيمين عند السطح الحر للسائل. اوجد محصلة الضغط على اللوح ونقطة تأثيرها .
- 9- غمرت صفيحة مساحتها  $S$  رأسيًا في سائل وكان مركز ثقلها  $G$  يقع على عمق  $h$  أسفل السطح الحر للسائل. إذا كان  $G_x, G_y$  هما المحوران الراسيان لقصور الصفيحة عند  $G$  اثبت ان المحل الهندسي لمركز الضغط  $(X, Y)$  على الصفيحة بالنسبة لهذين المحورين عندما تدور الصفيحة في مستويهما حول مركز ثقلها  $G$  هو القطع الناقص.

$$\frac{X^2}{a^4} + \frac{Y^2}{b^4} = \frac{1}{h^2}.$$

- 10- ثمن كرة مصممة نصف قطرها  $a$  غمر في سائل كثافته  $\rho$  بحيث كان احد اوجهه المستوية عند سطح السائل. عين تماما محصلة الضغط على سطح المنحنى.

- 11- جسم نصف كروي مصمت نصف قطره  $a$  غمر تماما في سائل كثافته  $\rho$  الشكل يوضح مقطع الجسم بواسطة مستوى التماثل الرأسي فيه  $h$  هو انخفاض مركز السطح الكروي للجسم عن السطح الحر للسائل، الزاوية التي يصنعها القاعدة المستوية مع الافقى . اوجد محصلة ضغط السائل على السطح الكروي للجسم.



12- مخروط اجوف خفيف ارتفاعه  $2a$  وزاوية رأسه  $2 \tan^{-1}\left(\frac{1}{2}\right)$  ملئ تماما بسائل وزنة  $W$  ثم علق من نقطة ثابتة على قاعدته . عين تماما محصلة ضغط السائل على سطح المنحنى للمخروط .

13- جسم على شكل اسطوانة مائلة غمرت تماما في سائل بحيث كانت قاعدتها أفقيتين . اثبت ان محصلة الضغط على السطح المنحنى ازدواج عزمة  $Wd \tan \alpha$  حيث  $W$  هو وزن السائل المزاح ،  $d$  عمق مركز ثقله ،  $\alpha$  ميل رواسم الجسم على الرأس.

14- قشرتان نصف كرويتان قطرها متساويان. ربط ببعضهما بمفصل من نقطة على حافتيهما بحيث يكونان معا كرة ملئت تماما بالماء من فتحة بجانب المفصل وحتى لا يتسرب الماء عند الحافتين دهنت هاتين الحافتين بمادة دهنية وعلقت الكرة من المفصل . اثبت ان نصفى الكرة لن ينفصلا اذا كان وزن القشرتين معا اكثر من ثلاثة امثال وزن الماء بالداخل .

15- اسطوانة ارتفاعها  $h$  ونصف قطرها  $a$  وكثافتها النوعية  $S$  تطفو فوق ماء بحيث كان محور الاسطوانة راسي . اوجد شرط الاتزان المستقر .

16- اسطوانة مصممة منتظمة ارتفاعها  $2h$  ومقطعها قطع ناقص طول محورية  $2a, 2b$  ( $a > b$ ) وكثافتها النوعية  $\frac{1}{2}$  . تطفو الاسطوانة فوق ماء بحيث كان ارتفاعها راسيا . اثبت ان الاتزان يكون دائما مستقرا اذا كانت  $\sqrt{2h} < b$  .

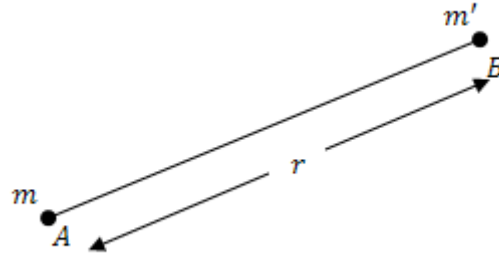
17- اذا غمرت صفيحة مستوية على شكل متوازي اضلاع في سائل بحيث كان الرأس  $A$  عند سطح السائل والقطر  $BD$  أفقيا ، فاثبت ان مركز الضغط يقع على القطر  $AC$  ويقسمه بنسبة  $5:7$  .

18- غمرت صفيحة مستوية على شكل مثلث  $ABC$  في سائل بحيث كان الرأس عند سطح السائل . اوجد موضع الخط  $DE$  الموازي ل  $BC$  والذي يقسم الصفيحة الى جزئين بحيث يكون الضغط على المساحة  $ADE$  مساويا للضغط على المساحة  $DBCE$  ، ثم بين ان موضع هذا الخط  $DE$  لا يعتمد على ميل مستوى الصفيحة على الرأس .

19- اناء على شكل متوازي مستطيلات طولة  $4 \text{ ft}$  . وعرضه  $4 \text{ ft}$  . وعمقه  $3 \text{ ft}$  . ومفتوح من اعلى . فاذا سكب في هذا الاناء ماء حتى اصبح عمقه  $2 \text{ ft}$  . ثم دار الاناء حول احد احرف قاعدته السفلى حتى اصبح الماء على وشك الانسكاب من الاناء فاوجد النسبة التى يتغير بها الضغط على القاعدة السفلى وكذلك على كل من جوانبة الغير راسية .

## الباب السادس

### المجال والجهد



نفرض ان نقطتين ماديتين عند  $A, B$  كتلتهم  $m, m'$  على الترتيب والمسافة بينهما  $r$  فتكون قوة الجذب بينهما  $F$  تتعين من قانون الجذب العام لنيوتن

$$F = \frac{\gamma m m'}{r^2} \quad (6.1)$$

حيث  $\gamma$  ثابت الجاذبية لنيوتن .

يعرف المجال  $E$  عند النقطة  $B$  الناتج من وجود الكتلة  $m$  عند  $A$  بأنه القوة التي تؤثر على وحدة الكتل عند  $B$  اي ان

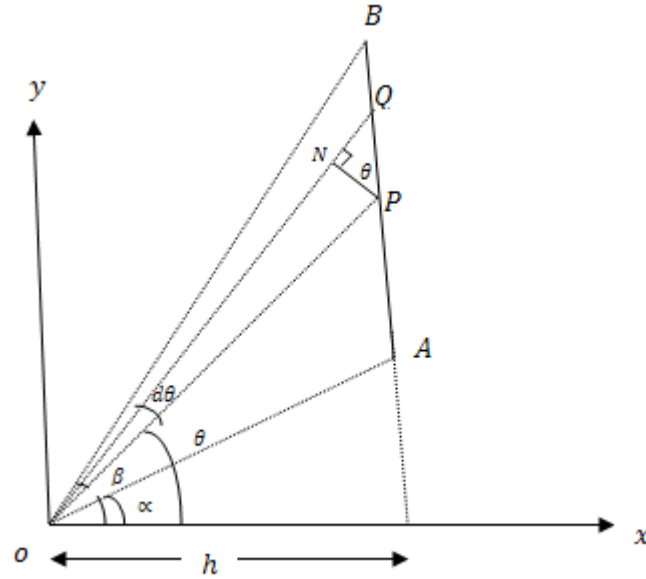
$$E = \frac{\gamma m}{r^2} \quad (6.2)$$

العلاقة (6.2) تعين مقدار المجال واتجاهه يكون في الاتجاه  $BA$  . يعرف الجهد  $v$  عند  $B$  من العلاقة

$$v = \frac{\gamma m}{r} \quad (6.3)$$

### الجذب بين سلك رفيع ونقطة مادية:

نفرض سلك  $AB$  والمطلوب ايجاد الجذب عند نقطة  $o$  التي تبعد  $h$  عن  $AB$  نأخذ المحور  $ox$  عموديا على السلك  $AB$  ،  $oy$  وموازيا للسلك حيث  $oA, oB$  يصنعان زاويتين  $\alpha, \beta$  مع المحور  $ox$  .



ناخذ عنصر من السلك  $pQ$  حيث  $op, oQ$  يصنعان زاويتين  $\theta, \theta + d\theta$  مع المحور  $ox$  على الترتيب. المجال عند  $o$  بسبب العنصر  $pQ$  يتعين مقداره من

$$dE = \frac{\gamma \sigma \cdot pQ}{(op)^2} \quad (6.4)$$

حيث  $\sigma$  كتلة وحدة الطول من السلك . نزل العمود  $pN$  على  $oQ$  فتكون الزاوية  $NpQ$  مساوية  $\theta$  ونجد ان

$$pQ = pN \cdot \sec \theta \quad (6.5)$$

حيث ان

$$pN = op \cdot d\theta \quad (6.6)$$

بالتعويض من (6.6) في (6.5) نجد ان

$$pQ = op \cdot \sec \theta \cdot d\theta \quad (6.7)$$

ويكزن مقدار مجال العنصر مساويا

$$\begin{aligned} dE &= \frac{\gamma \sigma \cdot op \cdot \sec \theta \cdot d\theta}{(op)^2} \\ &= \frac{\gamma \sigma \sec \theta \cdot d\theta}{op} \\ &= \frac{\gamma \sigma}{h} d\theta \end{aligned} \quad (6.8)$$



وذلك لان  $op = h \sec \theta$ .

مركبتا المجال  $dE_y, dE_x$  فى اتجاهى  $oy, ox$  يتعينان من

$$dE_y = \frac{\gamma \sigma}{h} \cos \theta d\theta, \quad (6.9)$$

$$dE_x = \frac{\gamma \sigma}{h} \sin \theta d\theta, \quad (6.10)$$

مركبة المجال للسلك  $AB$  فى اتجاه  $ox$  نحصل عليها بتكامل (6.9) ونجد ان

$$E_x = \frac{\gamma \sigma}{h} \int_{\alpha}^{\beta} \cos \theta d\theta, \quad (6.11)$$

$$\therefore E_x = \frac{\gamma \sigma}{h} (\sin \beta - \sin \alpha)$$

بالمثل مركبة المجال  $E_y$  للسلك  $AB$  فى اتجاه  $oy$  يتعين من

$$E_y = \frac{\gamma \sigma}{h} \int_{\alpha}^{\beta} \sin \theta d\theta, \quad (6.12)$$

$$\therefore E_y = \frac{\gamma \sigma}{h} (\cos \alpha - \cos \beta)$$

ويكون مقدار المجال  $E$  هو محصلة المركبتين  $E_y, E_x$  اى ان

$$E = \sqrt{E_y^2 + E_x^2} \quad (6.13)$$

بالتعويض عن قيمتى  $E_y, E_x$  من (6.11)(6.12) فى (6.13) نجد ان

$$E = \frac{\gamma \sigma}{h} \sqrt{(\sin \beta - \sin \alpha)^2 + (\cos \alpha - \cos \beta)^2}$$

$$= \frac{\gamma \sigma}{h} \sqrt{2 - 2(\cos \alpha \cos \beta + \sin \beta \sin \alpha)}$$

$$= \frac{\gamma \sigma}{h} \sqrt{2 - 2 \cos (\alpha - \beta)}$$

$$\therefore E = \frac{\gamma \sigma}{h} \sqrt{2 \left[ 2 \sin^2 \left( \frac{\alpha - \beta}{2} \right) \right]}$$

$$= \frac{2\gamma \sigma}{h} \sin \left( \frac{\alpha - \beta}{2} \right) \quad (6.14)$$

وذلك باستخدام المتطابقات المثلثية

$$\cos^2 \phi + \sin^2 \phi = 1$$

$$\cos(\phi - \psi) = \cos \phi \cos \psi + \sin \phi \sin \psi,$$

$$\cos 2\phi = 1 - 2 \sin^2 \phi$$

اتجاه المجال يصنع زاوية  $\psi$  مع  $ox$  حيث

$$\tan \psi = \frac{E_y}{E_x} \quad (6.15)$$

بالتعويض عن قيمتى  $E_y, E_x$  من (6.11)(6.12) فى (6.15) نجد ان

$$\tan \psi = \frac{\cos \alpha - \cos \beta}{\sin \beta - \sin \alpha} \quad (6.16)$$

باستخدام المتطابقتين المثلثية

$$\cos \alpha - \cos \beta = 2 \sin \left( \frac{\alpha + \beta}{2} \right) \sin \left( \frac{\alpha - \beta}{2} \right),$$

$$\sin \beta - \sin \alpha = 2 \cos \left( \frac{\alpha + \beta}{2} \right) \cos \left( \frac{\alpha - \beta}{2} \right),$$

فان (6.16) تصبح على الصورة

$$\tan \psi = \tan \left( \frac{\alpha - \beta}{2} \right) \quad (6.17)$$

اى ان

$$\psi = \frac{\alpha - \beta}{2} \quad (6.18)$$

المعادلة (6.18) تعنى ان المجال  $E$  يكون فى اتجاه منصف الزاوية  $AOB$  كما بالشكل.

### نتائج

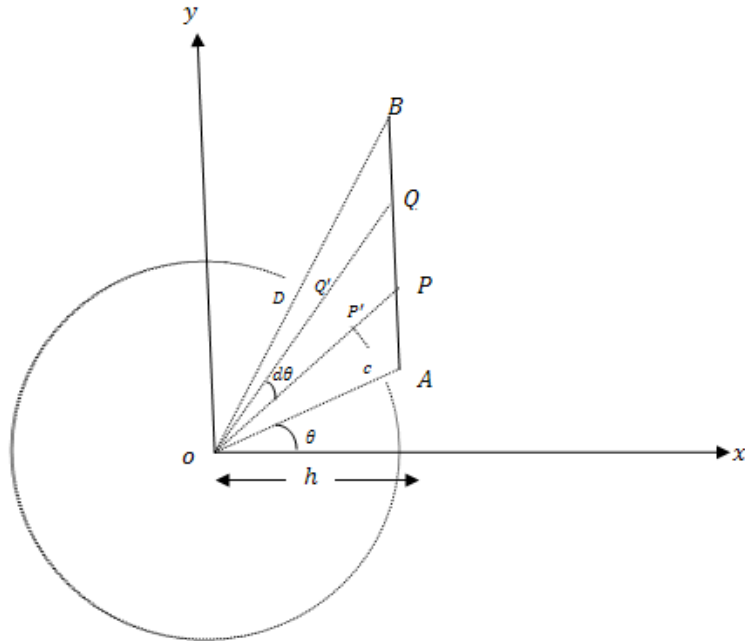
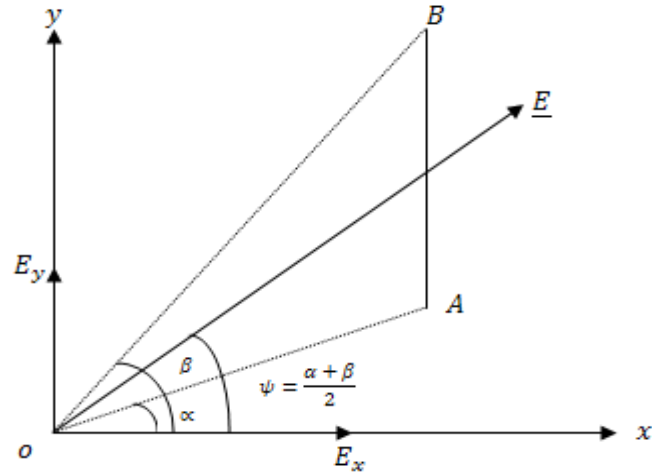
(1) اذا امتد السلك الى  $\infty$  من كلتا نهايتين فان فى هذه الحالة  $\alpha = -\frac{\pi}{2}$  ,  $\beta = \frac{\pi}{2}$  ونجد ان

$$E = \frac{2\gamma\sigma}{h} \sin \left[ \frac{1}{2} \left( \frac{\pi}{2} - \left( -\frac{\pi}{2} \right) \right) \right]$$

$$= \frac{2\gamma\sigma}{2} \sin \frac{\pi}{2} = \frac{2\gamma\sigma}{2} \quad (6.19)$$

واتجاهه فى اتجاه  $ox$ .

(2) من نقطة الاصل  $o$  نرسم دائرة نصف قطرها يساوي  $h$  ونفرض انها تقطع المستقيمين  $oA, oB$  في  $D, C$  على التوالي.



نتصور ان القوس  $CD$  يمثل سلكا رفيعا كثافته  $\sigma$  فيكون مجال العنصر  $P'Q'$  الذي طوله  $hd\theta$  مساويا.

$$dE = \frac{\gamma\sigma \cdot hd \theta}{h^2} = \frac{\gamma\sigma}{h} d\theta$$

المعادلة الاخيرة هي نفسها المعادلة (6.8) والتي تعين مجال العنصر  $pQ$  من السلك  $AB$ .  
 اى ان مجال العنصر  $P'Q'$  من القوس  $CD$  يساوى مجال العنصر  $pQ$  من السلك المستقيم  $AB$ .  
 ومن ذلك نستنتج ان مجال السلك الذى على شكل قوس من دائرة  $CD$  هو نفسه مجال السلك المستقيم  $AB$  والذى سبق الحصول عليه وتعيينه مقدارا واتجاها بالمعادلتين (6.14), (6.18) على الترتيب.

(3) اذا كانت  $o$  على امتداد السلك  $AB$  فان  $E_x = o$  فى هذه الحالة فان



$$E = E_y = \frac{\gamma\sigma}{h} (\cos \alpha - \cos \beta) \quad (6.20)$$

نلاحظ ان

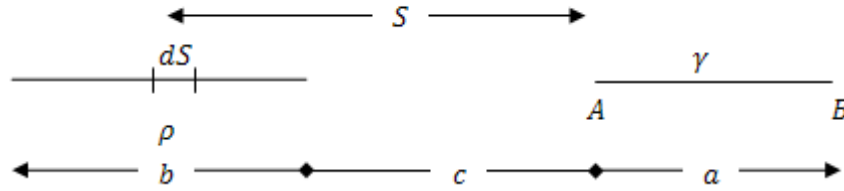
$$\cos \alpha = \frac{h}{oA}, \cos \beta = \frac{h}{oB} \quad (6.21)$$

وبالتالى يمكن كتابة (6.20) باستخدام (6.21) فى الصورة

$$\begin{aligned} E = E_y &= \gamma\sigma \left( \frac{1}{oA} - \frac{1}{oB} \right) \\ &= \gamma\sigma \cdot \frac{oB - oA}{oA \cdot oB} \end{aligned}$$

$$= \frac{\gamma \sigma \cdot AB}{oA \cdot oB} \quad (5.22)$$

### الجذب المتبادل بين سلكين رفيعين على استقامة واحدة



جذب السلك الاول (طوله  $a$ ) لعنصر طوله  $ds$  من السلك الثاني (طولة  $b$ ) كما بالشكل يتعين من

$$dE = \frac{\gamma \sigma a \cdot p \, ds}{s(s+a)} \quad (6.23)$$

وذلك باستخدام النتيجة (6.22) حيث  $\rho, \sigma$  هما كثافتى السلكين الاول والثاني على الترتيب. بالتكامل نجد ان قوة الجذب المتبادل بين السلكين تساوى

$$E = \gamma \sigma \rho a \int_c^{c+b} \frac{ds}{s(s+a)} \quad (6.24)$$

باستخدام الكسور الجزئية فان

$$\frac{1}{s(s+a)} = \frac{1}{a} \left[ \frac{1}{s} - \frac{1}{s+a} \right] \quad (6.25)$$

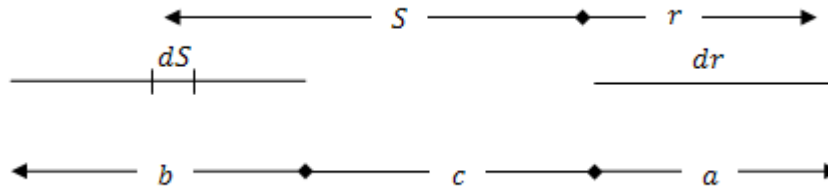
بالتعويض من (6.25) في (6.24) نجد ان

$$\begin{aligned} E &= \gamma \sigma \rho \int_c^{c+b} \left( \frac{1}{s} - \frac{1}{s+a} \right) ds \\ &= \gamma \sigma \rho \left[ \ln s - \ln(s+a) \right]_c^{c+b} \\ &= \gamma \sigma \rho \ln \left( \frac{s}{s+a} \right) \Big|_c^{c+b} \\ &= \gamma \sigma \rho \left[ \ln \left( \frac{c+b}{c+b+a} \right) - \ln \left( \frac{c}{c+a} \right) \right] \end{aligned}$$

$$\therefore E = \gamma \sigma \rho \ln \left[ \frac{(c+b)(c+a)}{c(c+a+b)} \right] \quad (6.26)$$

### ملحوظة

يمكن الحصول على النتيجة (6.26) بطريقة مباشرة ودون الاستعانة بالنتيجة السابقة (6.22) والتي تعين جذب سلك رفيع لنقطة مادية على امتداده وذلك باستخدام التكامل الثنائي كالاتي



الجذب المتبادل بين عنصرين طوليهما  $ds, dr$  من السلكين يتعين من

$$dE = \frac{\gamma \sigma dr \cdot \rho ds}{(r+s)^2}$$

ويكون الجذب المتبادل بين السلكين مساويا

$$E = \gamma \sigma \rho \int_{s=c}^{s=c+b} \int_{r=0}^{r=a} \frac{dr ds}{(r+s)^2} \quad (6.27)$$

باجراء التكامل بالنسبة الى  $r$  نجد ان

$$\begin{aligned} E &= -\gamma \sigma \rho \int_{s=c}^{s=c+b} \left[ \frac{1}{r+s} \right]_{r=0}^{r=a} ds \\ &= \gamma \sigma \rho \int_c^{c+b} \left( \frac{1}{s} - \frac{1}{s+a} \right) ds \end{aligned}$$

نلاحظ ان التكامل بالنسبة الى  $s$  هو نفسه التكامل الذي سبق حسابه ونحصل على نفس النتيجة السابقة.

### نتيجة

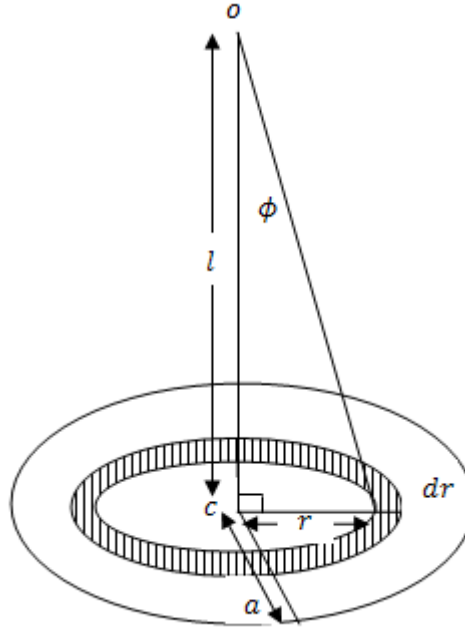
اذا كان احد السلكين لا نهائيا فان الجذب المتبادل يظل محدودا فمثلا اذا كان السلك الاول لا نهائيا ، اي ان

فان  $a = \infty$

$$E = \gamma \sigma \rho \lim_{a \rightarrow \infty} \ln \left[ \frac{(c+b)(c+b)}{a(a+b+c)} \right]$$

$$= \gamma \sigma \rho \ln \left( \frac{c+b}{c} \right) \quad (6.28)$$

### الجذب بين قرص دائري ونقطة مادية على محوره.



نقسم القرص الى حلقات ونعتبر احدهما نصف قطرها  $r$  وسمكها  $dr$  من التماثل يتضح ان الجذب يكون محوريا اي في اتجاه  $oc$  ويتعين من

$$dE = \frac{\gamma dm}{y^2 + l^2} \cos \phi \quad (6.29)$$

حيث  $dm$  كتلة الحلقة وتساوى  
(6.30)

$$dm = 2\pi r \sigma dr$$

بالتعويض عن كتلة العنصر من (6.30) في (6.29) نجد ان

$$dE = \frac{2\pi \gamma \rho l r dr}{(r^2 + l^2)^{3/2}} \quad (6.31)$$

وذلك باستخدام

$$\cos \phi = \frac{1}{\sqrt{r^2 + l^2}} \quad (6.32)$$

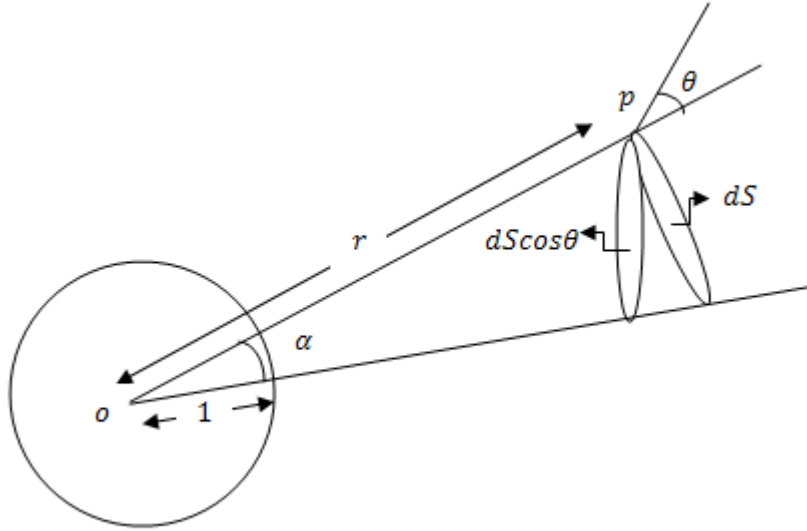
ويكون جذب القرص للنقطة المادية مساويا

$$E = 2\pi \gamma \sigma l \int_0^a \frac{r dr}{(r^2 + l^2)^{3/2}} \quad (6.33)$$

بإجراء التكامل في (6.33) نجد أن

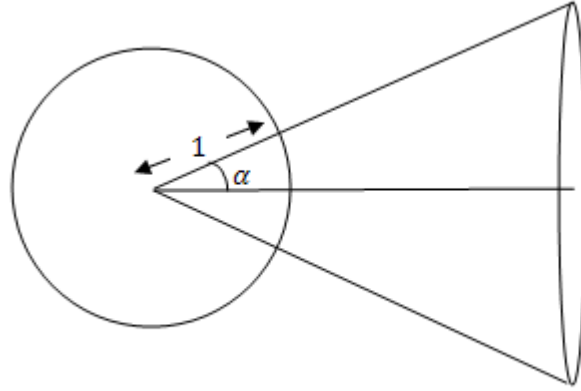
$$\begin{aligned} E &= -2\pi \gamma \sigma l (r^2 + l^2)^{-\frac{1}{2}} \Big|_0^a \\ &= -2\pi \gamma \sigma l \left[ \frac{1}{\sqrt{a^2 + l^2}} - \frac{1}{l} \right] \\ &= 2\pi \gamma \sigma \left[ 1 - \frac{l}{\sqrt{a^2 + l^2}} \right] \end{aligned} \quad (6.34)$$

### الزاوية المجسمة



نفرض ان مخروط راسه عند  $o$ . الزاوية المجسمة للمخروط هي المساحة التي يقطعها المخروط على سطح كرة نصف قطرها الوحدة ومركزها يقع عند راس المخروط  $o$ .  
نفرض ان عنصر مساحة  $dS$  يقابل الزاوية المجسمة  $d\omega$  وان العمودي على المساحة  $dS$  ويعمل زاوية حادة  $\theta$  مع  $op$  كما بالشكل.  
من هندسة الشكل فان





$$\frac{ds \cos \theta}{dw} = \frac{r^2}{1}$$

$$\therefore dw = \frac{ds \cos \theta}{r^2} \quad (6.35)$$

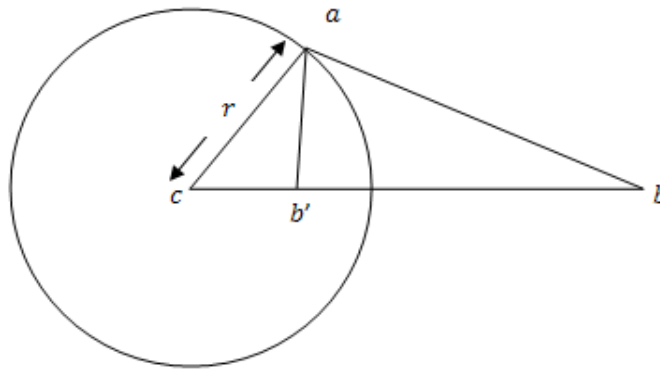
علندلك تكون الزاوية المجسمة للمخروط الدائرى القائم الذى زاوية راسه  $2\alpha$  تساوى مساحة الطاقية التى ارتفاعها  $1 - \cos \alpha$

اى أن

$$\omega = 2\pi(1 - \cos \alpha)$$

(6.36)

### النقطة العكسية



إذا كانت  $b$  نقطة خارج كرة نصف قطرها  $r$  ومركزها  $c$  فإنه توجد نقطة  $b'$  تسمى النقطة العكسية للنقطة  $b$  حيث

$$cb' \cdot cb = r^2 \quad (6.37)$$

يمكن كتابة (5.37) في الصورة

$$\frac{cb'}{r} = \frac{r}{cb} \quad (6.38)$$

المعادلة (6.38) تعنى أن المثلثية  $cba$  ,  $cab'$  متشابهان

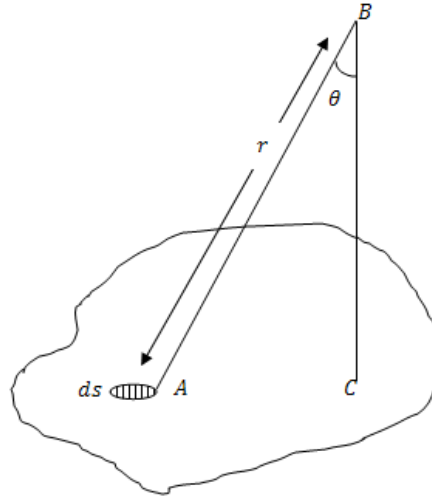
### مجال صفيحة مستوية عند نقطة خارجها.

نقسم الصفيحة المستوية إلى عناصر ونعتبر أحدها الذي مساحته  $ds$  مجال العنصر عند  $B$  يساوى

$$\frac{\gamma \sigma ds}{r^2}$$

وفى الاتجاه  $AB$  حيث  $r$  هي البعدين  $B$  والعنصر  $ds$  وعند  $A$  المركبة العمودية للمجال (أي في الاتجاه العمودي على الصفيحة) تساوى

$$dE = \frac{\gamma \sigma ds}{r^2} \cos \theta \quad (6.39)$$



باستخدام العلاقة (3.35) فإن (6.39) تأخذ الصورة البسيطة

$$dE = \gamma \sigma d\omega \quad (3.40)$$

حيث  $d\omega$  هي الزاوية المجسمة التي يحددها العنصر  $ds$  عند  $B$ .

بتكامل (6.40) نحصل على

$$E = \gamma \sigma \omega$$

(3.41)

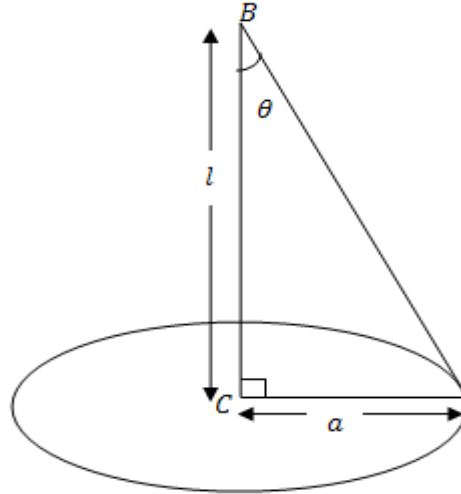
حيث  $\omega$  هي الزاوية المجسمة التي تحصرها الصفيحة عند  $B$ .

### أمثلة

#### مثال (1):

استخدام المعادلة (6.41) لإيجاد مجال قرص دائري عند نقطة  $B$  الواقعة على العمودي علي مستوي القرص ويمر بالمركز  $c$ .

### الحل

حيث ان الزاوية المجسمة التي تحصرها الدائرة عند  $B$  تتعين من

$$\omega = 2\pi(1 - \cos \theta).$$

باستخدام المعادلة (6.41) نجد أن

$$E = 2\pi \gamma \sigma (1 - \cos \theta)$$

حيث أن

$$\cos \theta = \frac{l}{\sqrt{l^2 + a^2}}$$

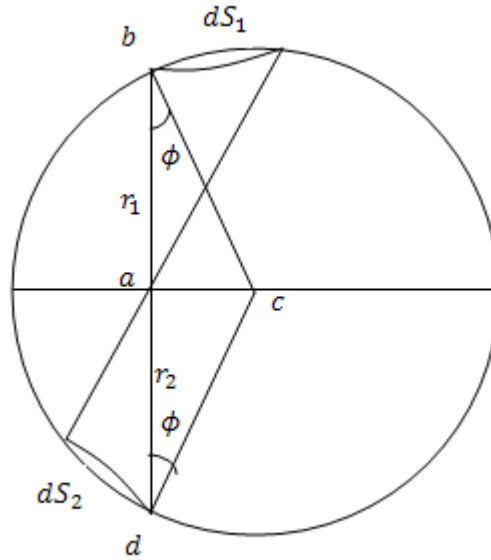
$$E = 2\pi \gamma \sigma \left( 1 - \frac{l}{\sqrt{l^2 + a^2}} \right)$$

وهي نفس النتيجة التي حصلنا عليها فيما سبق.

### مثال (2):

اثبت أن مجال قشرة كروية عند نقطة داخلها يساوى صفر وان مجال القشرة عند نقطة خارجها هو نفس المجال لجسيم عند مركز الكرة وكتلته تساوى كتلة القشرة.

### الحل



أولاً: عند نقطة داخل القشرة  $a$ .

نأخذ عنصر مساحة  $ds_1$  على سطح القشرة الكروية يحصر زاوية مجسمة  $d\omega$  عند  $a$  المطلوب حساب المجال عندها.

نفرض إن  $d\omega$  تقابل القشرة الكروية من الجهة الأخرى في المساحة  $ds_2$ .

$$\therefore d\omega = \frac{ds_1 \cos \phi}{r_1^2} = \frac{ds_2 \cos \phi}{r_2^2} \quad (1)$$

حيث  $r_2 = ad$  ,  $r_1 = ab$  مجال العنصر  $ds_1$  عند  $a$  يتعين من

$$dE_1 = \frac{\gamma \sigma ds_1}{r_1^2} \quad (2)$$

من (1) فان

$$\frac{ds_1}{r_1^2} = \frac{d\omega}{\cos \phi}$$

بالتعويض في (2) نجد إن

$$dE_1 = \frac{\gamma \sigma}{\cos \phi} d\omega \quad (3)$$

وفي الاتجاه  $ab$  .

بالمثل مجال العنصر  $ds_2$  عند  $a$  يتعين من

$$dE_2 = \frac{\gamma \sigma ds_2}{r_2^2} \quad (4)$$

باستخدام (1) نجد إن (4) تأخذ الصورة

$$dE_2 = \frac{\gamma \sigma}{\cos \phi} d\omega \quad (5)$$

وفي الاتجاه  $ad$  .

من (3)،(5) نجد أن مجال العنصرين  $ds_2, ds_1$  عند نقطة  $a$  متساوي في المقدار ومتضاد في الاتجاه ، اى أن محصلة مجال العنصرين عند  $a$  يساوى الصفر، وحيث انه يمكن تقسيم سطح القشرة الكروية إلى عناصر  $ds_1$  في جهة وعناصر مقابلة  $ds_2$  فى الجهة الاخرى من  $a$  فأننا نستنتج أن المجال الكلي للقشرة عند نقطة داخلها فإن  $a$  يساوي صفر

**ثانياً :** عند نقطة خارج القشرة  $a$

مجال العنصر  $ds$  عند  $a$  يساوي  $\frac{\gamma \sigma ds}{r^2}$  وفي الاتجاه  $ab$  .

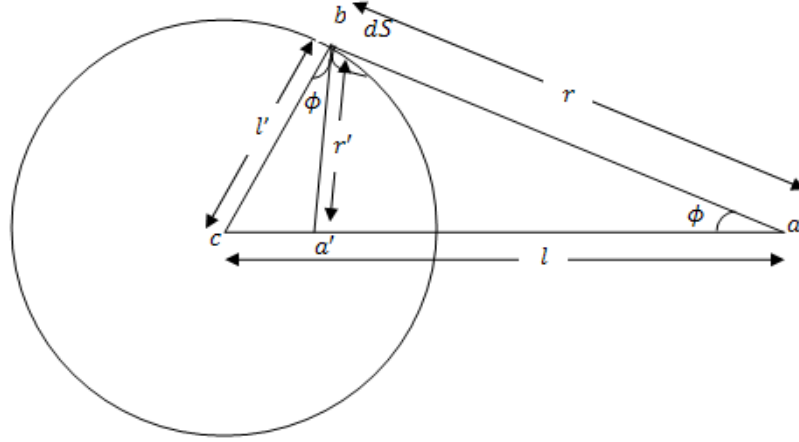
مركبة مجال العنصر  $ds$  في الاتجاه  $ac$  تساوي

$$dE = \frac{\gamma \sigma ds}{r^2} \cos \phi \quad (6)$$

نفرض أن  $a'$  هي النقطة العكسية للنقطة  $a$  وأن العنصر  $ds$  يحصد عند  $a'$  زاوية  $d\omega$  حيث

$$d\omega = \frac{ds \cos \phi}{r'^2} \quad (7)$$

من (6),(7) نجد أن



$$dE = \frac{\gamma \sigma r'^2}{r^2} d\omega \quad (8)$$

بتغير العنصر  $ds$  على سطح القشرة الكروية يتغير كل من  $r, r'$  ولكن من تعريف النقطة العكسية  $a'$  للنقطة  $a$  فإن المثلثية  $cba, ca'b$  يكونان متشابهين وينتج أن

$$\frac{a'b}{ba} = \frac{cb}{ca}$$

أي أن

$$\frac{r'}{r} = \frac{l'}{l} \quad (9)$$

أي أن النسبة بين  $r, r'$  تظل ثابتة لجميع العناصر  $ds$ .  
بالتعويض من (9) في (8) نجد أن

$$dE = \frac{\gamma \sigma l'^2}{l^2} d\omega$$

بالتكامل نجد أن

$$E = \frac{\gamma \sigma l'^2 \omega}{l^2}$$

حيث  $\omega$  هي الزاوية المجسمة للقشرة الكروية عند  $a'$  وتساوي  $4\pi$  ونجد ان

$$E = \frac{4\pi \gamma \sigma l'^2}{l^2}$$

حيث ان كتلة القشرة الكروية  $m$  تساوى

$$m = 4\pi \sigma l'^2$$

$$\therefore E = \frac{\gamma m}{l^2} \quad (10)$$

العلاقة (10) تعين مجال القشرة الكروية عند نقطة خارجها مثل  $a$  ونستنتج ان مجال القشرة الكروية عند نقطة خارجها يساوى مجال جسيم كتلته تساوى كتلة القشرة الكروية وموضوع عند مركز الكرة  $c$ .

### مثال (3)

اثبت أن جهد مخروط أجوف كتلته  $m$  عند رأس المخروط يساوى  $\frac{2\gamma m \cos \alpha}{h}$  حيث  $h$  ارتفاع المخروط ،  $2\alpha$  زاوية راسه.

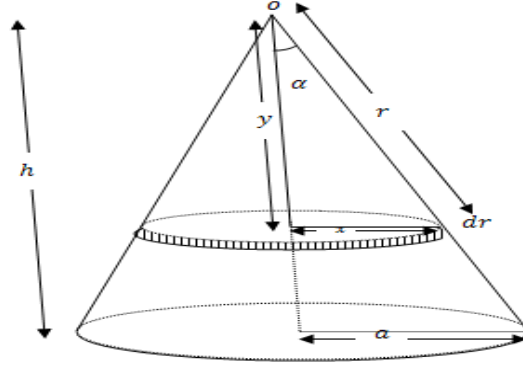
### الحل

نقسم المخروط الأجوف إلى عناصر كل منها عبارة عن حلقة ونعتبر إحدى هذه الحلقات.

جهد العنصر (الحلقة) عند راس المخروط  $o$  يتعين من

$$dv = \frac{\gamma dm}{r} \quad (1)$$

حيث  $dm$  كتلته العنصر وتساوى



$$dm = 2\pi \times \sigma \times dr$$

$$dv = \frac{2\pi \gamma \sigma \times dr}{r}$$

$$\sin \alpha = \frac{x}{r}$$

بالتعويض من (2) في (1) نجد أن

(3)

من الشكل نجد ان

(4)

من (3)، (4) نحصل على

$$dv = 2\pi \gamma \sigma \sin \alpha \times dr$$

جهد المخروط الأجوف كله عند رأسه  $o$  يتعين من

$$v = 2\pi \gamma \sigma \sin \alpha \int_0^{h \sec \alpha} dr$$

حيث طول راسم المخروط يساوى  $h \sec \alpha$ .

$$\therefore v = 2\pi \gamma \sigma \sin \alpha \times h \sec \alpha$$

$$v = 2\pi \gamma \sigma \times h \tan \alpha$$

(5)

تم بحمد الله تعالى وتوفيقه  
د/ رمضان عبدالله محمد